



第 11 课时 整理和复习 [教材 P_{24~26}]



开心！一练

一 把 20 以内的所有退位减法算式填完整。

9	8			5		3	2
11-2		11-4		11-6		11-8	
12-3	12-4		12-6				
13-4		13-6			13-9		
	14-6		14-8	14-9			
15-6		15-8	15-9				
	17-9						
18-9							

观察减法表,我发现:横着看,()相同;竖着看,()相同。(填“被减数”“减数”或“差”)

二

好孩子评比	
小冬	★ ★ ★ ★ ★ ★ ★ ★
小红	★ ★ ★ ★ ★ 小红得了14颗星。
小文	★ ★ ★ ★ ★ ★ ★



小红比小冬多得了几颗星?

$$\square \bigcirc \square = \square \text{ (颗)}$$

三 我会口算。

$16 - 9 =$

$15 - 9 =$

$11 - 2 =$

$16 - 7 =$

$12 - 3 =$

$15 - 8 =$

$11 - 4 =$

$12 - 4 =$

$16 - 8 =$

$17 - 8 =$

$13 - 7 =$

$18 - 9 =$

四 我能都算对。

$13 - 8 + 5 =$

$8 + 9 - 7 =$

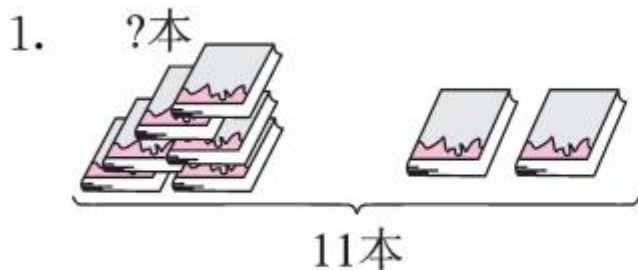
$15 - 7 + 9 =$

$16 - 8 + 9 =$

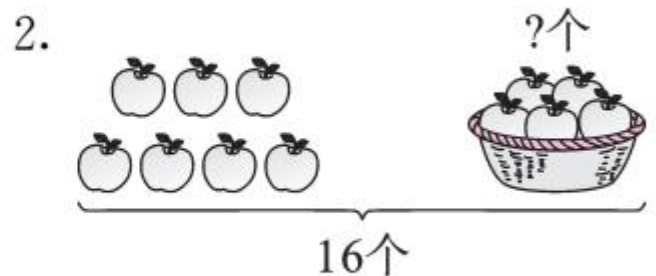
$12 - 3 + 9 =$

$14 - 7 + 8 =$

五 看图列算式。



$\square \bigcirc \square = \square \text{ (本)}$



$\square \bigcirc \square = \square \text{ (个)}$

六 公交站点共有 14 个人在等候上车,其中有 6 个小孩。




已经上去了几个人?

$\square \bigcirc \square = \square \text{ (个)}$

七

我们一共做了15朵花，
其中黄色的有6朵。



我做了8朵。

小丽

小新

小新做了几朵？

$$\square \bigcirc \square = \square \quad (\quad)$$

八

网络安全知识竞赛中。

1. 小红比小亮少答对多少道题？

$$\square \bigcirc \square = \square \quad (\quad)$$

2. 小亮比小红多答对多少道题？

$$\square \bigcirc \square = \square \quad (\quad)$$




我答对了
13道题。

小亮

我答对了
9道题。

小红

九 1.  比  多几个?

		
14 个	8 个	5 个

2. 你还能提出其他数学问题并解答吗?



秒算

$15 - 5 =$

$18 - 9 =$

$11 - 4 =$

$13 - 4 =$

$16 - 3 =$

$12 - 6 =$

$12 - 7 =$

$6 + 9 =$