



第 8 课时 解决问题(1) [教材 P<sub>20</sub>]





# 开心! 一练

一 树上还有多少只猴子?



树上原来有16只猴子, 9只小鸟。

下来了7只猴子。



( )  
这个信息没有用上。




$$\square \bigcirc \square = \square \text{ (只)}$$

二



今年一共收了 14 个 , 5 个 , 送给山羊伯伯 6 个 .



我还剩几个  ?

$$\square \bigcirc \square = \square \text{ (个)}$$

三 手工组有 13 人,折了 8 个 ,男生有 7 人,女生有几人?

$$\square \bigcirc \square = \square (\text{人})$$



### 快乐!提升

四 车上共坐了多少位乘客?




女生有 6 人,还有  
3 个座位空着。



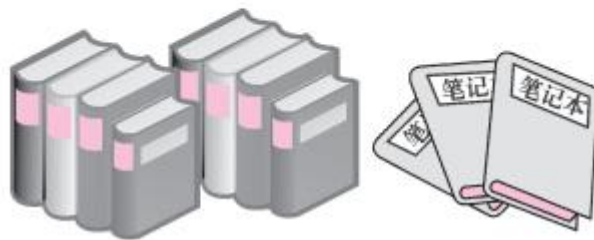
限载乘客 12 人

$$\square \bigcirc \square = \square (\text{位})$$



五 (秦皇岛市海港区)明明买了 15 本课外书和 13 个笔记本,其中有 7 本故事书,其他类的书有几本?

$$\square \bigcirc \square = \square \text{ (本)}$$





## 秒算

$6+9=$

$9-7=$

$10+9=$

$13-5=$

$8+8=$

$7+4=$

$11-6=$

$14-6=$