

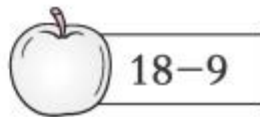
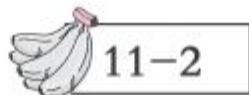


第 7 课时 练习课 [教材 P_{18~19}]



开心! 一练

一 它们要吃什么? (连线)



二 我会算。

$11-4+7=$

$12-3+2=$

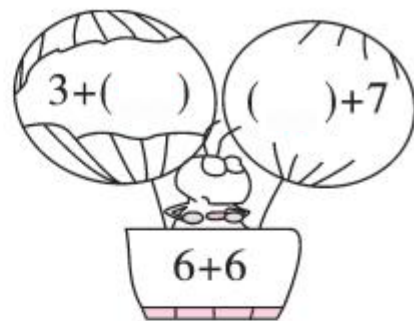
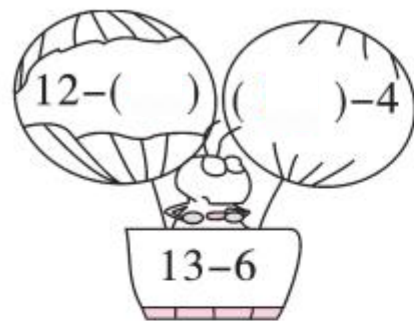

$6+7-5=$

$12-5+6=$

$13-4+8=$


$9+3-4=$

三 每组算式得数相同,它们就能又稳又快地上升了。(填一填)



快乐!提升

四



1. 一共摘了 14 颗草莓。吃了 8 颗,还剩几颗?


$$\square \bigcirc \square = \square \text{ (颗)}$$

2. 一共有 14 只小刺猬。右边有 5 只,左边有几只?

$$\square \bigcirc \square = \square \text{ (只)}$$



五 小兔可能选哪两根萝卜？算一算，连一连。



我要选差是6
的两根萝卜。

