

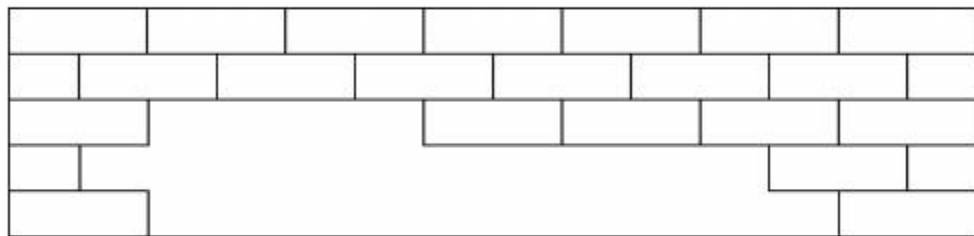


第 4 课时 练习课 [教材 P_{5~7}]



开心！一练

一 缺了几块？



缺了()块 。

二 (河北秦皇岛市)用哪个物体可以画出左边的图形？请把它圈起来。

三 (台州市黄岩区) 右边的图形是长方体的哪个面? 用线连起来。



下面



左面

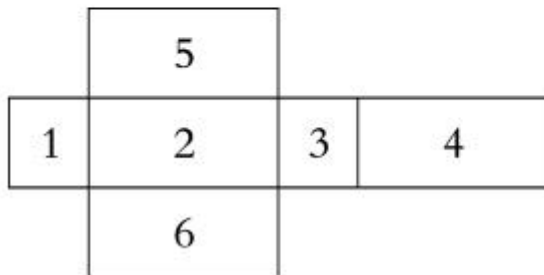


后面



快乐! 提升


四 (唐山市古冶区) 用硬纸板做一个长方体。







“1”的对面是“()”。

“5”的对面是“()”。

“()”的对面是“4”。



五【拓展题】把一张长方形纸剪成大小相等的四块,你能想出几种剪法?(画一画,至少画出3种)





秒算

$$6-3=$$

$$8-2=$$

$$7+4=$$

$$3+8=$$

$$8-7=$$

$$3+6=$$

$$10+5=$$

$$4+7=$$