



第 3 课时 七巧板 [教材 P₄]

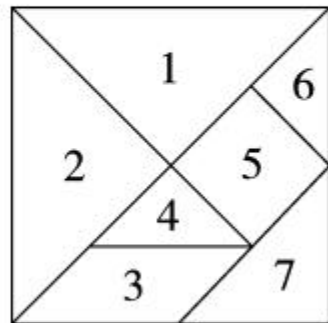




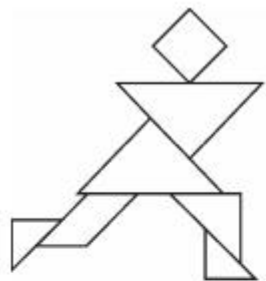
开心! 一练

一 (石家庄市赵县) 数一数, 填一填。

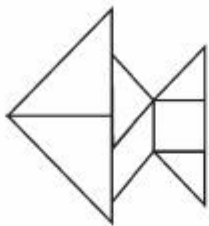
1. 七巧板上 1 号图是()形, 5 号图是()形,
3 号图是()形。()号图和()号
图完全一样。
2. 七巧板上共有()种图形。
3. 三角形有()个, 平行四边形有()个。



二 用七巧板照样子拼一拼,想一想,它们像什么?



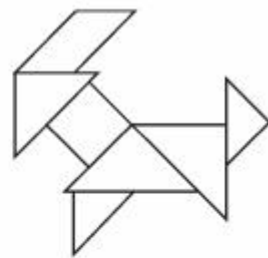
像()



像()



像()



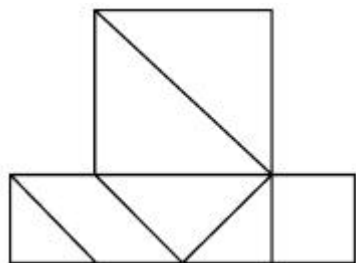
像()



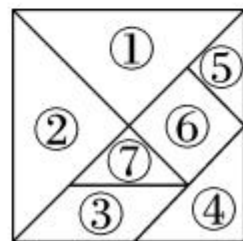
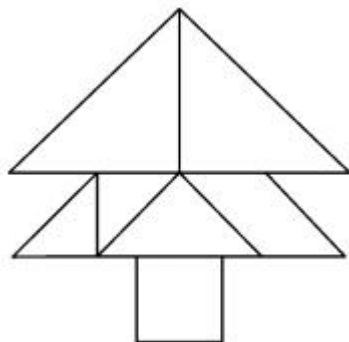
快乐!提升

三 下面两个图形都是由右图的七巧板组合而成,请在左图写出每块板的编号。

1.

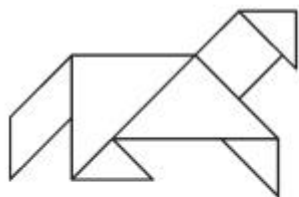


2.





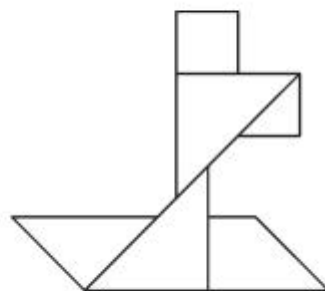
四 下面的图形,是用七巧板拼成的画“√”,不是用七巧板拼成的画“×”。



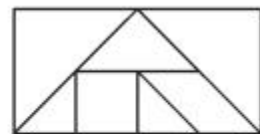
()



()



()



()

