

第 2 课时 平面图形的拼组 [教材 P₃]




开心！一练

一 想一想,看一看,你一定会填。

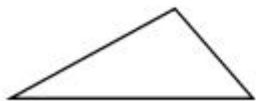
1. 是由两个()形拼成的一个长方形。

2. 是由两个()形拼成的一个正方形。

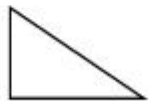
3. 用两个同样的 可以拼成一个()。

二 选一选,拼一拼。

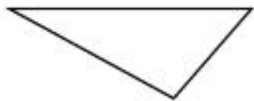
1. 下面哪两个三角形可以拼成一个平行四边形?



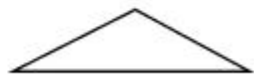
①



②



③



④

()和()

2. 下面哪两个长方形可以拼成一个正方形？



①



②



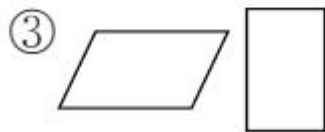
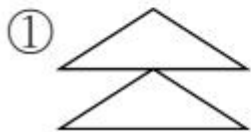
③



④

()和()

3. (河北邢台市)红红想拼出一个长方形,她应该选用()。





快乐!提升

三 按要求画一条线,把下面的图形分一分。




分成两个
三角形



分成两个
长方形



分成两个
平行四边形



分成两个
三角形



秒算

$5+4=$

$9-3=$

$3+7=$

$4+9=$

$8-6=$

$10+7=$

$6+5=$

$7+6=$