




1


认识图形(二)



第 1 课时 认识平面图形 [教材 P₂]

开心! 一练

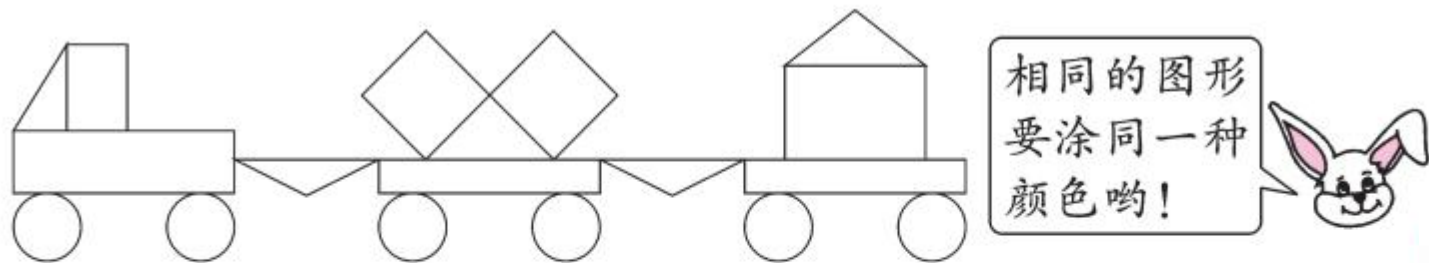
一 下面这些物体的表面是什么形状? 请连一连。



二 把各种图形的序号填在()里。




三 认一认,涂一涂。(给图形涂上你喜欢的颜色)

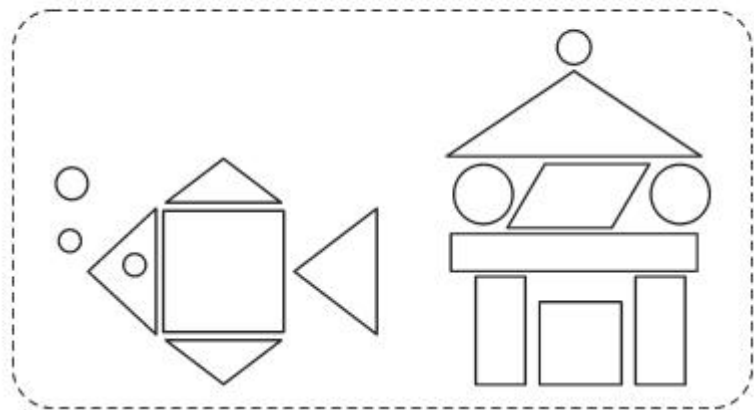







快乐!提升

四 填一填。

1. 数学书的封面是()形,魔方的面是()形。
2. 红领巾是()形,一元硬币的面是()形。
3. 左图中有()个平行四边形。

五 (杭州市西湖区) 数一数, 填一填。



图形					
个数					