


# ⑨ 数学广角——推理

第 1 课时 推理(1)[教材 P<sub>109</sub>]





## 开心！一练

- 一 三位小朋友分别来自哈尔滨、河南和上海。请你在( )里写出她们分别是哪里人。



( )人



我不是哈尔滨人。

( )人



我是上海人。

( )人

- 二 二(1)班举办朗读比赛,小莉、小民、小雪三人获得了前三名。

我不是第一名。



小莉



小雪



第一名是( ),第二名是( )。



小民

她俩的分数都比我高。

三 下面三个数字分别是三个小动物家的门牌号,它们家的门牌号各是多少?请连一连。



我的门牌  
号是……



我的门牌号  
是最大的。



我的门牌号  
不是最小的。



## 快乐提升

- 四 你知道他们戴什么颜色的帽子吗？（他们分别戴黄、红、蓝三种颜色的帽子）



我没戴黄帽子。

聪聪

( )



我既没戴黄帽子，也没戴蓝帽子。

贝贝

( )



我戴的是……

乐乐

( )

- 五 甲、乙、丙三人分别是医生、教师、解放军，甲不是教师，他和丙正在听解放军讲军事演习情况。请你猜一猜，甲、乙、丙三人的职业。



## 秒算

$20 \div 5 =$

$32 \div 8 =$

$24 \div 3 =$

$28 \div 7 =$

$36 + 14 =$

$52 + 18 =$

$73 - 12 =$

$47 - 31 =$

$32 + 60 =$