

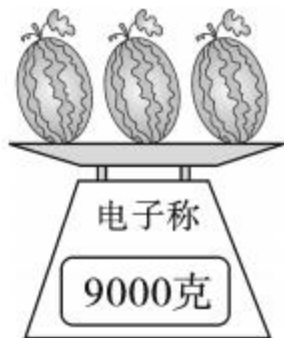


第 2 课时 解决问题 [教材 P₁₀₄]



开心！一练

一 平均每个西瓜大约重多少千克？



二 下面这些物品，怎样放才能使天平处于下面的两种状态？连一连。



2千克



4000克



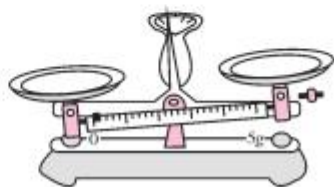
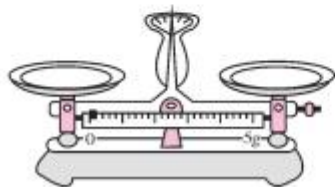
1500克



4千克



500克






三 估计 24 根香蕉大约重多少千克？

1. 如果 3 根香蕉重 1 千克,这些香蕉重()千克。

$$\square \circ \square = \square (\text{千克})$$

2. 如果 4 根香蕉重 1 千克,这些香蕉重()千克。

$$\square \circ \square = \square (\text{千克})$$






快乐！提升

四 (襄阳市襄城区)图中是明明本周在仲宣楼菜市场调查的 500 克下列蔬菜的价钱。



				
价钱	4 元	2 元	1 元	3 元

1. 买 1 千克  和 1500 克  多少钱？

.....
.....

2. 你还能提出一个其他的数学问题并解答吗？

.....
.....



秒算

$1800 - 900 =$

$1700 - 1000 =$

$160 - 90 =$

$4000 - 1500 =$

$500 + 800 =$

$600 + 400 =$

$1000 - 200 =$

$1300 - 400 =$

$90 + 80 =$