




8 克和千克

第 1 课时 克和千克 [教材 P_{101~102}]

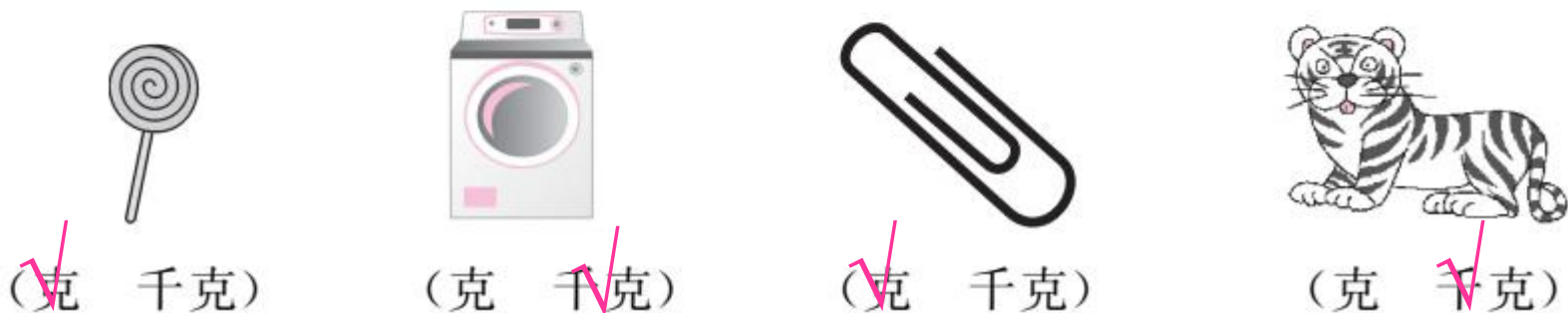


 **开心！** **一练**

一 下面的物品哪些比 1 克轻？圈一圈。




二 计量下面的物品有多重，用哪个单位合适？（在正确的下面打“√”）



三 下面的物品重多少？



(200) 克



(1) 克



(3) 千克




(20) 千克



快乐!提升

四 连一连。



100克

1克

5千克

1千克

五 在○里填上“>”“<”或“=”。

3 千克○2990 克

800 克○1 千克

999 克○1 千克

4 千克○4000 克

700 克○7 千克

1500 克+500 克○2 千克