

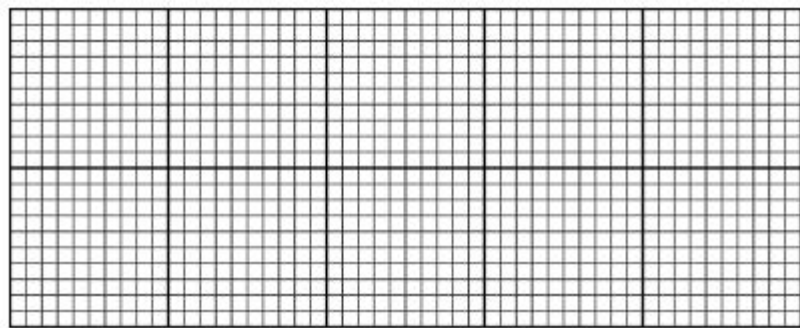


第 2 课时 1000 以内数的认识(2) [教材 P₇₆]




开心! 一练

一 给六百四十七个小方格涂上颜色。

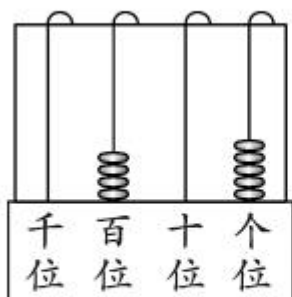


二



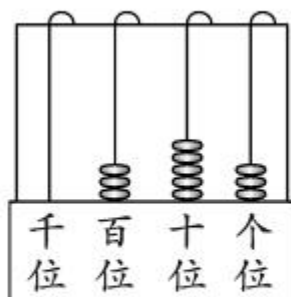
这个数有()个百、()个十和()个一,这个数是()。

三 写出下面各数并读一读。



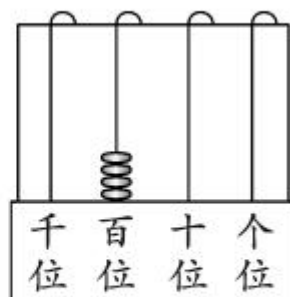
写作：_____

读作：_____



写作：_____

读作：_____



写作：_____

读作：_____



快乐!提升

四 读出下面各数,再说说它们的组成。

1. 世界上最大的圆形叶子是王莲叶,直径可达 300 厘米。

读作:_____ 组成:_____

2. 大花草的花是世界上最大的花,直径有 106 厘米。

读作:_____ 组成:_____

3. 世界上最高的植物是红杉,高可达 115 米。

读作:_____ 组成:_____

五 写出下面各数。

五百九十八 _____

六百 _____

三百零九 _____

八百四十 _____

二百三十 _____

一百六十七 _____



秒算

$15 \div 6 =$

$60 \div 8 =$

$71 \div 9 =$

$40 \div 8 =$

$16 \div 2 + 9 =$

$72 \div 9 + 9 =$

$36 \div 6 + 9 =$

$4 \times 7 + 4 =$