



第 6 课时 整理和复习 [教材 P<sub>45~46</sub>]





## 开心! 一练

一 看谁算得又对又快。

$36 \div 9 =$

$27 \div 3 =$

$49 \div 7 =$

$81 \div 9 =$

$35 \div 5 =$

$21 \div 7 =$

$18 \div 3 =$

$24 + 6 =$

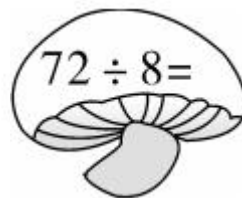
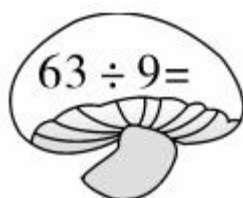
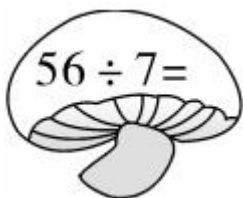
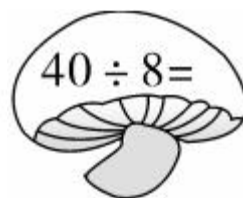
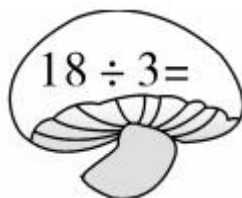
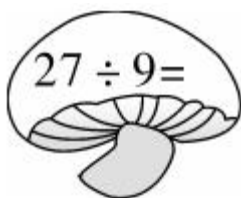
$54 + 9 =$

$64 \div 8 =$

$28 \div 7 =$

$27 - 3 =$

二 算出结果,然后把结果按从小到大的顺序排列起来。



( ) < ( ) < ( ) < ( ) < ( ) < ( )

### 三 购物。

1. 30 元钱一共可以买几把剪刀?

$$\square \circ \square = \square (\quad)$$



6元



?元



5元

2. 36 元一共买了 4 个同样的足球, 一个足球多少钱?

$$\square \circ \square = \square (\quad)$$

3. 你还能提出其他用乘法或除法解决的问题并解答吗?





## 快乐提升

四 一道除法题,除数是9,小华把被除数的十位数字和个位数字颠倒了,结果除得的商是3,这道题正确的商是几?

五 【拓展题】将下面6个数分别填入相应的算式中,使等式成立。

3 4 5 6 7 8

$12 \div \square = \square$

$35 \div \square = \square$

$48 \div \square = \square$



名师点睛