

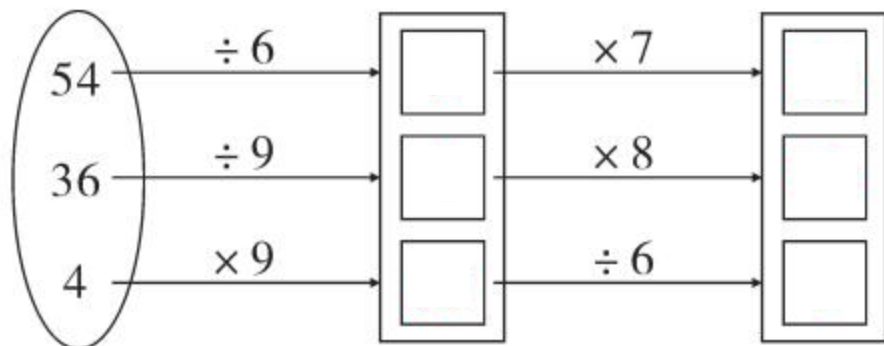
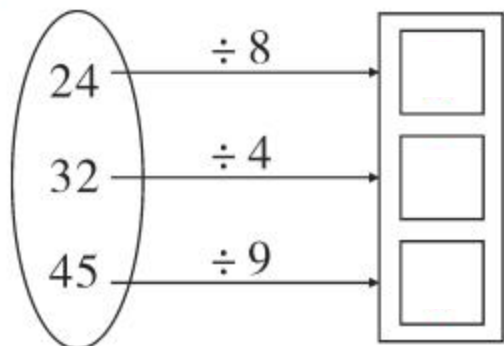


第 5 课时 练习课 [教材 P<sub>43~44</sub>]



## 开心！一练

### 一 我会做。



### 二 在○里填“+”“-”“ $\times$ ”或“ $\div$ ”。

$18 \bigcirc 2 = 9$

$21 \bigcirc 7 = 28$

$4 \bigcirc 8 = 32$


$56 \bigcirc 7 = 8$

$54 \bigcirc 6 = 9$

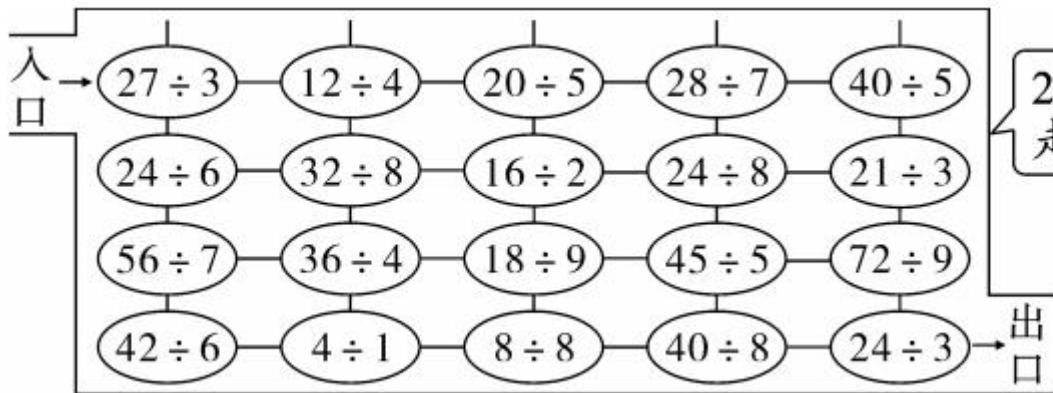
$5 \bigcirc 6 = 30$

$16 \bigcirc 4 = 12$

$4 \bigcirc 7 = 28$



三 走迷宫(每道题的除数是下一步算式的商)。



$27 \div 3$ 除数是3, 下一步走 $12 \div 4$ 。

#### 四 儿童游乐园。

1.



我们有24人，要坐几辆小火车？

六一期间价目表		
小飞机	每次 4 元	每架坐 2 人
小火车	每次 8 元	每辆坐 6 人
天鹅船	每次 5 元	每条坐 4 人

2. 你还能提出其他用乘法或除法解决的问题并解答吗？



#### 快乐！提升

五 每棵树苗 12 元钱，现在优惠促销，一次买 4 棵只需 36 元。促销的树苗每棵多少元？每棵比原来便宜多少元？



秒算

$$56 \div 7 =$$

$$56 + 7 =$$

$$21 \div 7 =$$

$$21 - 7 =$$

$$54 \div 6 =$$

$$54 - 9 =$$

$$42 \div 6 =$$

$$42 + 6 =$$