

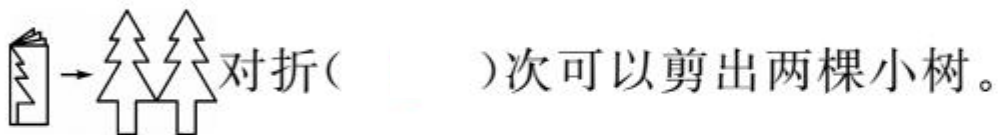
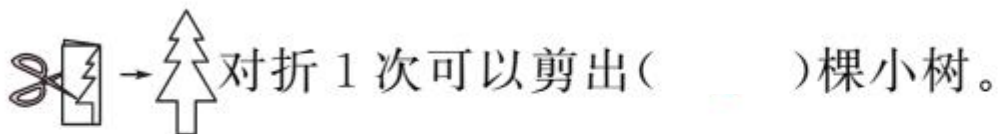


第 3 课时 剪一剪 [教材 P₃₂]

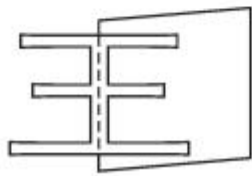


开心! 一练

一 剪一剪, 填一填。



二 像左图这样, 把镜子放在虚线上能看得到什么图案?



()



()



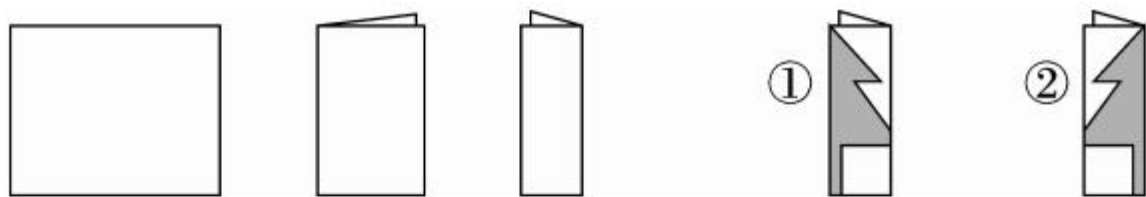
()



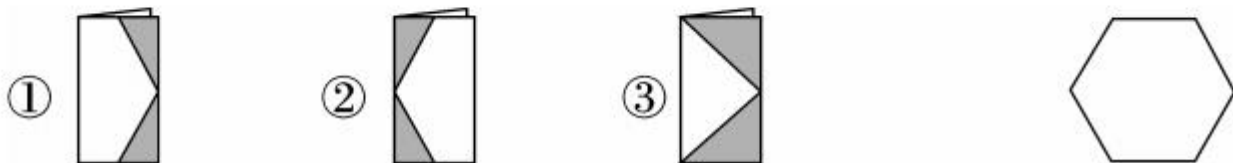
快乐!提升

三 剪一剪,再填空。

1. 如图,把一张正方形纸两次对折后沿线剪掉空白部分,按()的方法剪,能得到连续的松树图案。



2. 要得到右面的图案,应该将一张正方形纸按()的方式剪掉涂色部分。





四 下面的哪个图案是由(1)平移得到的？在序号上画“√”。



(1)



(2)



(3)



(4)



(5)

