



第 5 课时 练习课

一 计算。

$$\begin{array}{r} 2.3 \\ + 4.7 \\ \hline \end{array}$$

$$\begin{array}{r} 3.1 \\ - 1.6 \\ \hline \end{array}$$

$$\begin{array}{r} 15.7 \\ + 3.8 \\ \hline \end{array}$$

$$\begin{array}{r} 9.0 \\ - 7.2 \\ \hline \end{array}$$

二 1. 如果小象先上船,奶牛能上船吗?









2. 山羊可以和小象一起坐船吗?



3. 你还能提出其他数学问题并解答吗?

三 1. 哪种物品最贵？最贵的比最便宜的贵多少钱？

2. 小红有 10 元钱，买了一袋薯脆后，还可以买哪两样食品？

 3.5元/盒	 4.8元/袋	 2.2元/个
 0.8元/袋	 8.6元/盒	 1.6元/块



快乐!提升

四 找规律填数。

0.5 1.2 1.9 2.6 () () ()

18.9 17.8 16.7 15.6 () () ()

五 妈妈从家到超市要走 1.7 千米。一天,妈妈从家出发去超市,走了 0.6 千米后发现没带钱,又返回家中拿钱。这次她比平时要多走多少千米?



秒算

$0.3 + 0.8 =$

$10 - 2.6 =$

$1.4 - 0.6 =$

$6.1 - 4.7 =$

$3.5 - 0.9 =$

$2.1 - 1.7 =$

$12.2 + 2.8 =$

$9.6 - 3.9 =$



名师点睛