



第 4 课时 解决问题





## 开心！一练



一 这辆车过桥有危险吗？



二 小红和小丽谁跑得快？快几秒？



### 三 去肯德基。

1. 童童有 15 元钱,买了一个 ,他还想买一个  和一个 ,他的钱够吗?



2. 如果把  换成 ,他的钱够吗?

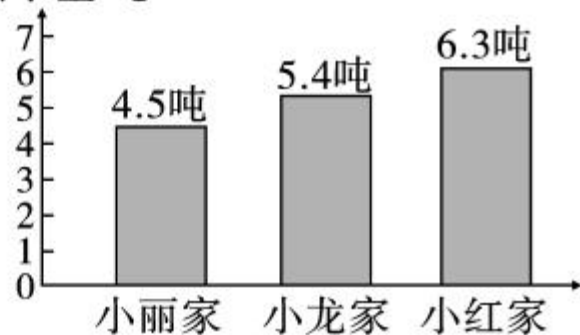




## 快乐提升

四 右面是3个家庭今年某月的用水量统计图。你能提出一个数学问题并解答吗？

用水量/吨



五

我从八一广  
场上车，到  
博物馆下车，  
要付车费多  
少钱？



八一广场 → 文化宫

1 八一广场	2 工商银行	3 购物中心	4 八一中学	5 前进街	6 八一大道	7 影剧院	8 体育馆	9 台北路	10 建设街	11 儿童医院	12 会展中心
13 邮局	14 博物馆	15 友谊商厦	16 解放公园	17 中心医院	18 学前街	19 实验小学	20 游乐园	21 动物园	22 游泳馆	23 幼儿园	24 文化宫

10千米以内票价1元，增加1千米增加0.5元  
注：当前站为八一广场站，每两站间相距约1千米