



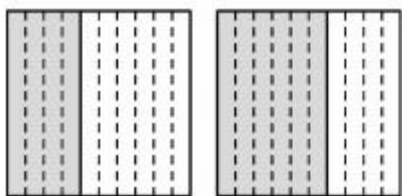
第 2 课时 小数的大小比较



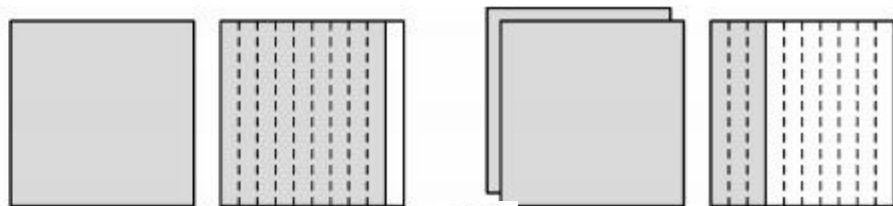


开心! 一练

一 用小数表示图中的阴影部分, 并比较大小。



() ○ ()



() ○ ()

二 在○里填“>”“<”或“=”。

$0.3 \text{ 元} \bigcirc 0.2 \text{ 元}$

$6.5 \text{ 元} \bigcirc 5.7 \text{ 元}$

$9 \text{ 元} \bigcirc 9.8 \text{ 元}$

$5 \text{ 分米} \bigcirc 4.9 \text{ 分米}$

$3.2 \text{ 米} \bigcirc 4.5 \text{ 米}$

$0.7 \text{ 米} \bigcirc 0.9 \text{ 米}$



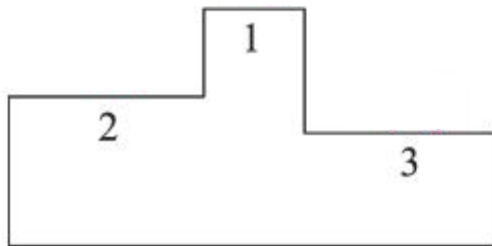
快乐!提升

三 请你当裁判。

三年级同学 100 米跑成绩统计表

姓名	小明	小刚	小东	小力
成绩/秒	15.4	16.4	15.1	16.8

1. 谁跑得最快? 谁跑得最慢?
2. 请把前 3 名同学的名字写在领奖台上。



四

我调查了商场的几种洗衣机的洗涤量，请你按从大到小的顺序排一排。



2.3千克

(

)

)



5千克

)

)



4.2千克

)

)



3.8千克

)

五

里最大能填几？

$$6. \square > 6.7$$

$$4. \square < 7.1$$

$$8.7 > \square.5$$