



7

小数的初步认识

第 1 课时 认识小数



开心！一练

一 读出下面的小数。



丹顶鹤体长可达
1.2米以上。

读作：_____



我国陆地边界长为2.28万千米，大
陆海岸线长约1.8万千米。

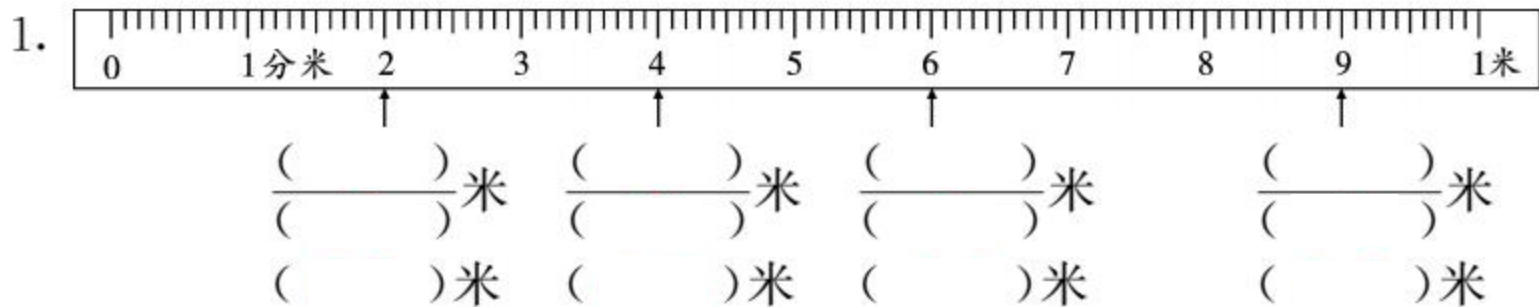
读作：_____



中国水能资源蕴藏
量达6.8亿千瓦时，
居世界第一位。

读作：_____

二 看图填上合适的分数和小数。



2. 5分米是 $\frac{(\quad)}{(\quad)}$ 米,还可以写成 (\quad) 米,1米5分米写成小数是 (\quad) 米。

3.

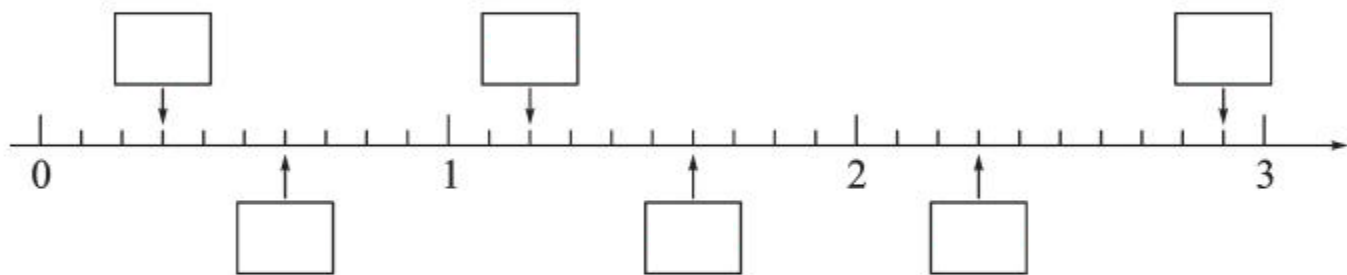
		
(\quad) 元	(\quad) 元	(\quad) 元

4. 7角是 $\frac{(\quad)}{(\quad)}$ 元,也可以写成 (\quad) 元,2元7角写成小数是 (\quad) 元。




快乐提升

三 在 里填上小数。




四 把下面各图中涂色的部分用分数和小数表示出来。




$$\frac{(\quad)}{10}$$

()



$$\frac{(\quad)}{10}$$

()



$$\frac{(\quad)}{10}$$

()