



第 3 课时 24 时计时法





开心！一练

一 填一填。

1. 从 0 时到 24 时的计时法,通常叫做()。
2. 一天有()小时,在一天时间里,时针正好走()圈。
3. 半夜 12 时也叫()时。

二 照样子填一填。

5:00

凌晨 5 时

下午 1 时

22:18

下午 3:25

11:00

三 1. 爸爸晚上 8 时在这里停车违章了吗？









P 限时停车
19:00~次日 7:00

2. 张小北下午 4 时到达火车站,他能赶上这趟火车吗？

B031209 成都售
上海虹桥 K113次 南昌
ShangHaiHongQiao NanChang
2020年01月16日16:15开 10车 22号下铺
¥149.00元 新空调硬卧
限乘当日当次车在3日内到有效
16115200161030 B031209



四 用 24 小时计时法写出下面的各个时间。

  <div style="border: 1px solid black; width: 80px; height: 40px; margin: 0 auto; text-align: center;">:</div>	  <div style="border: 1px solid black; width: 80px; height: 40px; margin: 0 auto; text-align: center;">:</div>
 <div style="border: 1px solid black; width: 80px; height: 40px; margin: 0 auto; text-align: center;">:</div> 	 <div style="border: 1px solid black; width: 80px; height: 40px; margin: 0 auto; text-align: center;">:</div> 



秒 算

$700 \div 7 =$

$300 \div 6 =$

$440 \div 4 =$

$306 \div 3 =$

$306 \div 2 =$

$320 \div 8 =$

$650 \div 5 =$

$123 \times 4 =$