



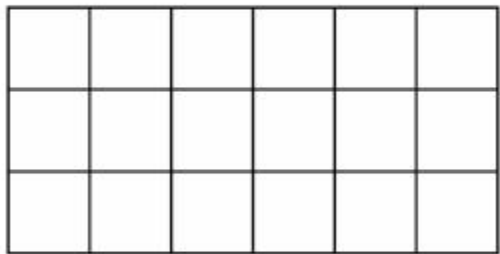
第 3 课时 长方形、正方形面积的计算





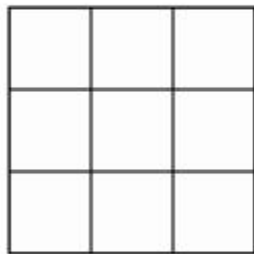
## 开心! 一练

一 想一想, 填一填。(下图中每个小方格的面积是 1 平方厘米)



长是( )厘米, 宽是( )厘米, 面积是( )平方厘米。

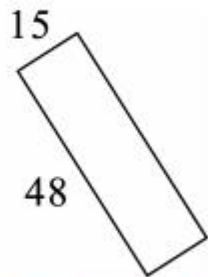
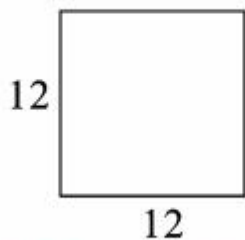

长方形的面积 = ( )  $\times$  ( )



边长是( )厘米, 面积是( )平方厘米。

正方形的面积 = ( )  $\times$  ( )

二 计算下面各图形的面积。(单位:厘米)



三 一块长方形菜地长 28 米,宽 14 米。这块地的面积是多少平方米? 如果用这块地的一半种豆角,种豆角的面积是多少平方米?

---

---

---



## 快乐提升

- 四 明明星期天去游泳,游泳池是一个边长为 16 米的正方形,明明游了两圈,他游了多少米? 这个游泳池的面积是多少?



- 五 如图,在一张长方形纸上剪下一个最大的正方形,这个正方形的面积是多少平方厘米?

