



# 5


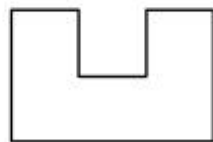
# 面积

第 1 课时 认识面积 [教材 P<sub>61~62</sub>]



## 开心！一练

一 先用红笔描出每个图形的一周，再涂色表示它们的面积。



二 下面是从同一幅中国地图上描出的三个省的平面图，在面积最大的下面画“○”，在面积最小的下面画“△”。

江苏省



(      )

安徽省



(      )

湖南省



(      )



## 快乐提升

三 小红和小青用不同的方法测量平面图中厨房和餐厅的面积,如图:

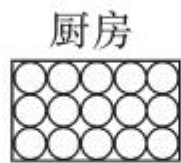


小红

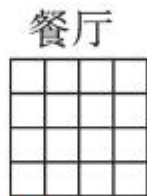
用○摆一摆。



\_\_\_个○



\_\_\_个○



\_\_\_个□



\_\_\_个□

用□摆一摆。



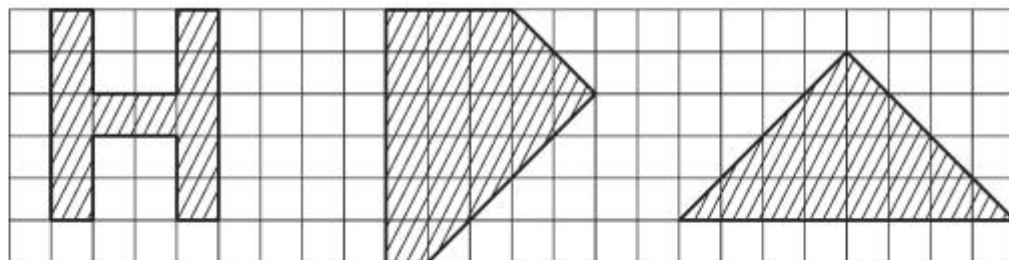
小青

请你数一数,填一填并回答下面的问题。

1. 餐厅与厨房比,( )的面积大。

2. 测量图形的面积,用什么形状的图形更合适? 请把它圈出来。( ○ □ )

四 下面图形的面积各是多少？

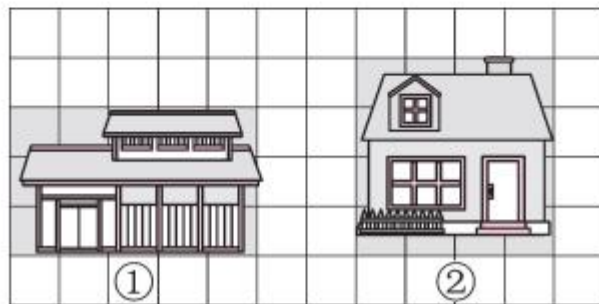


( )个 

( )个 

( )个 

五 下面哪幅图的面积大？



①

②