



第 13 课时 练习课 [教材 P_{34~35}]

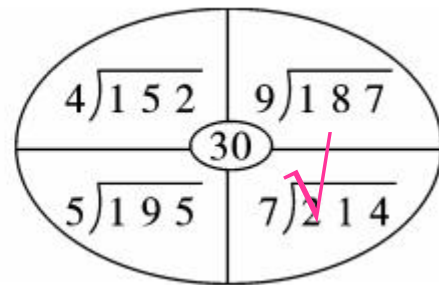
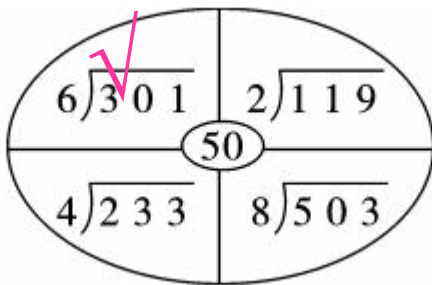
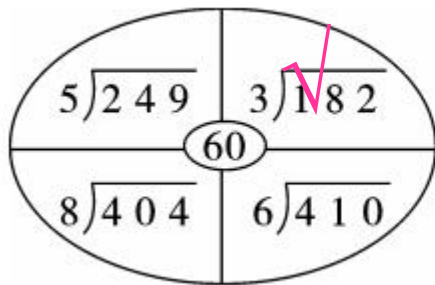


开心! 一练

一 算一算, 填一填。

	商的位数	估算的结果	准确值
$547 \div 5$			
$276 \div 4$			
$308 \div 3$			
$639 \div 8$			

二 估一估哪个算式的商最接近圈中的数, 在它上面画“√”。



三 春风餐馆每天要用掉 9 千克大米,这次运回的一批大米够吃一个月吗?




快乐提升

四 王阿姨 5 天共卖了多少钱? 平均每天卖多少支钢笔?





五 下面是快乐超市一天卖出饮料的记录单。
估一估,算一算,哪种饮料平均每箱最便宜。



种类	箱数	总钱数/元
A	4	176
B	7	148
C	6	210