



第 6 课时 练习课



开心！一练

一 填一填。

1. $251 \div 6$, 商是()位数; $634 \div 5$, 商是()位数。
2. 检验 $667 \div 4 = 166 \cdots 3$ 是否正确, 用() \times () $+$ () = () 检验。
3. $\square 38 \div 5$, 如果商是两位数, \square 里最大可以填(); 如果商是三位数, \square 里最小可以填()。

二 先判断商是几位数, 再计算。

商是 \square 位数

商是 \square 位数

商是 \square 位数

商是 \square 位数

$$5 \overline{) 145}$$

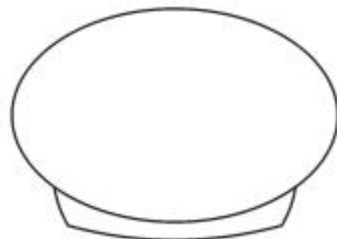
$$2 \overline{) 302}$$

$$3 \overline{) 320}$$

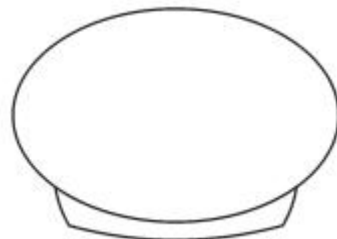
$$7 \overline{) 436}$$



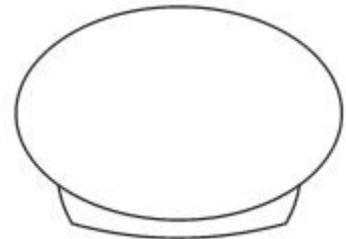
三 分一分。



除以2
余数为0



除以3
余数为1



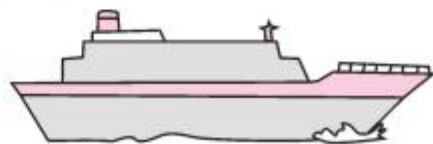
除以5
余数为3



四



- 五 荆州沙市区到宜昌水路长约 148 千米,一艘轮船从荆州沙市区出发,约 4 小时到达宜昌,平均每小时航行多少千米?



秒算

$42 \div 3 =$

$94 \div 2 =$

$78 \div 3 =$

$96 \div 6 =$

$125 \div 5 =$

$804 \div 6 =$

$354 \div 3 =$

$924 \div 7 =$

六 妈妈带了 155 元钱,要买 7 元一个的碗,她最多可以买多少个碗? 还剩多少钱?

.....

.....

七 1. 买一件上衣的钱可以买多少条围巾?

.....

.....

2. 请你提出一个数学问题并解答。

.....

.....



6元



8元



192元



快乐提升

- 八 (安徽省黄山市) 小华在外婆家生活了 722 天, 那么他在外婆家生活了多少期? 还多几天?

九 筹备联欢会。

1. 王老师买下面水果中的一种正好用去 438 元, 买下面饮料中的一种正好 464 元。王老师买了哪种水果, 哪种饮料? 各买了多少?

水果	苹果	每千克 9 元
	梨	每千克 6 元
	香蕉	每千克 7 元
饮料	果汁	每瓶 4 元
	可乐	每瓶 5 元

2. 如果用这些钱只买果汁, 可以买多少瓶?



十 下面各数,哪些除以 2 没有余数,哪些除以 5 没有余数? 连一连。

670

426

321

64

120

412

2

5

