



第 4 课时






数与代数(4)



开心！一练

一 计算下面各题，并且验算。

$$10 - 3.65$$



$$12.59 + 3.63$$



二 计算下面各题，怎样简便就怎样算。

$$3.02 - 2.5 + 0.98$$

$$5.35 - 2.8 - 2.2$$


$$19.92 + 10.4 - 9.92$$


$$3.85 - (1.85 + 1.3)$$



三 某地区平均每 10 千克海水含盐 0.29 千克,那么 10 吨海水含盐量是多少千克?合多少吨?

四 (信阳市平桥区) 小明买了两本书, 付给营业员 50 元, 应找回多少元?




五



55.80元/个



5.85元/本



18.45元/盒

1. 一个书包比一盒彩笔贵多少元?



2. 你还能提出其他数学问题并解答吗?





快乐!提升

六 在 里填上合适的数。

$$\begin{array}{r} \square 3 \square . \square 4 \\ - \square 5 . 7 \square \\ \hline 4 5 1 . 2 9 \end{array}$$

$$\begin{array}{r} \square 2 . 5 \square \\ + 8 7 . \square 6 \\ \hline \square 1 \square . 9 2 \end{array}$$

秒算



$4.8 + 2.7 =$

$8 - 0.92 =$

$4.3 - 0.7 =$

$8.5 + 2.3 =$

$7.7 + 1.3 =$

$1 - 0.85 =$

$75 + 0.25 =$

$0.15 + 0.85 =$

$10 - 0.8 =$

$7.2 + 3.4 =$