



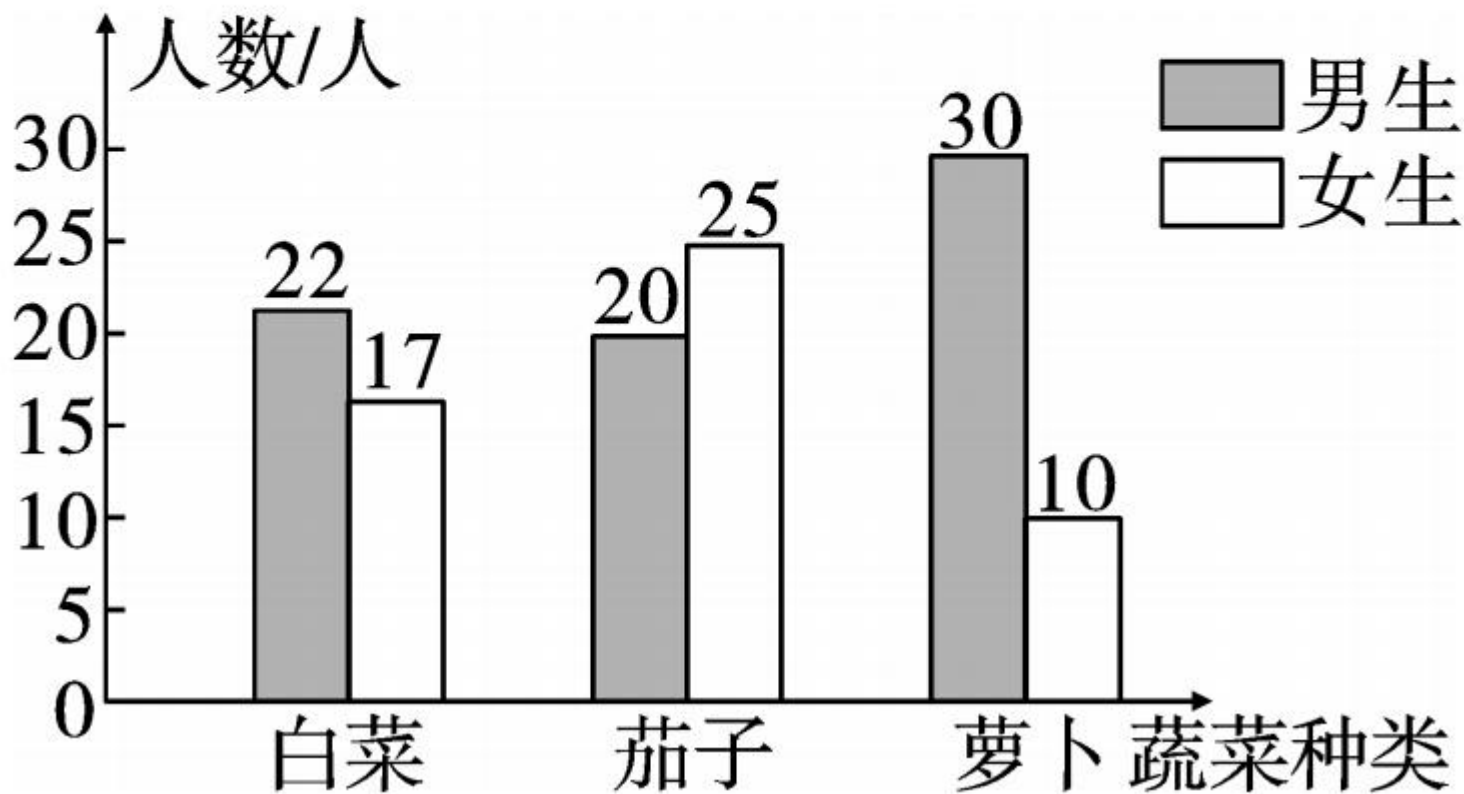
# 第 3 课时 复式条形统计图



# 开心! 一练

一 下面是某校四年级同学最喜欢吃的蔬菜情况统计图。

四年级同学最喜欢吃的蔬菜统计图

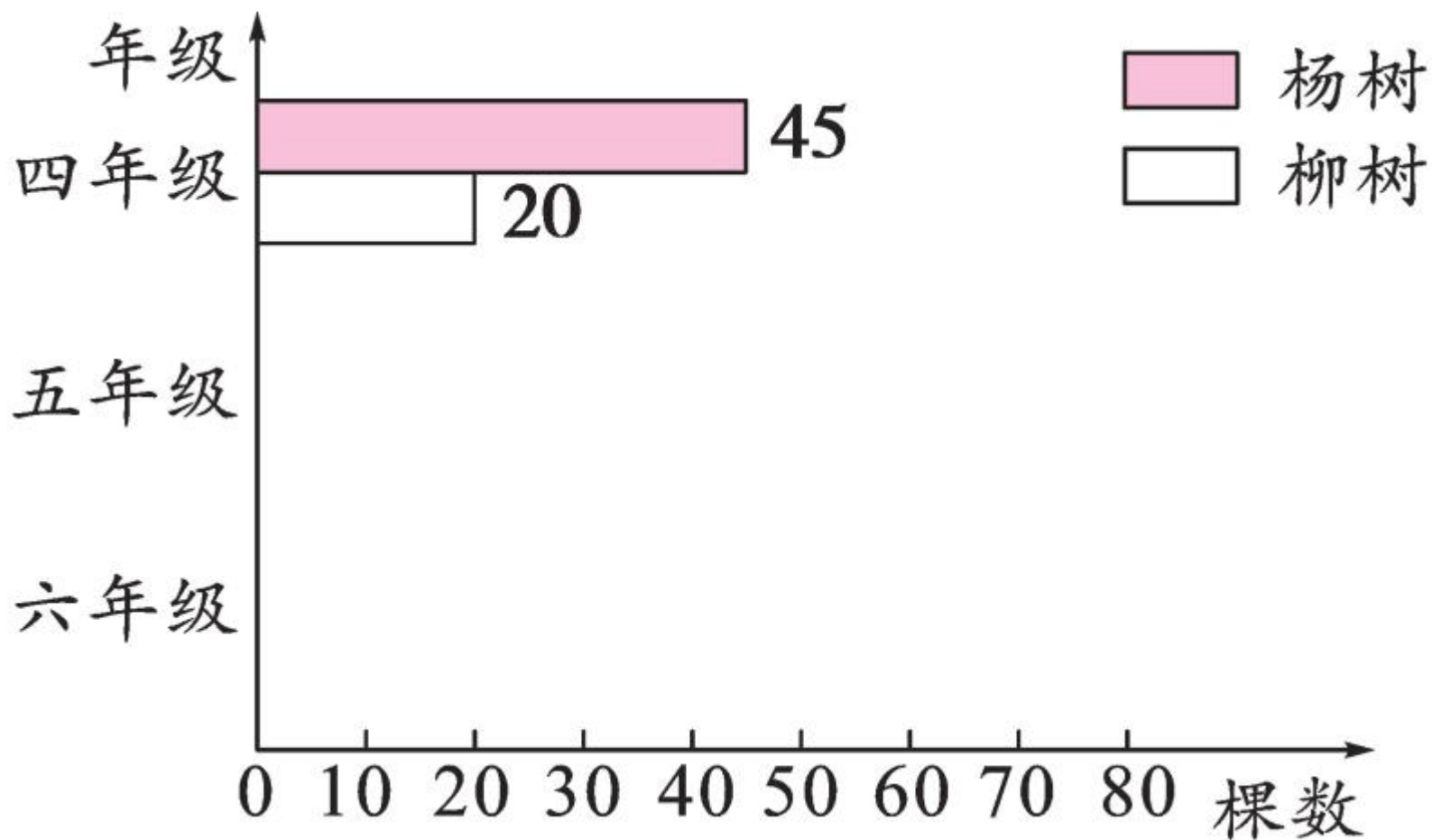


根据统计图填一填。

1. 男生最喜欢吃( )的人数最多,最喜欢吃( )的人数最少。
2. 女生最喜欢吃( )的人数最多,最喜欢吃( )的人数最少。
3. 最喜欢吃( )的人数最多,是( )人,最喜欢吃( )的人数最少,是( )人。

二 下面是育才小学四、五、六年级学生植树情况统计表,请你根据所给的数据补全下面的横向复式条形统计图。

棵数 种类 年级	杨树	柳树
	四年级	45
五年级	60	25
六年级	75	40






# 快乐!提升

三 下面是某校四年级同学参加课外小组人数统计表。

人数 \ 性别 \ 小组	合唱	舞蹈	美术	体育
男生	26	35	18	22
女生	30	15	16	14

1. 根据以上数据完成复式条形统计图。

四年级同学参加课外小组人数统计图



2. 参加( )小组的男生最多,  
参加( )小组的女生最多。
3. 参加( )小组的人数最多,  
参加( )小组的人数最少。
4. 四年级平均每个课外小组有多少人?





5. 你还能提出哪些数学问题并解答吗?



秒算



$$36 \div 9 =$$

$$100 \div 5 =$$

$$72 \div 8 =$$

$$120 \div 4 =$$

$$140 \div 7 =$$

$$300 \div 6 =$$

$$510 \div 30 =$$

$$210 \div 5 =$$

$$180 \div 3 =$$

$$810 \div 9 =$$