

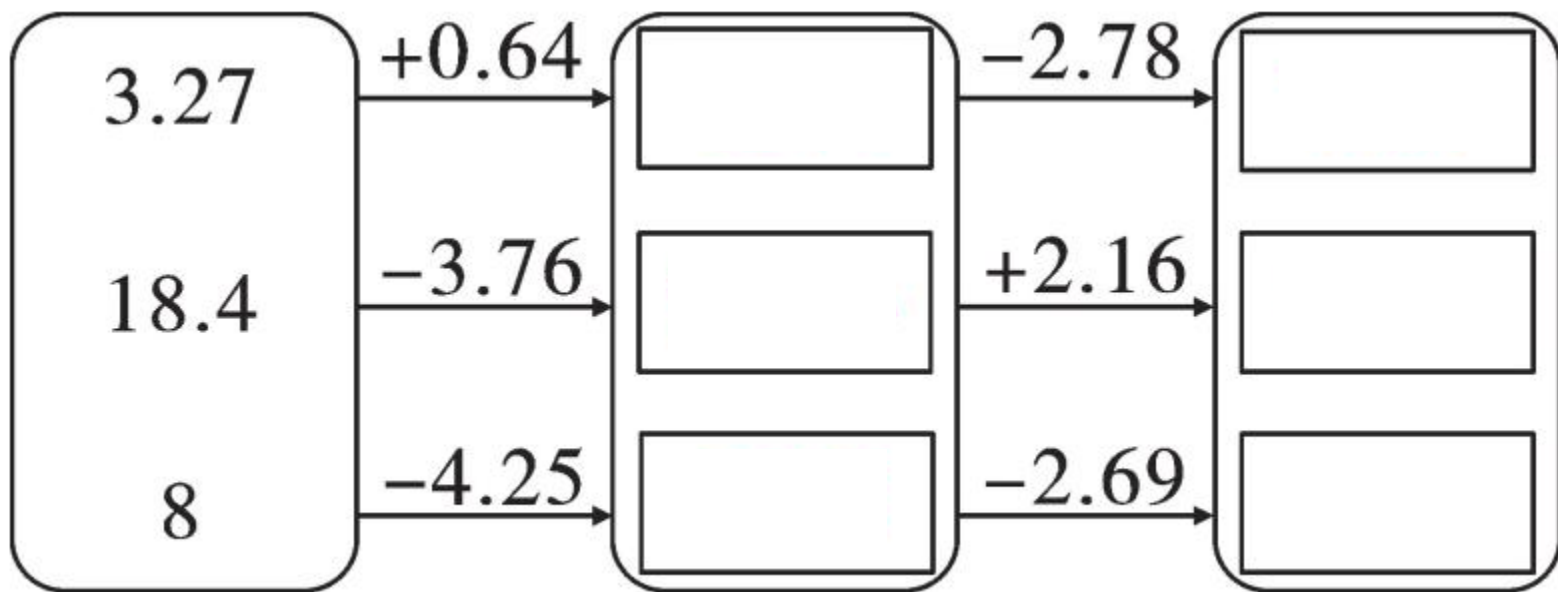


第 3 课时 小数加减混合运算



开心！ 练

一 填一填。



二 计算下面各题。



$$24.3 - (7.9 + 5.73)$$

$$47.3 - 14.48 + 4.77$$

$$8.32 - 0.46 - 2.35$$

小数加减混合运算顺序与整数加减混合运算顺序()。如果没有括号,就按从()到()的顺序依次计算,如果有括号,先算括号()的,再算括号()的。




$$53.2 - (4.6 - 3.78)$$


三 张叔叔去书店买一本《格林童话》和一本《安徒生童话》。他付了50元，应找回多少元？

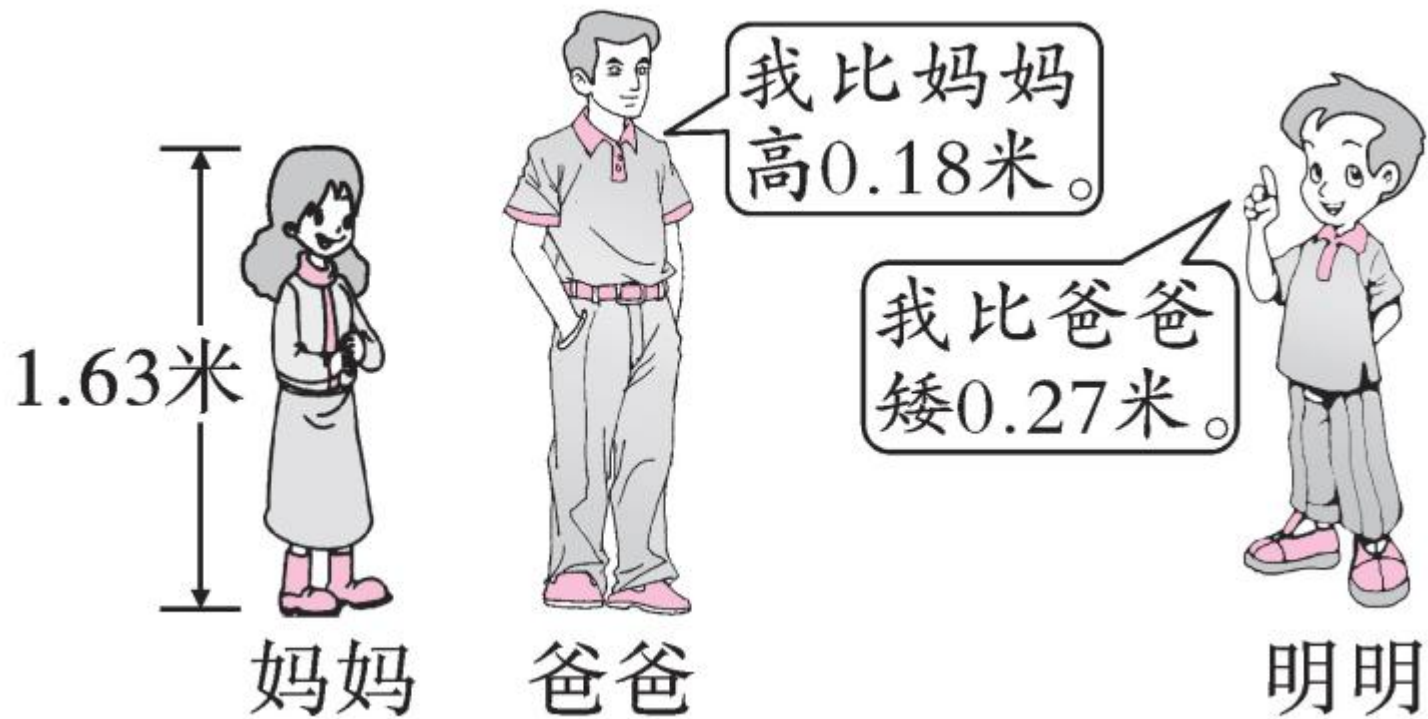



28.5元/本



14.4元/本

四





1. 明明高多少米？

2. 你还能提出其他数学问题并解答吗?



五 小明把长 14.8 厘米的纸条和长 12.28 厘米的纸条粘接成一条较长的纸条,重叠粘合处长 1.2 厘米(如图),粘接后纸条共长多少厘米?



名师点睛