

# ⑥ 小数的加法和减法



## 第 1 课时 小数加减法(1)



# 开心! 一练

## 一 口算。

$2.4 + 0.8 =$

$3.7 + 1.6 =$

$1.3 - 0.5 =$

$0.45 + 0.38 =$

$6.8 - 4.9 =$

$0.97 - 0.44 =$



二 计算下面各题,并且验算。

$$6.42 + 0.56$$

$$13.27 - 6.82$$





$$8.76 + 3.59$$


$$9.87 - 2.58$$


三 小明家两个月的电费和水电费统计如下，将表填写完整。

	电费	水费	合计
五月	45.82 元	28.00 元	
六月	57.55 元	32.50 元	
总计			

四 盘中的苹果有多少千克？





# 快乐!提升

五



①

125.80元



②

136.40元



③

68.90元



④

86.80元

我想买一件上衣和一条裙子。

可以怎样买? 各需要付多少钱?







六 在下面的  里填上合适的数。

$$\begin{array}{r} 2. \square 7 \\ + \square . 2 \square \\ \hline 9. 0 3 \end{array}$$

$$\begin{array}{r} 2 \square . 2 4 \\ - 7 . \square 6 \\ \hline \square 4 . 0 \square \end{array}$$