




重点单元易错专攻(三)

——小数的意义和性质



一 想一想,填一填。

$$3.025 \text{ 吨} = (\quad) \text{ 千克}$$

$$4.065 \text{ 千米} = (\quad) \text{ 米}$$

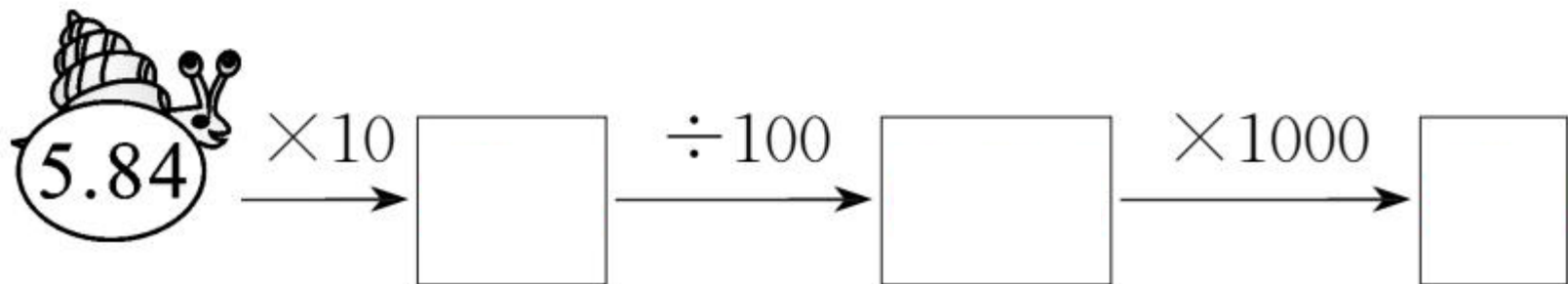
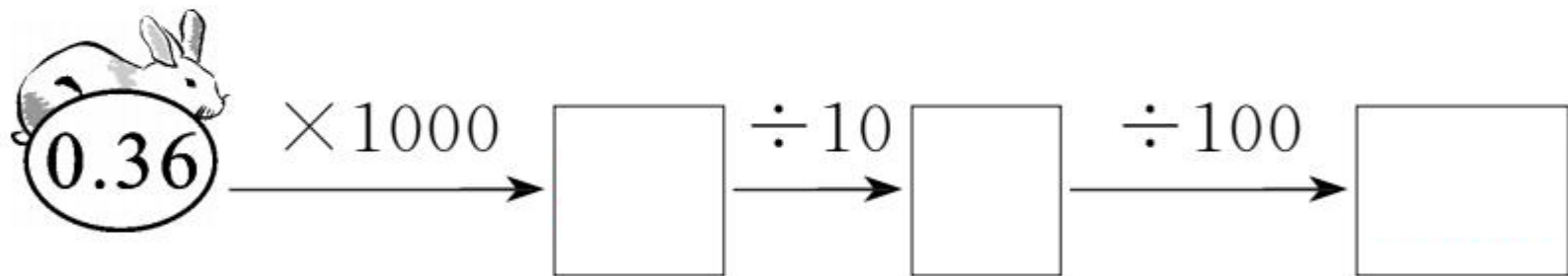
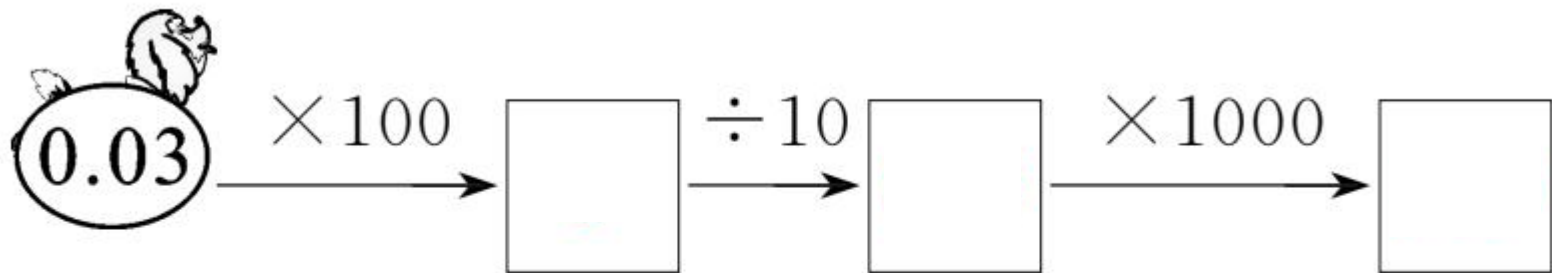
$$4350 \text{ 克} = (\quad) \text{ 千克}$$

$$0.25 \text{ 公顷} = (\quad) \text{ 平方千米}$$

$$64 \text{ 平方厘米} = (\quad) \text{ 平方分米}$$

$$4 \text{ 米 } 36 \text{ 厘米} = (\quad) \text{ 米}$$

二 看谁跑得快。



三 我会判断。(对的打“√”,错的打“×”)

1. 0.006 里面有 6 个 $\frac{1}{100}$ 。 ()

2. 大于 4.5 小于 4.7 的小数有无数个。
()

3. 在小数部分添上“0”或者去掉“0”,小数的大小不变。 ()



4. 最大的两位小数是 0.99。 ()

5. 0.605 扩大到它的 10 倍等于 605 缩小

到它的 $\frac{1}{100}$ 。 ()





四 一个三位小数的近似数是 7.68, 这个数最大是多少? 最小是多少?



五 每 100 千克盐水可晒盐 3.8 千克,1 吨盐水可晒盐多少千克? 100 吨呢?



快乐!提升

- 六 一个数缩小到它的 $\frac{1}{100}$ 后,又把所得数的小数点向左移动了一位,最后再把这个数的小数点向右移动了两位,结果得4.05,原来的数是多少?

七 (宁波市北仓区) 把一个数的小数点向左移动一位, 得到的数比原数少 36。



秒算



$215 + 275 =$

$31 \times 100 =$

$180 - 29 =$

$420 \div 100 =$

$56 \div 100 =$

$65 + 193 =$

$31 + 27 + 69 =$

$70 \div 100 =$

$560 + 170 =$

$100 - 27 - 63 =$