



第 3 课时 练习课 [教材 P_{36~37}]



开心! 一练

一 我会填。

1. 0.8 里面有()个 0.1; 8 个 0.01 是()。
2. 7.23 读作(), 其中“2”在()位上, “3”在()位上。



3. 百位上和百分位上是 7, 其他数位上都是 0, 这个数是()。

4. 由 3 个十、6 个十分之一和 7 个百分之一组成的数是()。



二 读出下列横线上的数。

1. 太平洋是世界上面积最大的海洋,面积约为1.652 亿平方千米。

读作: _____

2. 马拉松长跑的赛程是42.195 千米。

读作: _____

3. 一只蜘蛛重0.006 千克。

读作: _____

三 写出下面横线上的数。

1. 地球平均半径是六千三百七十一点二千米。

写作：

2. 西藏布达拉宫已有 1300 多年的历史，宫殿高一百一十七点一九米。

写作：

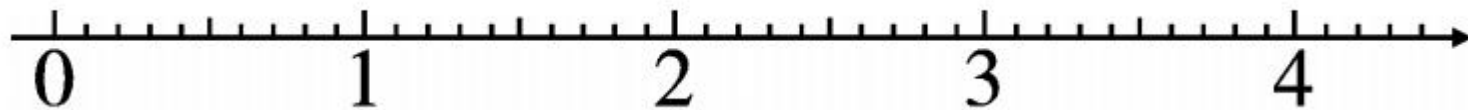
3. 人的头发直径约是零点零七毫米。

写作：




四 在直线上标出下面各数的位置。

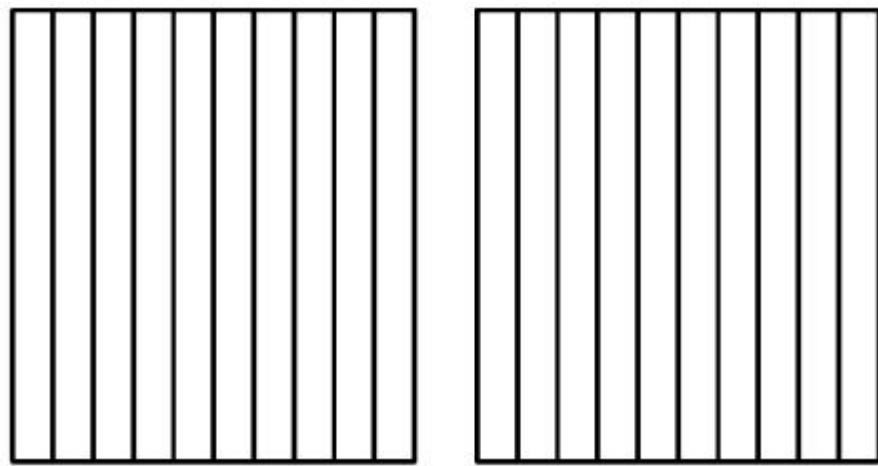
0.6 1.8 2.35 3.5




五 涂色表示下面各小数。



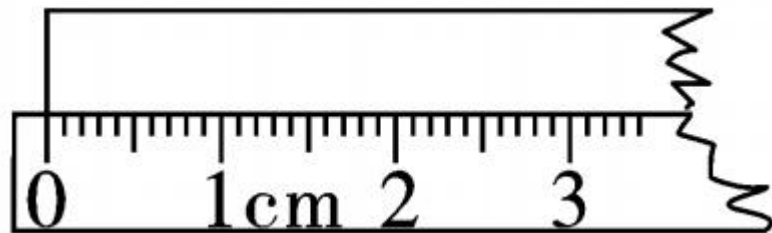
0.7



1.4



1.3




0.28dm

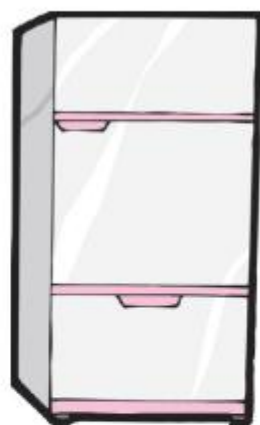
六 说一说下面小数的含义。



0.9元



2.8吨



1.5米



快乐！提升

- 七 用 3、0、6、9 这几个数字和小数点写出下面各数，每个数字都要用上并且只能用一次。
1. 小于 1 且小数部分是三位的小数。

2. 大于 9 且小数部分是三位的小数。

3. 0 不读出来且小数部分是两位的小数。

秒算



$$510 \times 3 =$$

$$12 \times 60 =$$

$$420 \times 3 =$$

$$13 \times 90 =$$

$$50 \times 18 =$$

$$840 \div 5 \div 2 =$$

$$48 + 327 + 52 =$$

$$38 + 32 =$$

$$22 \times 8 \times 5 =$$

$$545 - 27 - 73 =$$