




• 7

第七单元测试卷

一、后面一个应是什么？圈一圈。（8分）




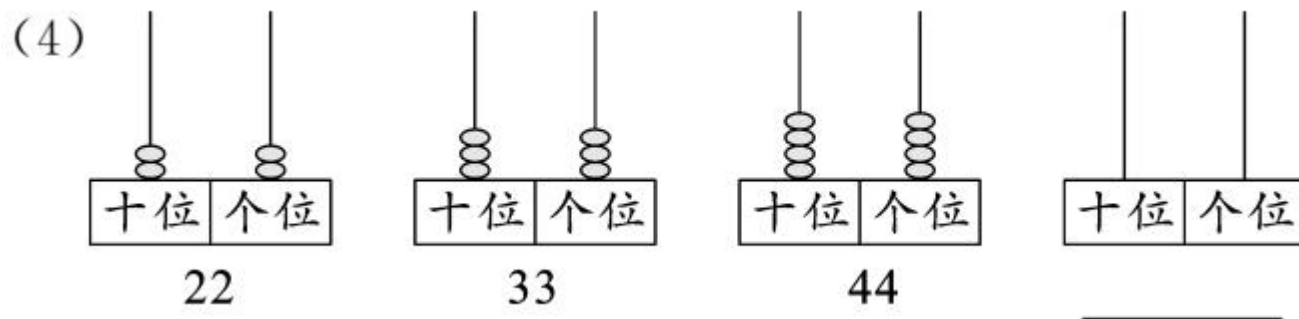
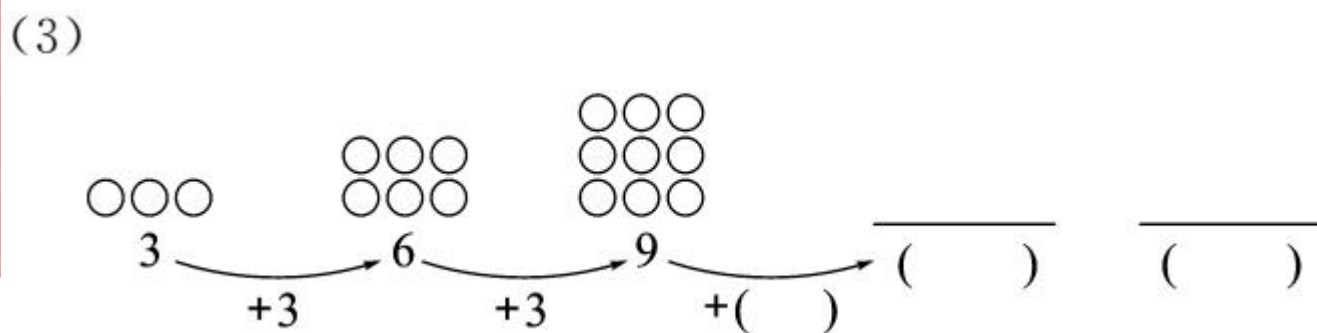
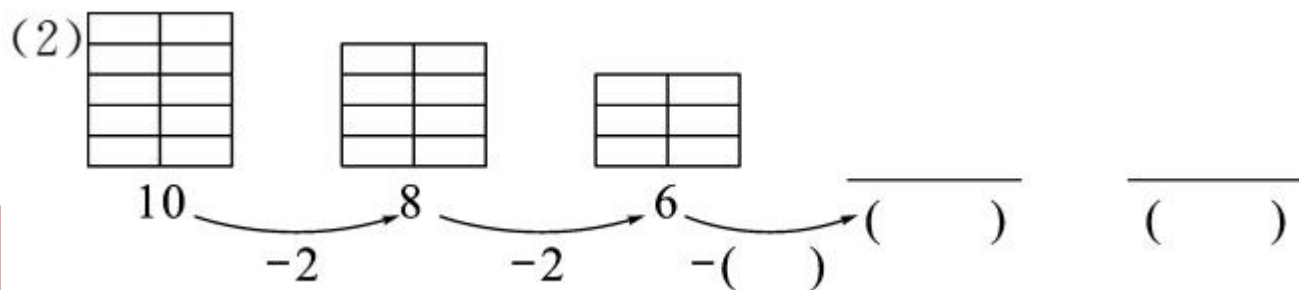
二、划去不符合规律的图形，圈出正确的。(4分)



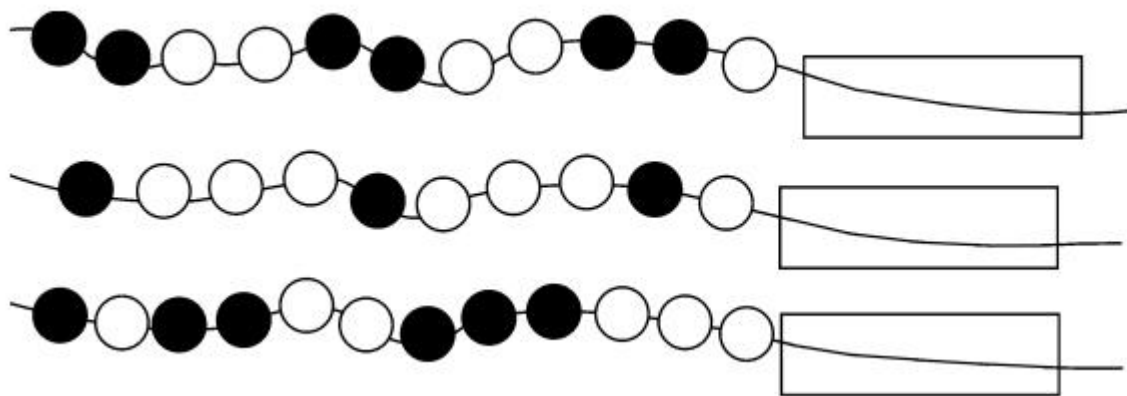
三、画一画。(共21分)

1. 请你接着画，并填数。(12分)





2. 卡片盖住的 4 颗珠子是什么颜色？请在卡片上画出来。（9 分）

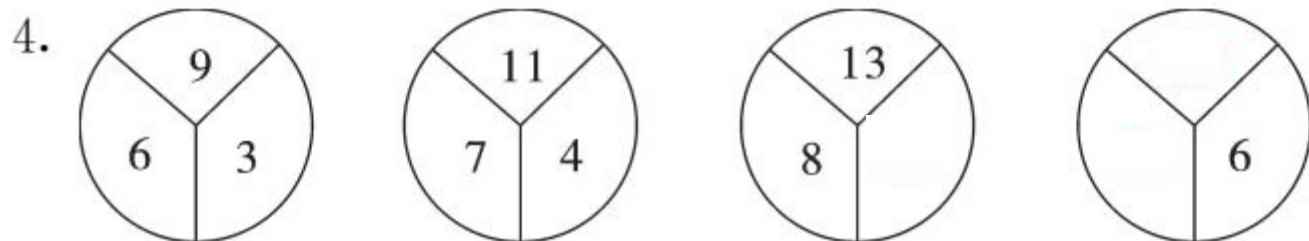


四、按规律填数。（15 分）

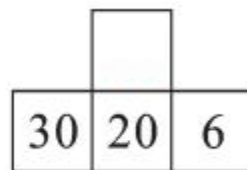
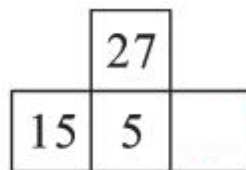
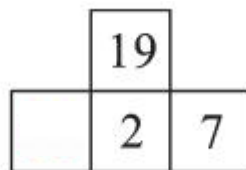
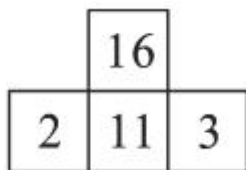
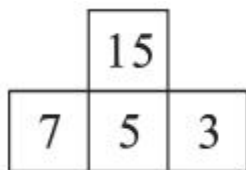
1. 27 36 45 () () ()

2. 100 80 () 40 () ()

3. 43 40 37 () () ()



5.



五、哪一行的规律不同？在()里画“△”。(9分)

1.

快	快	乐	乐	快	快	乐	乐	快	快	乐	乐	()
😊	😞	😞	😊	😞	😞	😊	😞	😞	😞	😊	😊	()
●	●	☆	☆	●	●	☆	☆	●	●	☆	☆	()

2.

10	15	20	25
35	40	45	50
80	85	90	95
12	14	16	18

()

()

()

()

3.

2	4	6	8
10	12	14	16
17	18	19	20
22	24	26	28

()

()

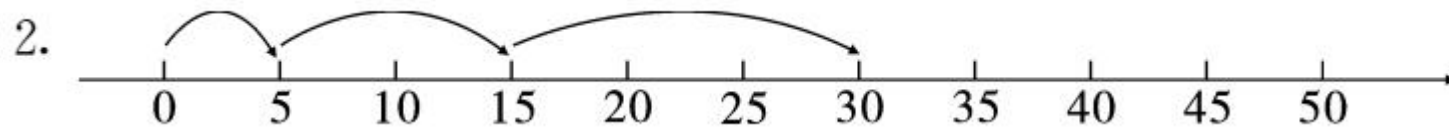
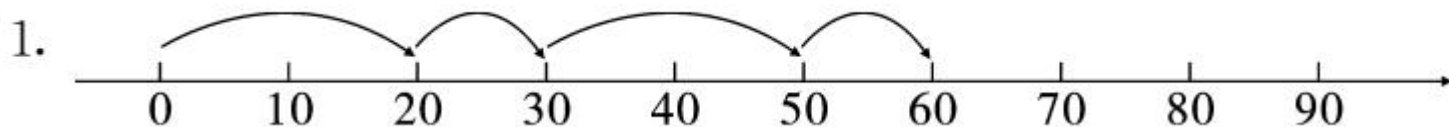
()

()

六、下面各题中都有一个数不合规律,把它画出来并改正在横线上。(9分)



七、照规律,画一画。(6分)





八、找规律填数,再计算。(6分)

$$5+5+5=$$

$$6+6+6=$$

$$\square+\square+\square=\square$$




$$15-5-5-5=$$

$$18-6-6-6=$$

$$21-\square-\square-\square=$$

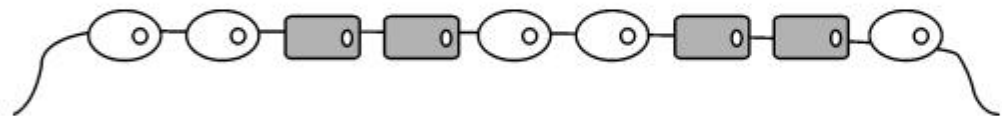
九、根据规律,填一填。(共8分)

1. (4分)



第9面旗是(),第13面旗是()。

2. 小丽串了一串手链,但掉了3颗珠子,掉的是哪3颗?(4分)



掉了 颗 , 颗 .

十、下面是 1~100 的百数表的一部分,其中有些地方被泼了墨,请根据百数表的顺序,把它们填完整。(9 分)

1	2	3	4	5	6	7	8	9	10
11	12	13	14	15	16	17	18	19	20
21	22	23	24						

	64
	74

	35

49	
59	

	56	



十一、在下面的方格里填“大”“家”“好”，使每行、每列都有这三个字。(5分)

