

# 7

# 条形统计图


第 1 课时 条形统计图(1)

[教材 P<sub>94</sub> 例 1]








# 开心！一练

## 一 水果商店。



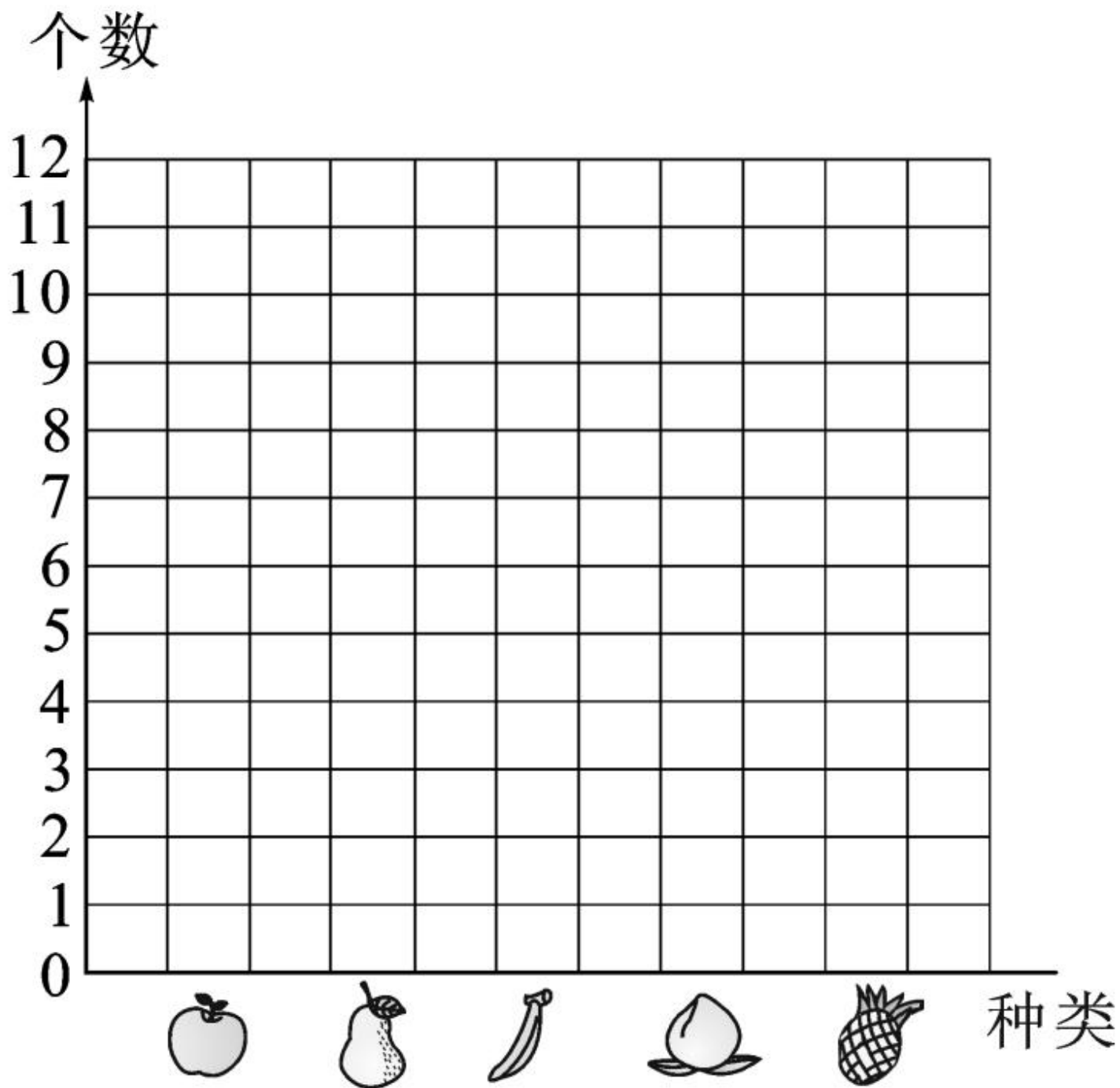


每种水果各有多少个？  
用统计表表示。

水果种类					
个数					



把上面的数据在下面用  
条形图表示出来。



1. ( )最多,( )最少。

2. 一共有( )个水果。

3. 苹果比梨少( )个,菠萝比香蕉多  
( )个。

4. 卖了 18 个水果后,还剩( )个。



# 快乐!提升

二 乐乐统计了本班同学的睡眠情况。

每天睡眠时间	8 时及以下	8 时半	9 时	9 时半	10 时及以上
人数	正一	正下	正正丁	正正	正正

小学生每天睡眠应达到10小时。





根据以上“正”字填统计表。


每天睡眠时间	8 时及以下	8 时半	9 时	9 时半	10 时及以上
人数					



把以上统计结果用条形图表示出来。

人数

12  
11  
10  
9  
8  
7  
6  
5  
4  
3  
2  
1  
0



8时及  
以下

8时半

9时

9时半

10时及  
以上

每天睡  
眠时间



1. 每天睡眠时间为( )的人最多,  
每天睡眠( )的人最少,  
一共统计了( )人。
2. 每天睡眠超过 9 时的有( )人,不  
足 9 时的有( )人。
3. 该班同学的睡眠时间怎么样? 你有什么  
建议?