




# 万以内的加法 和减法（二）

## 减法 例1、例2

# 一、复习旧知

算一算。

笔算减法时应注意什么？



$$550 - 380 = 170$$

$$\begin{array}{r} 550 \\ - 380 \\ \hline 170 \end{array}$$

相同数位对齐，  
从个位减起。



哪一位上的数不够减，  
从前一位退1。



## 二、探究新知




同学们都喜欢什么  
动画片？

## 二、探究新知

国产电视动画片生产情况统计表

年 份	2004	2005	2006	2007	2008	2009	2010	2011
总数 / 部	29	86	124	186	249	322	385	435
优秀 / 部	—	41	32	33	50	52	81	82

观察这个统计表，你能从中了解哪些信息？你能提出什么问题？



## 二、探究新知

国产电视动画片生产情况统计表

年 份	2004	2005	2006	2007	2008	2009	2010	2011
总数 / 部	29	86	124	186	249	322	385	435
优秀 / 部	—	41	32	33	50	52	81	82




2011年比2009年多生产多少部动画片？

$$435 - 322 = 113 \text{ (部)}$$

$$\begin{array}{r} 435 \\ - 322 \\ \hline 113 \end{array}$$

怎样列式？估计  
结果是多少？



## 二、探究新知

国产电视动画片生产情况统计表

年 份	2004	2005	2006	2007	2008	2009	2010	2011
总数 / 部	29	86	124	186	249	322	385	435
优秀 / 部	—	41	32	33	50	52	81	82




2011年比2009年多生产多少部动画片？

$$435 - 322 = 113 \text{ (部)}$$

$$\begin{array}{r} 435 \\ - 322 \\ \hline 113 \end{array}$$

怎样列式？估计  
结果是多少？



## 二、探究新知

国产电视动画片生产情况统计表

年 份	2004	2005	2006	2007	2008	2009	2010	2011
总数 / 部	29	86	124	186	249	322	385	435
优秀 / 部	—	41	32	33	50	52	81	82




2011年比2009年多生产多少部动画片？

$$435 - 322 = 113 \text{ (部)}$$

$$\begin{array}{r} 435 \\ - 322 \\ \hline 113 \end{array}$$

怎样列式？估计  
结果是多少？



## 二、探究新知

国产电视动画片生产情况统计表

年 份	2004	2005	2006	2007	2008	2009	2010	2011
总数 / 部	29	86	124	186	249	322	385	435
优秀 / 部	—	41	32	33	50	52	81	82




2005年比2011年少生产多少部动画片？

$$435 - 86 = 349 \text{ (部)}$$

$$\begin{array}{r} \phantom{4} \overset{3}{\cdot} \overset{12}{\cdot} \overset{15}{\phantom{0}} \\ 435 \\ - 86 \\ \hline 349 \end{array}$$

怎样列式？估计结果是多少？






## 二、探究新知

$$435 - 86 = 349 \text{ (部)}$$

$$\begin{array}{r} \overset{3}{\cdot} \quad \overset{12}{\cdot} \quad \overset{15}{} \\ 435 \\ - 86 \\ \hline 349 \end{array}$$


观察：十位怎样算？



个位不够减，从十位退1再减，十位剩2不够减8，再从百位退1，合起来是12，12减8等于4。

## 二、探究新知

笔算减法时要注意什么？



相同数位对齐，  
从个位减起。




哪一位上的数不够减，  
要从前一位退1。




### 三、知识应用


#### 1. 夺红旗。

  
$$\boxed{353 - 123 = 230}$$

$$\begin{array}{r} 353 \\ - 123 \\ \hline 230 \end{array}$$

  
$$\boxed{261 - 52 = 209}$$

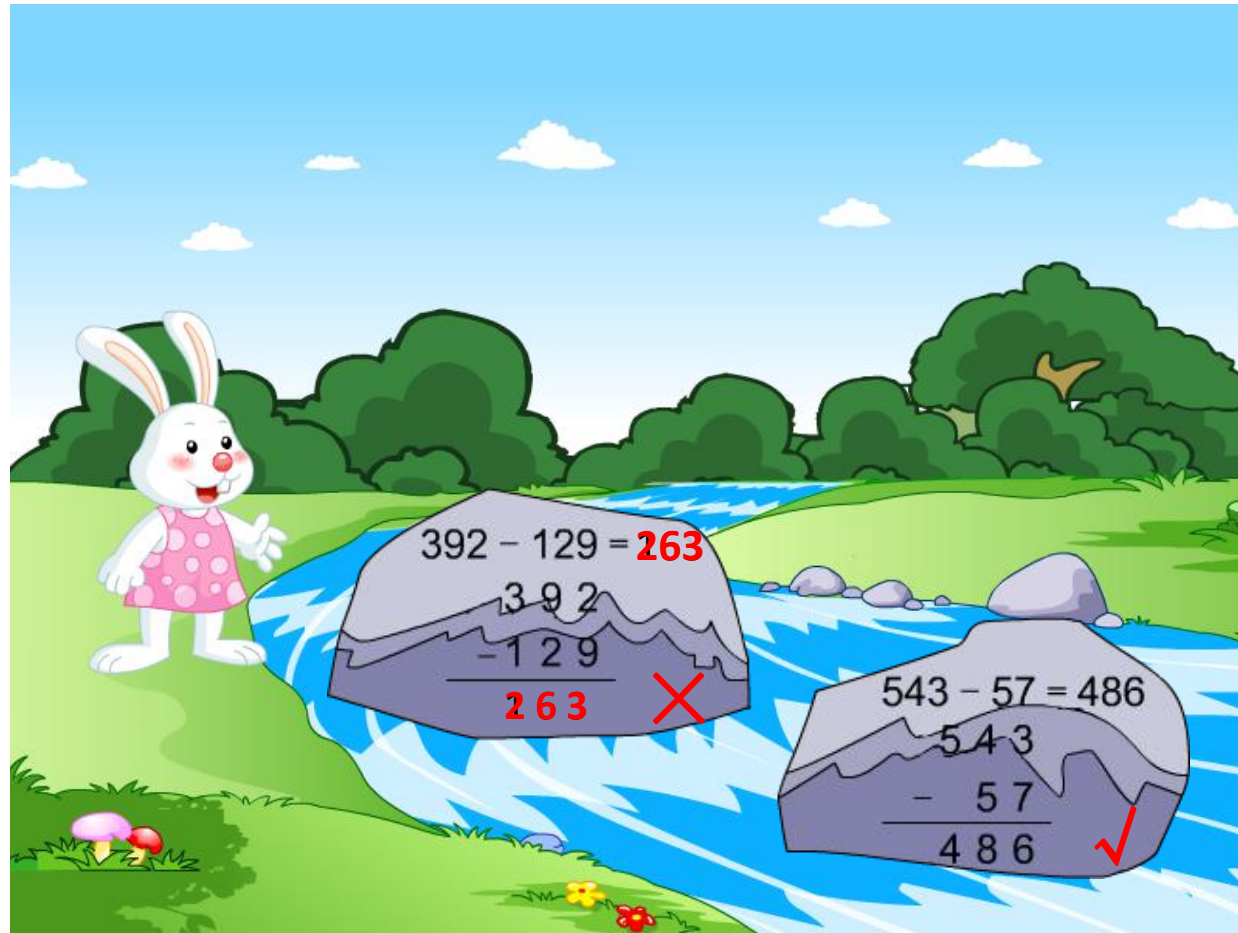
$$\begin{array}{r} 26\overset{\cdot}{1} \\ - 52 \\ \hline 209 \end{array}$$

  
$$\boxed{354 - 66 = 288}$$

$$\begin{array}{r} 3\overset{\cdot}{5}\overset{\cdot}{4} \\ - 66 \\ \hline 288 \end{array}$$


### 三、知识应用

2. 小兔过河——把错误的改正过来。



### 三、知识应用

你获得了什么信息？  
怎样解答？



3. 国庆节商店搞促销活动。看！家电区的电器降价了。降价后买电扇少花了多少钱？

电扇

原价：465元  
现价：355元



$$465 - 355 = 110 \text{ (元)}$$

$$\begin{array}{r} 465 \\ - 355 \\ \hline 110 \end{array}$$

答：买电扇少花了110元。

## 四、布置作业

作业：第**44**页练习九，第**1**题、第**2**题。