

2.3.4 用三角尺拼角

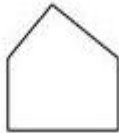
班级：_____ 姓名：_____

【课堂达标】

认真做,比一比看谁能拿到3颗



1. 下面的图形各有几个直角?



() 个直角 () 个直角 () 个直角

2. 给下面的图形添上一条线段,使它符合要求。试一试,你一定能行!




增加 2 个直角 增加 3 个直角 增加 4 个直角

【拓展练习】

3. 动手操作,用 2 根小棒先搭一个直角,再想一想,最多能搭几个直角?

【学习评价】

2018 年 9 月


自评	师评
	

14 日

2.1.1 长度单位



班级：_____ 姓名：_____

【课堂达标】

认真做，比一比看谁能拿到3颗 

1. 用  和  估一估



(1) 

大约有 () 个  长，大约有 () 个  长。

(2) 

大约有 () 个  长，大约有 () 个  长。

(3) 




大约有 () 个  长，大约有 () 个  长。

2. 要想让同一长度的物体测量结果一致，必须统一 ()。

【动手练习】

量一量，你家的餐桌、茶几等各有几个没使用过的铅笔长？

【学习评价】

自评	师评
  	

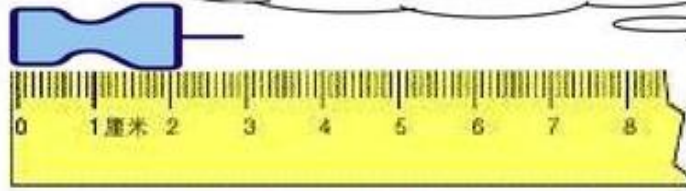
2.1.2 认识厘米

班级：_____ 姓名：_____

【课堂达标】

认真做，比一比看谁能拿到3颗

1.



() 厘米

2. 量物体的长度，要把尺子的 () 刻度对准物体的左端。

3. 填一填。


从 0 刻度到 5 刻度之间的距离是 () 厘米。

从 0 刻度到 10 刻度之间的距离是 () 厘米。

从 2 刻度到 6 刻度之间的距离是 () 厘米。

从 4 刻度到 11 刻度之间的距离是 () 厘米。

4. 谁量的对？对的画“√”。




【学习评价】

自评	师评

2.1.3 认识米。

班级：_____ 姓名：_____

【课堂达标】

认真做，比一比看谁能拿到3颗 



1. 填空。

1 米 = () 厘米 500 厘米 = () 米

3 米 = () 厘米 700 厘米 = () 米

15 厘米 + 8 厘米 = () 厘米

35 米 - 3 米 = () 米

72 厘米 + 28 厘米 = () 厘米 = () 米

2. 在○里填上“>”、“<”或“=”。

1 米 ○ 100 厘米 98 厘米 ○ 98 米 4 米 ○ 40 米

50 米 ○ 600 厘米 23 厘米 ○ 32 厘米 80 厘米 ○ 18 米

3. 判断。

(1) 铅笔长 12 米。()

(2) 楼房高 20 厘米。()

(3) 一棵松树高 16 米。()

(4) 桌子高 80 厘米。()

【拓展训练】

小猪家、小兔家和学校在公路的同一侧，小猪家到学校 35 米，

小兔从家到学校要走 20 米，从小猪家到小兔家要走多少米？

【学习评价】

自评	师评
	

2.1.4 认识线段

班级：_____ 姓名：_____

【课堂达标】

认真做，比一比看谁能拿到3颗



1. (1)画一条2厘米长的线段。

(2)画一条比3厘米短1厘米的线段。

2. 判断。

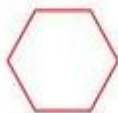
(1) 线段有两个端点。()

(2) 线段不能量出长度。()

(3) 数学书上面的4条边都是线段。()

(4) 弯曲的线也是线段。()

3. 数一数下面的图形是由几条线段组成的。



() 条 () 条 () 条 () 条

【拓展练习】

4.

看看哪条线段长，再量一量。



【学习评价】

自评	师评

1.5 解决问题


班级：_____ 姓名：_____

【课堂达标】

认真做,比一比看谁能拿到3颗



1. 在合适的答案后画“√”。



比1米长

比1米高

比1米长

比1米短

比1米矮

比1米短

2. 下面的长度单位对吗? 把不对的改正后写在括号里。

(1) 数学书长26米。 ()

(2) 灯管长50厘米。 ()

(3) 房间高3厘米。 ()

(4) 字典厚6米。 ()


(5) 大树高8米。 ()

(6) 教室长10厘米。 ()

和你的同桌说一说你是怎样判断的?

回家说给爸爸妈妈听。

【学习评价】

自评	师评
	

2.1.6 长度单位的练习

班级：_____ 姓名：_____

【课堂达标】

1. 想一想，算一算。

1 米 = () 厘米 8 米 = () 厘米 40 厘米 = () 米

2. 在括号里填上“>”、“<”或“=”。

1 米 () 99 厘米 80 厘米 () 80 米 30 厘米 () 3 米


4. 圈出合适的答案。

			
估计	比 10 厘米 长 短	比 1 米 宽 窄	比 1 米 长 短
测量	比 10 厘米 长 短	比 1 米 宽 窄	比 1 米 长 短

5. 谁说的对？在括号里画“√”。



【学习评价】

自评	师评
	

2.2.1 两位数加一位数不进位加

班级：_____ 姓名：_____

【课堂达标】

1. 列竖式计算。

$62 + 5 =$

$36 + 2 =$

$45 + 4 =$

$5 + 73 =$

2、

哪个得数对?对的画“√”。



$59+3=(62 \quad 52)$

$24+5=(29 \quad 74)$

$6+35=(31 \quad 41)$

$8+14=(94 \quad 22)$


3. 解决问题。

一共摘了多少个松果?

妈妈摘了35个松果，
我摘了8个。



【学习评价】

自评	师评
	

2.2.2 两位数加两位数的不进位加法

班级：_____ 姓名：_____

【课堂达标】

认真做，比一比看谁能拿到3颗



1. 笔算下面各题。

$45 + 43 =$

$27 + 12 =$

$31 + 18 =$

$72 + 6 =$

2. 看哪位同学得到气球。

$$\begin{array}{r} 33 \\ +41 \\ \hline \end{array}$$

$$\begin{array}{r} 23 \\ +33 \\ \hline \end{array}$$

$$\begin{array}{r} 22 \\ +65 \\ \hline \end{array}$$

$$\begin{array}{r} 43 \\ +15 \\ \hline \end{array}$$

3. 张丽看了一本故事书，第一天看了24页，第二天看了39页，两天一共看了多少页？

4. 根据下图，你能提出哪些不同的数学问题？请提出并算一算。



24箱



9箱



16箱

【学习评价】

自评	师评

2.2.3 两位数加两位数的进位加法

班级：_____ 姓名：_____


【课堂达标】

认真做，比一比看谁能拿到3颗

1. 笔算下面各题。

$$25 + 47 = \quad 47 + 18 = \quad 31 + 19 = \quad 65 + 26 =$$

2.




(1) 买一个布娃娃和一顶帽子一共要花多少钱？

(2) 强强有60元钱，买一顶帽子和一本新华字典，够吗？

3. 妈妈给小红买裙子花了28元，买上衣花了65元，妈妈一共花了多少元钱？

4. 三年三班同学参加植树活动，男生植树36棵，女生植树19棵，三年三班同学共植树多少棵？

【学习评价】

自评	师评
	

2.2.4 两位数加两位数（练习二）

班级：_____ 姓名：_____

【课堂达标】

认真做，比一比看谁能拿到3颗 



1. 笔算下面各题。

$22+47=$

$7+54=$

$34+8=$

$65+35=$

$$\begin{array}{r} 36 \\ 61 \\ \hline \end{array}$$

$$\begin{array}{r} 53 \\ 89 \\ \hline \end{array}$$

$$\begin{array}{r} 47 \\ 97 \\ \hline \end{array}$$

2. 森林医生。（你能帮啄木鸟把下面大树的病治好吗？）

$$\begin{array}{r} 36 \\ 61 \\ \hline \end{array}$$

$$\begin{array}{r} 53 \\ 89 \\ \hline \end{array}$$

$$\begin{array}{r} 47 \\ 97 \\ \hline \end{array}$$

3. 生活中的数学。



23 元



30 元

45 元






8 元

(1) 买一个篮球和一个毽子一共花了多少元？

(2) 买最便宜的两样物品，带 30 元够吗？


【学习评价】

自评	师评
  	

2.2.5 两位数减两位数的不退位减

班级：_____ 姓名：_____

【课堂达标】

认真做，比一比看谁能拿到3颗 

1. 笔算下面各题。

$49-27=$

$67-34=$

$96-56=$

$78-5=$

2. 在○里填上“>”、“<”或“=”。

$19+71 \bigcirc 90$

$45 \bigcirc 78-25$

$75 \bigcirc 96-16$

3. 一辆车限乘46人，有42名学生要去参观，汽车上还有几个空座位？

4.



【学习评价】

自评	师评
  	

2.2.6 两位数减两位数的退位减法

班级：_____ 姓名：_____

【课堂达标】

认真做，比一比看谁能拿到3颗



1. 笔算下列各题。

$45-29=$

$53-36=$

$72-19=$

$81-66=$

2. 红红做了24道题，乐乐比红红少做7道，乐乐做了多少道题？

3. 列式计算。

小明：我家养了48只白兔。

小芳：我家养的白兔比小明家多24只，我家养了多少只白兔？

□○□=□(只)


【学习评价】

自评	师评

2.2.7 两位数减两位数（练习三）

班级：_____ 姓名：_____

【课堂达标】

认真做，比一比看谁能拿到3颗 



1. 笔算下列各题。

$72-34=$

$53-27=$

$81-18=$

$32-26=$

2. 在○里填上“>”“<”或“=”。


$65-29 \bigcirc 27-5$

$33-20 \bigcirc 43-27$

$21+15 \bigcirc 77-19$

3. 青蛙妈妈吃了 52 只害虫。小青蛙吃了 24 只害虫。青蛙妈妈比小青蛙多吃了多少只害虫？

【学习评价】

自评	师评
	

2.2.8 求比一个数多(少)几的数

班级: _____ 姓名: _____

【课堂达标】

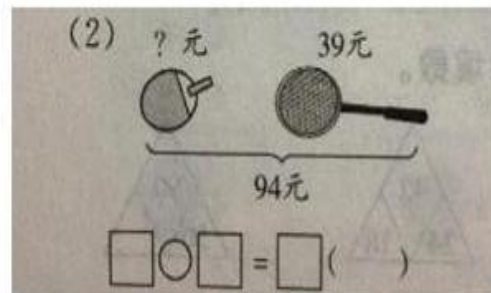
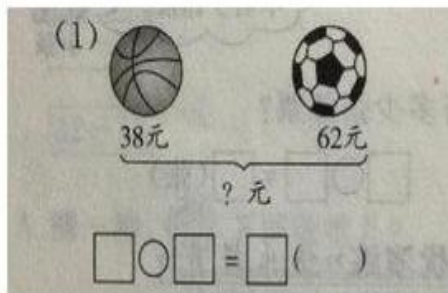
认真做,比一比看谁能拿到3颗星

1. 光明小学车棚有 16 辆汽车, 电动车比汽车多 47 辆。

电动车有多少辆?

2. 一个书包 56 元, 一个文具盒比它便宜 29 元, 文具盒多少元?

3. 看图列式计算。



【拓展练习】

选择合适的信息解决问题。

大象有 17 只, 小熊有 25 只, 长颈鹿有 12 只, 斑马比小熊少 6 只, ,
小猴比小熊多 6 只, 斑马比大象多 2 只, 斑马有多少只?

【学习评价】

自评	师评

2.2.9 练习四

班级：_____ 姓名：_____

【课堂达标】

认真做,比一比看谁能拿到3颗



1. 下面的计算对吗?把错误的改正过来。

$\begin{array}{r} 56 \\ +24 \\ \hline 70 \end{array}$	$\begin{array}{r} 38 \\ +46 \\ \hline 94 \end{array}$	$\begin{array}{r} 3 \\ +48 \\ \hline 51 \end{array}$
---	---	--

2. 在○里填上“+”或“-”。

$$27 \bigcirc 19 = 46$$

$$18 \bigcirc 42 = 60$$

$$41 \bigcirc 18 = 23$$

$$35 \bigcirc 35 = 70$$

$$65 \bigcirc 36 = 29$$

$$80 \bigcirc 54 = 26$$

3. 列式计算。

(1) 25 比 7 多多少?

(2) 26 比 48 多多少?

4. 小刚有 36 枚邮票,小林比小刚多 18 枚。小林有多少枚邮票?

5. 先补充完整,再解答。

图书室里有故事书 46 本,连环画 38 本, _____ ?

【学习评价】

自评	师评
	

2.2.10 连加连减

班级：_____ 姓名：_____

【课堂达标】

认真做，比一比看谁能拿到3颗

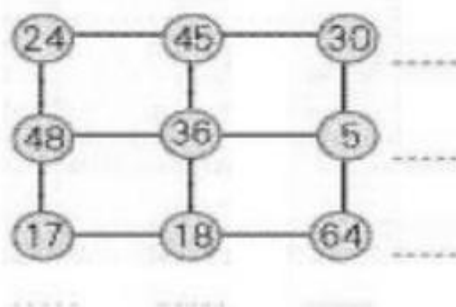


1. 先说一说运算顺序，再列竖式计算。

$$54 + 20 + 16 =$$

$$90 - 58 - 24 =$$

2. 把每一行的三个数都加起来。



3. 育才小学三年级（1）班有 27 个学生，（2）班有 31 个学生，（3）班有 30 个学生，这三个班一共有多少个学生？

【学习评价】

自评	师评

2.2.11 加减混合

班级：_____ 姓名：_____

【课堂达标】

认真做，比一比看谁能拿到3颗



1. 先说一说运算顺序，再列竖式计算。

$49 + 24 - 65 =$

$39 + 45 - 57 =$

$75 - 38 - 19 =$

$$\begin{array}{r} 49 \\ + 24 \\ \hline () \\ - 65 \\ \hline () \end{array}$$

$$\begin{array}{r} 39 \\ + 45 \\ \hline () \\ - 57 \\ \hline () \end{array}$$

$$\begin{array}{r} 75 \\ - 38 \\ \hline () \\ - 19 \\ \hline () \end{array}$$

- 2.

$25 \xrightarrow{+36} \square \xrightarrow{-47} \square \xrightarrow{+58} \square \xrightarrow{-23} \square \xrightarrow{+19} \square$

3. 王奶奶家原来养了 64 只鸭，卖了 27 只后，又买来 35 只。王奶奶家现在有多少只？

- 4.



星星合唱队原有 52 人，有 9 名同学毕业了，新加入 15 人，合唱队现在有多少人？

【学习评价】

自评	师评

2.2.12 连加连减和加减混合（练习五）

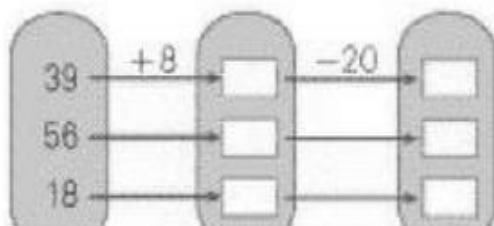
班级：_____ 姓名：_____

【课堂达标】

认真做，比一比看谁能拿到3颗



1.



2. 在○里填上“>”、“<”或“=”

$45+27-47 \bigcirc 26$

$34 \bigcirc 27+25-18$

$85+15-29 \bigcirc 16$

3. 动物园里有 16 只大猴，26 只小猴，后来送走了 18 只，动物园里现在还有多少只猴子？

4. 学校合唱队需要 80 人，已经报名参加的男生有 36 人，女生有 24 人，还需要多少人？


【学习评价】

自评	师评
	

2.2.13 解决问题

班级：_____ 姓名：_____

【课堂达标】

认真做，比一比看谁能拿到3颗 



1. 估算一下，下面哪些算式的得数比80大。

38+39 90-11 31+52 23+41+29 100-10-12 98-17

2.



(1) 孵小鸡要用多少天？


(2) 孵小鹅比孵小鸡多用9天，孵小鹅要用多少天？

3.



现在小明大约有多少枝水彩笔？

【学习评价】

自评	师评
	

2.2.14 练习六

班级：_____ 姓名：_____

【课堂达标】

认真做，比一比看谁能拿到3颗



1. 列竖式计算。

$$57 - 30 + 13 = \quad 27 + 13 - 40 = \quad 91 - 83 + 2 =$$

$$71 - 21 + 13 = \quad 47 + 20 - 17 = \quad 81 - 50 - 31 =$$

2. 在○里填上“>”、“<”或“=”。

$$77 - 27 - 35 \bigcirc 28$$

$$43 \bigcirc 69 + 25 - 36$$

$$88 + 19 - 37 \bigcirc 17$$

$$55 - 17 + 9 \bigcirc 36$$

$$60 \bigcirc 54 + 25 - 18$$

$$63 + 29 - 75 \bigcirc 26$$

3.

图书角原有56本图书，又买来15本。

同学们借走了8本。

还剩多少本？

□○□○□=□(本)

4. 商店里有48箱苹果，卖出36箱后，又运进28箱，现在还有多少箱苹果？

【学习评价】

自评	师评

2.2.15 100 以内数加法和减法的整理与复习（复习）

班级：_____ 姓名：_____

【课堂达标】

认真做，比一比看谁能拿到3颗



1. 笔算下面各题。

$64-33=$

$56+27=$

$86-50+24=$

$43-8-30=$

2. 在 ○里填上“<”、“>”或“=”。

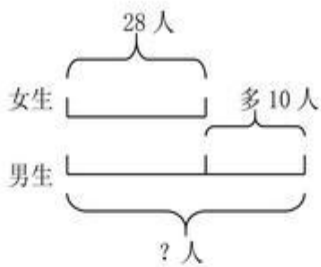
$73+8 \bigcirc 82$

$56+9 \bigcirc 65$

$54-8 \bigcirc 36$

$36-9 \bigcirc 28$

3. 看图列式计算：



4. 10年以后父亲比儿子大多少岁？



我今年41岁



我今年13岁

【学习评价】

自评	师评
	

2.3.1 角的初步认识

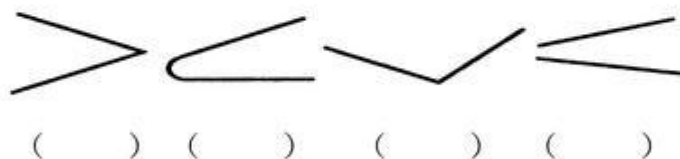
班级：_____ 姓名：_____

【课堂达标】

认真做，比一比看谁能拿到3颗



1. 找出哪一个是角，哪一个不是角。



2. 填空。

(1) 一个角有 () 个顶点，有 () 条边。

(2) 画角时先画 ()，再画 ()。

3. 判断。

(1) 边越长，角就越大。 ()

(2) 角的大小与边的长短无关。 ()

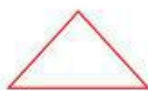
(3) 一个角只有两条边，一个顶点。 ()

【拓展练习】

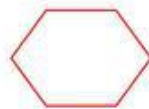
4. 找找看，“我”的身体上藏着几个角？



() 个



() 个



() 个

【学习评价】

自评	师评
	

2.3.2 直角的认识

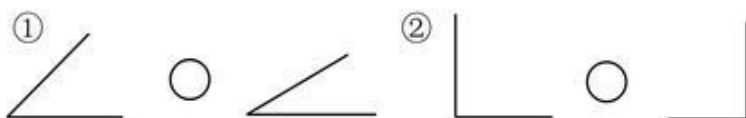
班级：_____ 姓名：_____

【课堂达标】

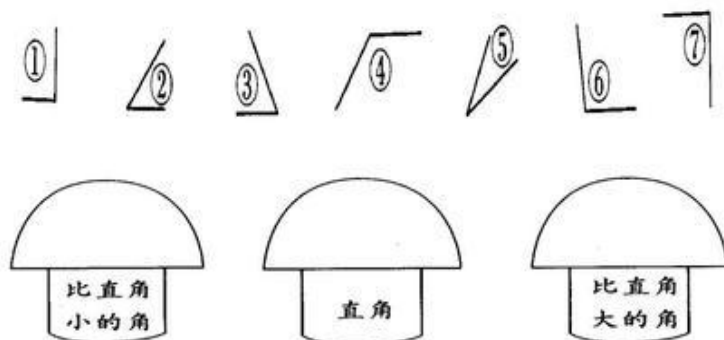
认真做，比一比看谁能拿到3颗

1. 画一个直角，并标上直角符号。

2. 用三角板上的角比比看：下面各题左右两个角，哪个角大？哪个角小？在○里填上“>”“<”或“=”。



3. 选一选。（把序号填在蘑菇瓶中）



【学习评价】

自评	师评

2.3.3 认识锐角、钝角

班级：_____ 姓名：_____

【课堂达标】

认真做，比一比看谁能拿到3颗

1. 找出哪一个是锐角，哪一个是直角，哪一个是钝角。



锐角有 ()。

直角有 ()。

钝角有 ()。

2. 在点子图上分别画一个锐角，一个直角和一个钝角。



【拓展练习】

3. 在下面图形中，把锐角涂成红色，把钝角涂成蓝色。



【学习评价】

自评	师评

2.3.3 认识锐角、钝角

班级：_____ 姓名：_____

【课堂达标】

认真做，比一比看谁能拿到3颗



1. 找出哪一个是锐角，哪一个是直角，哪一个是钝角。




锐角有 ()。

直角有 ()。

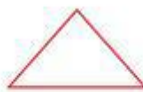
钝角有 ()。

2. 在点子图上分别画一个锐角，一个直角和一个钝角。



【拓展练习】

3. 在下面图形中，把锐角涂成红色，把钝角涂成蓝色。



【学习评价】

自评	师评