


小学一年级数学上册练习题 1

一、填空。

1、 中有 () 个三角形。


2、一个数加 5 后是 8，这个数是 ()。

3、 有 () 个长方形。

4、有两个相等的数，它们的和是 6，则这两个数是 () 和 ()。

5、

(1) 一共有 () 种水果。

(2) 从左数， 在第 ()；从右数， 在第 ()。

(3)  前面有 () 种水果，后面有 () 种水果。

二、判断。(对的打“√”错的打“×”)

1、粉笔盒、冰箱都是长方体。 ()

2、足球、皮球都是球体。 ()

3、19 后面只有一个数，那就是 20。 ()

4、在 1~7 之间有 6 个数。 ()

5、正方体的 6 个面都是正方形。 ()

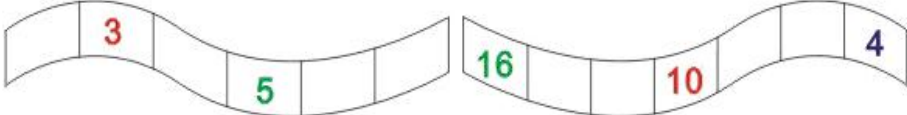
三、1、从前往后数，小红排在第 9 位，从后往前数，小红排在第 1 位，请问这一排一共有多少位小朋友？

2、从前往后数，小红排在第 5 位，从后往前数，小红排在第 8 位，请问这一排一共有多少位小朋友？

小学一年级数学上册练习题 2

一、填空。

- 1、1 的前面是（ ），8 的后面是（ ），19 的后面是（ ），10 的前面是（ ）。
- 2、1 个十和 5 个一组成（ ）。2 个十是（ ）。
3 个 1 和 1 个十是（ ）。19 里面有（ ）个十和（ ）个 1。
20 里面有（ ）个十。
- 3、个位是 5，十位是 1 的数是（ ）。十位是 2，个位是 0 的数是（ ）。
个位是 1，十位上的数字比个位上的数字大 1 的数是（ ）。
十位是 1，个位上的数字比十位上的数字大 5 的数是（ ）。
- 4、从右边起第一位是（ ），第二位是（ ）。
有 1 个十在十位写（ ），有 2 个十在十位写（ ），有几个一在个位写（ ）。
- 5、右边起，第一位是 4，第二位是 1，这个数是（ ）。

- 6、

二、我会做。

- 1、从前往后数，小红排在第 8 位，从后往前数，小红排在第 3 位，请问这一排一共有多少位小朋友？
- 2、从前往后数，小红排在第 6 位，从后往前数，小红排在第 2 位，请问这一排一共有多少位小朋友？

小学一年级数学上册练习题 3

一、填一填。

1、在 1、0、3、4、2、5、10、8、7、6 这些数中，一共有（ ）个数，最大的数是（ ），最小的数是（ ），比 7 大的数有（ ），比 3 小的数有（ ）。

2、写出 7 后面连续的 6 个数（ ）、（ ）、（ ）、（ ）、（ ）、（ ）。

3、16 中的“6”在（ ）位上，表示（ ）个（ ）。

4、写出下面各数

十六（ ） 十一（ ） 十九（ ） 十四（ ）

十七（ ） 二十（ ） 十二（ ） 十八（ ）

5、从 14 数起，第 6 个数是（ ）。

6、与 14 相邻的两个数是（ ）和（ ）。

7、① 比 7 大而又比 11 小的数有（ ），共（ ）个。

② 1 个十和 5 个一合起来是（ ），再去掉 5 就是（ ）。

③ 16 在（ ）和（ ）中间，19 的前面是（ ），11 的后面是（ ）。

二、做一做：

从前往后数，小红排在第 7 位，从后往前数，小红排在第 5 位，请问这一排一共有多少位小朋友？

一年级数学应用题练习

- 1、同学们要做 10 个灯笼,已做好 8 个,还要做多少个?
- 2、从花上飞走了 6 只蝴蝶,又飞走了 5 只,两次飞走了多少只?
- 3、飞机场上有 15 架飞机,飞走了 3 架,现在机场上有飞机多少架?
- 4、小苹种 7 盆红花,又种了同样多的黄花,两种花共多少盆?
- 5、学校原有 5 瓶胶水,又买回 9 瓶,现在有多少瓶?
- 6、小强家有 10 个苹果,吃了 7 个,还有多少个?
- 7、汽车总站有 13 辆汽车,开走了 3 辆,还有几辆?
- 8、小朋友做剪纸,用了 8 张红纸,又用了同样多的黄纸,他们用了多少张纸?
- 9、马场上有 9 匹马,又来了 5 匹,现在马场上有多少匹?
- 10、商店有 15 把扇,卖去 5 把,现在有多少把?
- 11、学校有兰花和菊花共 15 盆,兰花有 6 盆,菊花有几盆?
- 12、小青两次画了 17 个,第一次画了 9 个,第二次画了多少个?
- 13、小红家有苹果和梨子共 13 个,苹果有 4 个,梨子有多少个?
- 14、学校要把 12 箱文具送给山区小学,已送去 7 箱,还要送几箱?
- 15、家有 11 棵白菜,吃了 5 棵,还有几棵?
- 16、从车场开走 8 辆大汽车,又开走同样多的小汽车,两次开走多少辆汽车?
- 17、学雷锋小组上午修了 8 张椅,下午修了 9 张,一天修了多少张椅?
- 18、明明上午算了 12 道数学题,下午算了 8 道,上午比下午多算多少道题?
- 19、图书室里有 20 个女同学,有 10 个男同学,男同学比女同学少多少个?
- 20、动物园里有大猴 20 只,有小猴 30 只,小猴比大猴多多少只?
- 21、学校有 10 个足球,16 个篮球,足球比篮球少多少个?
- 22、花园里有兰花 40 盆,菊花 60 盆,兰花再种多少盆就和菊花同样多?
- 23、妈妈买红扣子 18 个,白扣子 10 个,黑扣子 8 个。

(1) 红扣子比白扣子多多少个？

(2) 黑扣子比白扣子少多少个？

24、小华做了 20 个信封，小亮比小华多做 6 个，

(1) 小亮做了多少个？

(2) 白花比红花少多少朵？

(3) 白花比黄花少多少朵？

(4) 一共有多少朵花？