

第二节 人口





知识梳理

一、世界上人口最多的国家

1. 总量:2010年第六次全国人口普查,我国人口总数为_____ (不包括港澳台),是世界上人口_____的国家。
2. 人口突出特点:人口基数_____,增长速度_____。
3. 人口政策:_____。目的:控制人口_____,提高人口_____。

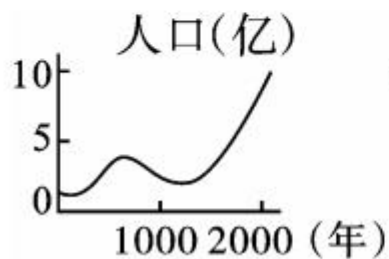
二、人口东多西少

4. 人口分布特点:_____。
5. 人口分界线:黑龙江_____至云南_____,此线东南部人口_____,西北部人口_____。

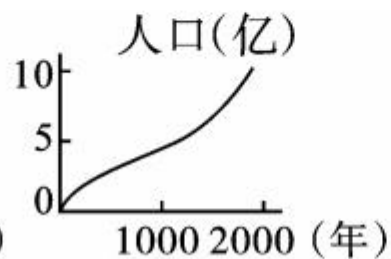
A 基础方阵

知识点 1 世界上人口最多的国家

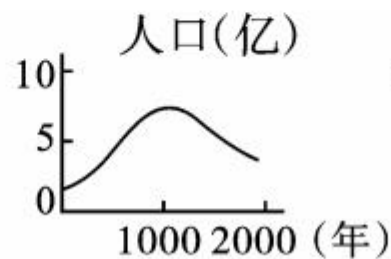
1. 根据 2010 年第六次全国人口普查,我国人口总数是 ()
A. 13.40 亿 B. 12.95 亿 C. 10.32 亿 D. 6.02 亿
2. 下列四幅人口增长图,与我国实际相符的是 ()



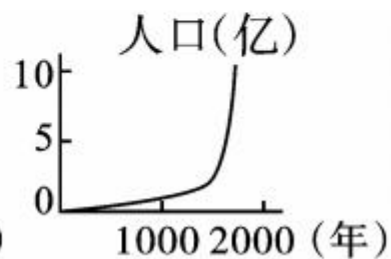
A



B



C



D



3. 中华人民共和国成立后,我国人口增长快的主要原因是 ()

- A. 人口居住地的自然条件有较大的改变
- B. 经济文化的发展,医疗卫生条件的明显改善
- C. 商业贸易活动日益频繁
- D. 社会劳动力需求大幅度增加

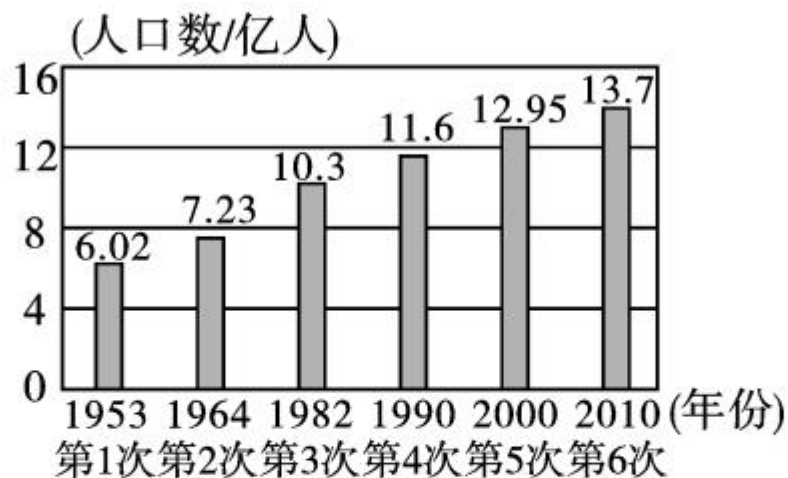
4. 人口数量过多给我国带来的不利影响主要有 ()

①资源紧缺 ②劳动力不足 ③环境破坏 ④就业压力大 ⑤住房困难

- A. ①②③ B. ①③④ C. ②③④⑤ D. ①③④⑤



(扬州市中考)如图为“我国六次人口普查人口数量统计图”,读图完成 5—6 题。




5. 从 2000 年到 2010 年,我国人口总量 ()
- A. 明显减少 B. 停止增长 C. 保持高速增长 D. 增长速度放缓
6. 我国实施“全面二孩”政策的主要背景是人口 ()
- A. 出现负增长 B. 死亡率增高
- C. 老龄化现象严重 D. 向国外大量迁移

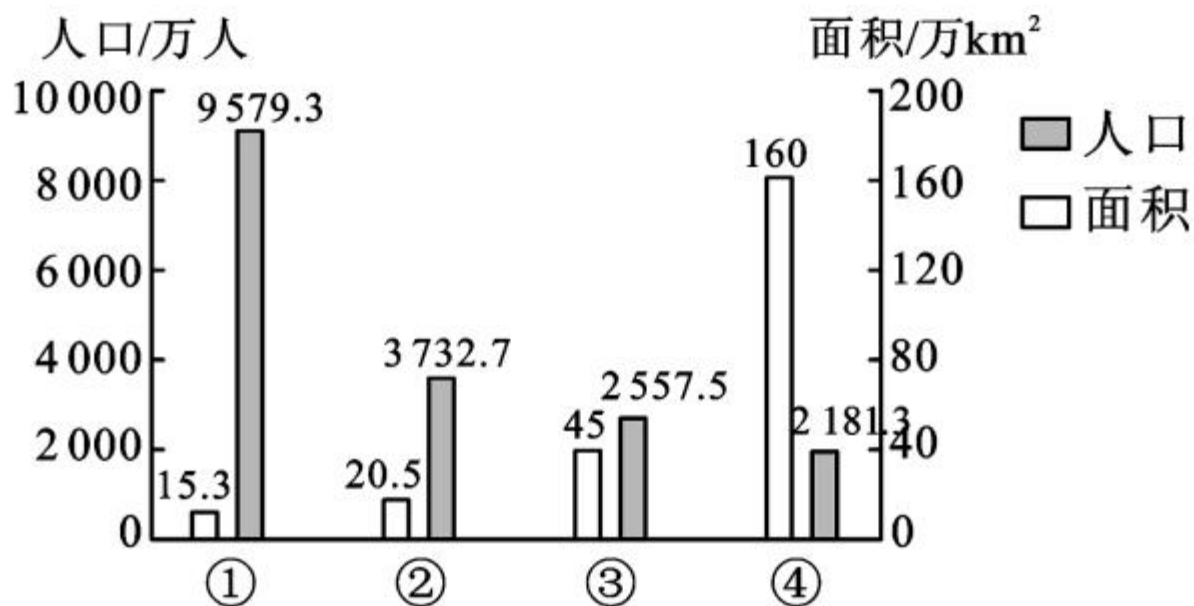


知识点 2 人口东多西少

7. 我国人口稠密区位于 ()
- A. 东部沿海平原地区 B. 西部高原山地地区
- C. 漠河—腾冲一线以东 D. 黑河—腾冲一线以西



下图为“山东省、陕西省、甘肃省、新疆维吾尔自治区人口、面积数据图”(第六次全国人口普查数据)。读图完成 8—9 题。



8. ①、②、③、④代表的省区分别是 ()

A. 山东、陕西、甘肃、新疆

B. 陕西、甘肃、山东、新疆

C. 新疆、陕西、甘肃、山东

D. 甘肃、陕西、新疆、山东

9. 图中省区人口密度最大的是 ()

A. 陕西

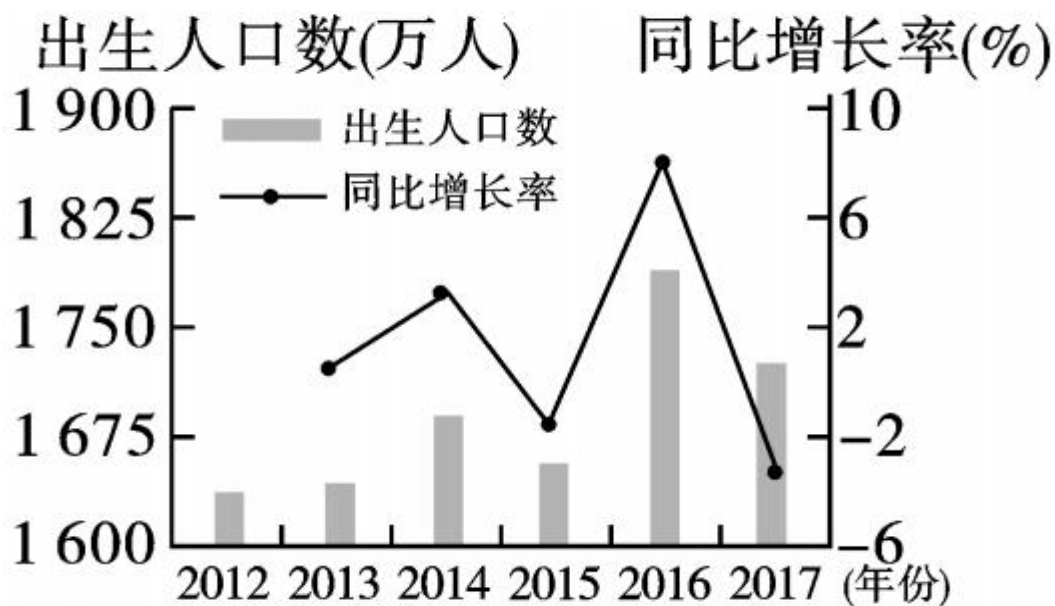
B. 山东

C. 甘肃

D. 新疆

B **整合** 阅兵

(青岛市中考)2013 年中国实施“单独二孩”政策，2016 年实施“全面二孩”政策。读“我国 2012—2017 年出生人口数及同比增长率变化图”，完成 10—11 题。



10. 关于图中信息的叙述,正确的是 ()

A. 同比增长率波动变化大

B. 出生人口数持续增多

C. 出生人口数先增后减

D. 同比增长率持续增大

11. 2016 年出生人口数变化的主要原因是 ()

A. 社会经济发展

B. 生育观念变化

C. 生育政策调整

D. 传统风俗影响



12. (凉山州中考)应对我国因人口老龄化而产生的问题,目前我国可以采取的有效措施是 ()


- ①鼓励引进国外劳动力 ②不再实行计划生育政策
③健全养老保障体系 ④适当延迟退休年龄

A. ①②

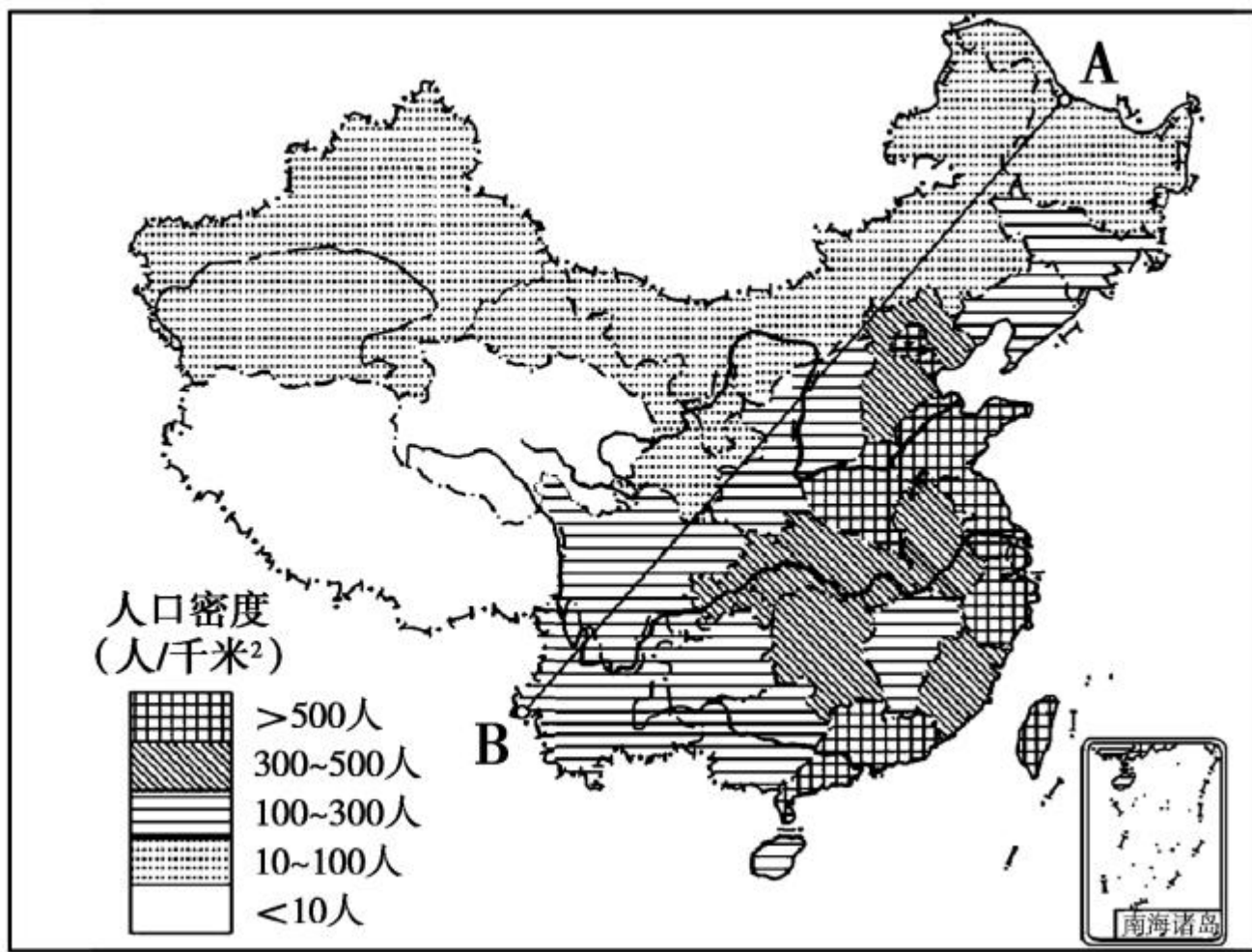
B. ①③

C. ②③

D. ③④



13. 读“我国人口密度图”，回答问题。



(1)我国人口的地理分界线是黑龙江省的 A _____
_____到云南省的 B _____ 一线。

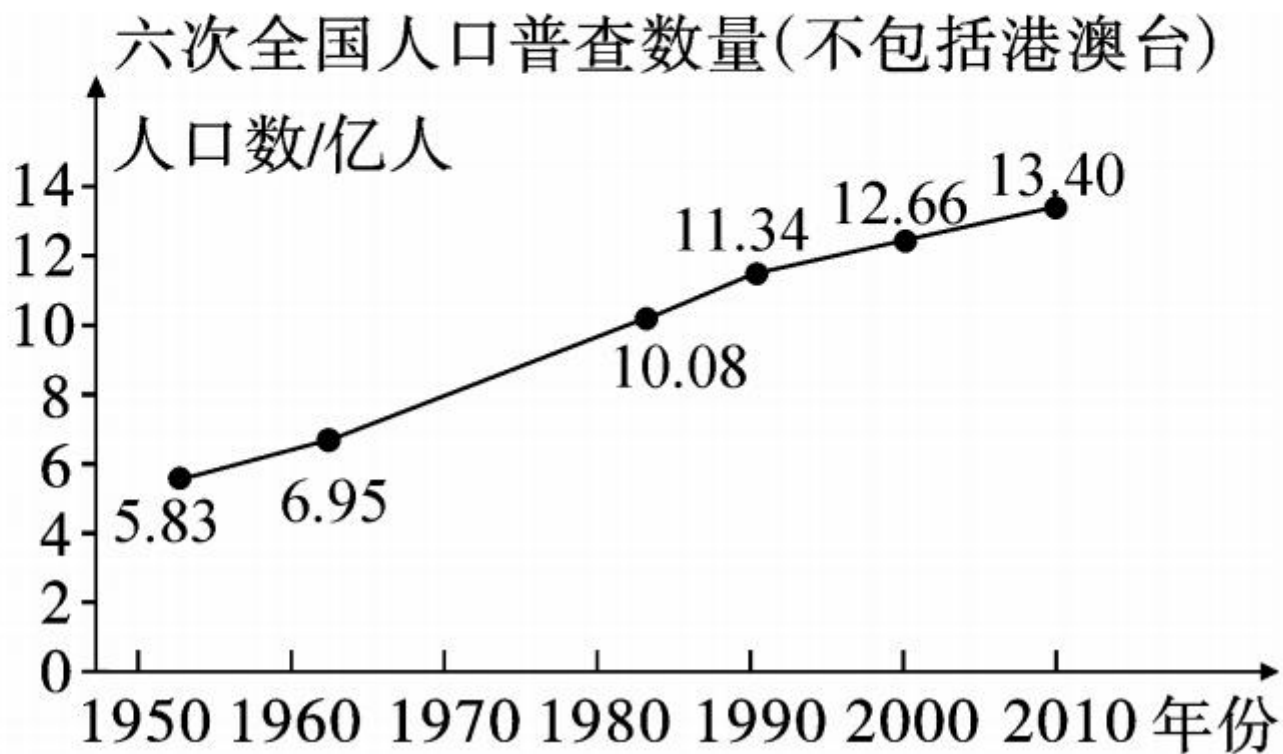
(2)据图,我国的人口分布特点是 _____,
其主要的自然原因是东部 _____
_____,社会原因是东部 _____
_____。

(3)我国人口密度超过 500 人/千米² 的省区有
_____, _____、_____, _____、_____
_____, _____。人口密度最小的两个省区是
_____和 _____,位于 _____ 高原上。

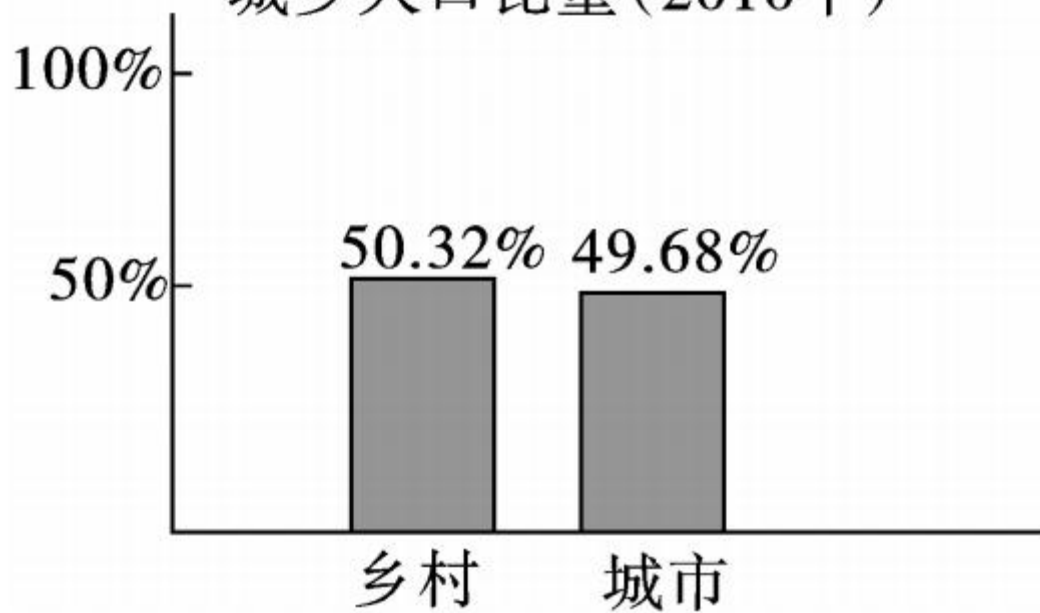


开放探究

14. 读下面两幅图,回答相关问题。



城乡人口比重(2010年)



(1)我国第六次人口普查数据是第一次的_____倍。(保留2位小数)

(2)2010年我国乡村人口数量约_____人，比城市人口_____ (多或少)_____人。(保留2位小数)

(3)发达国家城市人口比例高于乡村。对此我国应当增大_____人口比重。







