

3 测量

例5(千米与米的
单位换算)

一、复习旧知



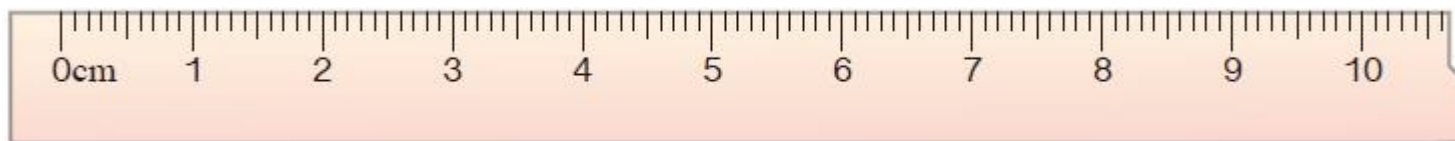
请你填上合适的长度单位。

京藏高速全长约**3710**(**千米**)。

一、复习旧知



请你填上合适的长度单位。



尺子的长度大约是**10**（ **厘米** ）。

一、复习旧知




要根据物品的大小正确地选择长度单位。



教室长8(米),
宽6 (米) 。

二、探究新知




3千米 = () 米，你是怎么想的？

我是这么想的：
1千米是1000米，
3千米是3个1000米。



$$3\text{千米} = 3000\text{米}$$

二、探究新知



5000米 = () 千米，你是怎么想的？

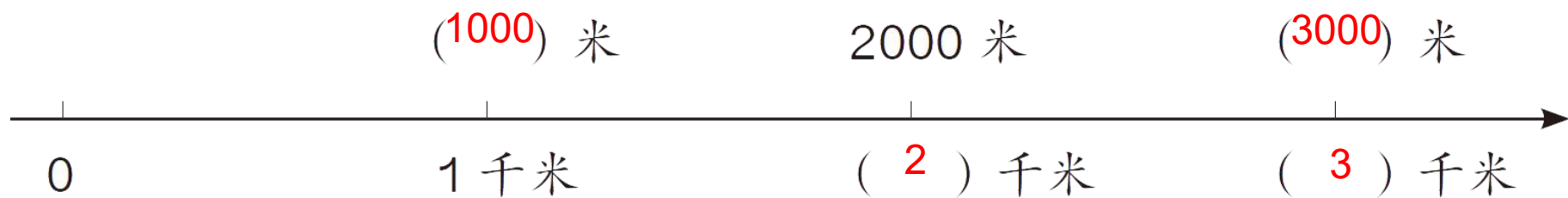
我是这样想的：
1000米是1千米，
5000米里面有5个1000米。



$$5000\text{米} = 5\text{千米}$$

三、知识应用

1. 做一做。



三、知识应用

2. 填空。

$$300\text{厘米} = (3) \text{米}$$

$$4\text{千米} = (4000) \text{米}$$

$$700\text{米} + 300\text{米} = (1) \text{千米}$$

$$3\text{千米} - 1\text{千米} = (2000) \text{米}$$

三、知识应用

3. 小帅跑了5圈，他一共跑了几千米？



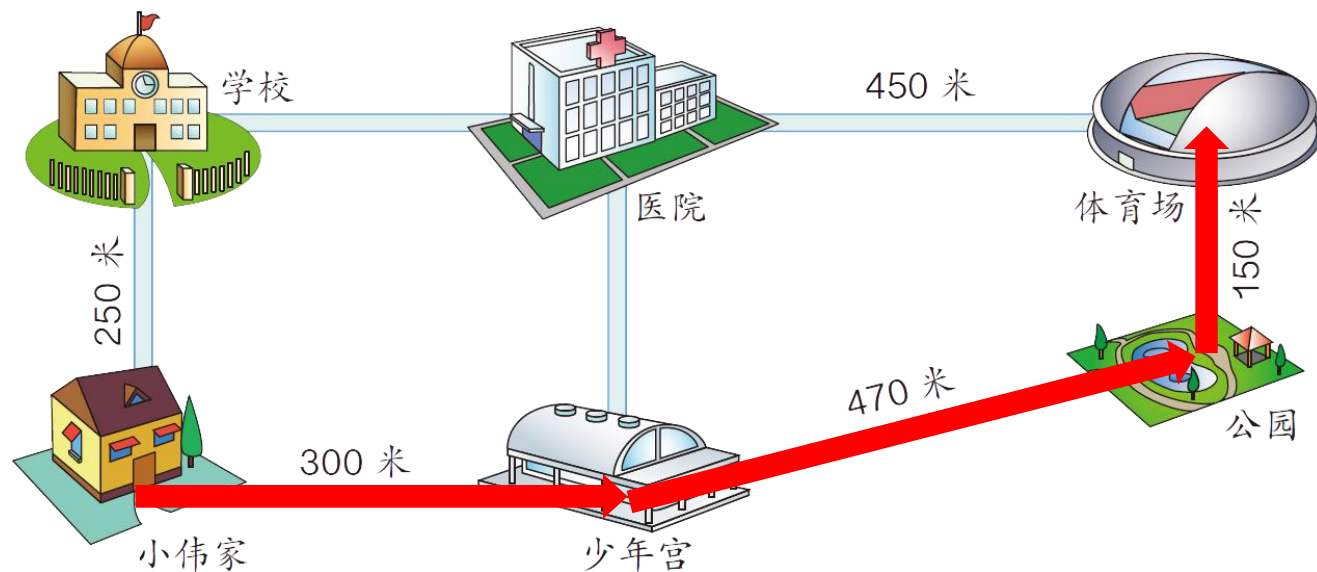
$$400 \times 5 = 2000 \text{ (米)}$$

$$2000 \text{ 米} = 2 \text{ 千米}$$

答：他一共跑了2千米。

三、知识应用

4. 从小伟家到体育场怎么走最近？要走多少米？
把最近的路线描出来。



$$300 + 470 + 150 = 920 \text{ (米)}$$

四、布置作业

作业：第**28**页练习六，第3题、第4题。

第29页练习六，第11题、第12题。