



第二章

章末综述



考点突破

高频考点 1 七大洲和四大洋

【考情剖析】此考点主要考查一些地理事物的名称,重视对各种地图的分析。七大洲和四大洋的范围和相对位置、七大洲的轮廓、面积大小和大洲的分界线是考试中的热点。多以选择题、综合题的形式出现。

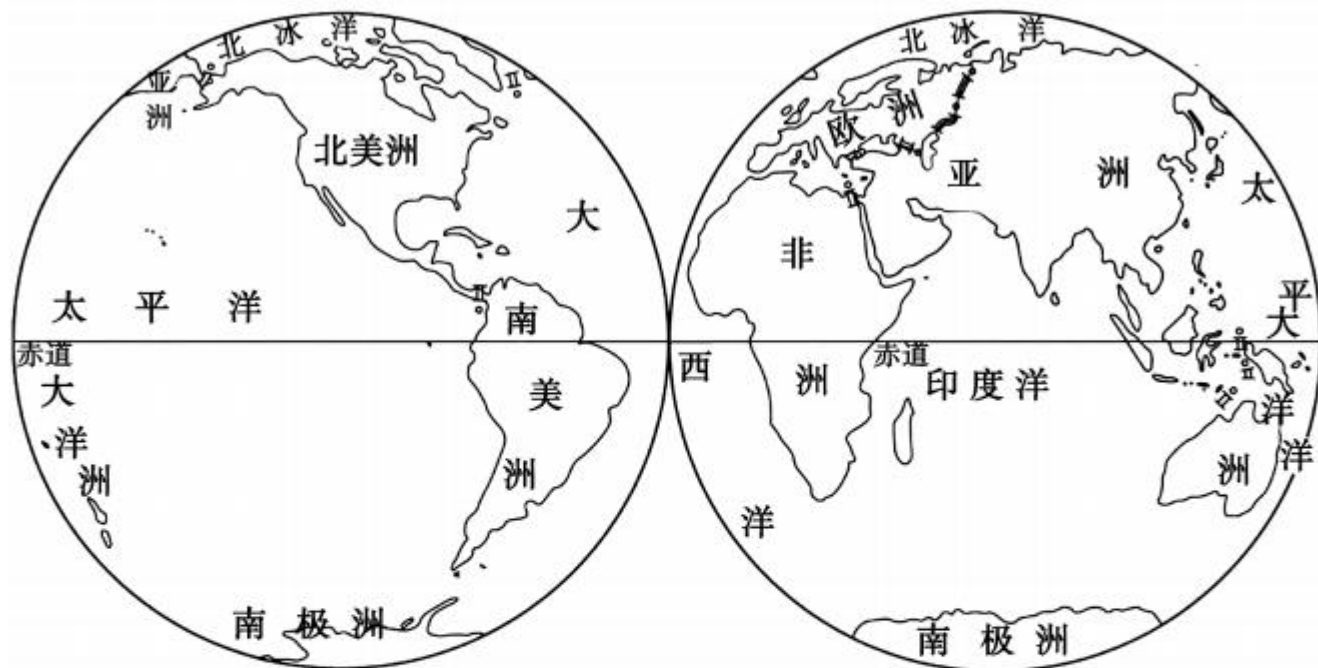
【对应训练】

1. (2016年昆明市)下图有关大洲、大洋的叙述,正确的是 ()



- A. 太平洋位于北美洲东部
- B. 欧洲大部分位于北寒带
- C. 亚非分界为苏伊士运河
- D. 南极洲是面积最大的洲

(2017年甘肃省)读“东西半球图”,完成2~3题。



2. 赤道没有穿过的大洋是 ()
A. 太平洋 B. 大西洋 C. 印度洋 D. 北冰洋
3. 南北回归线同时穿过的大陆是 ()
A. 亚洲 B. 非洲 C. 大洋洲 D. 南美洲

4. (2017年齐齐哈尔市)七大洲中,面积最大的大洲和面积最小的七大洲分别是 ()

A. 亚洲 大洋洲

B. 亚洲 非洲

C. 亚洲 欧洲

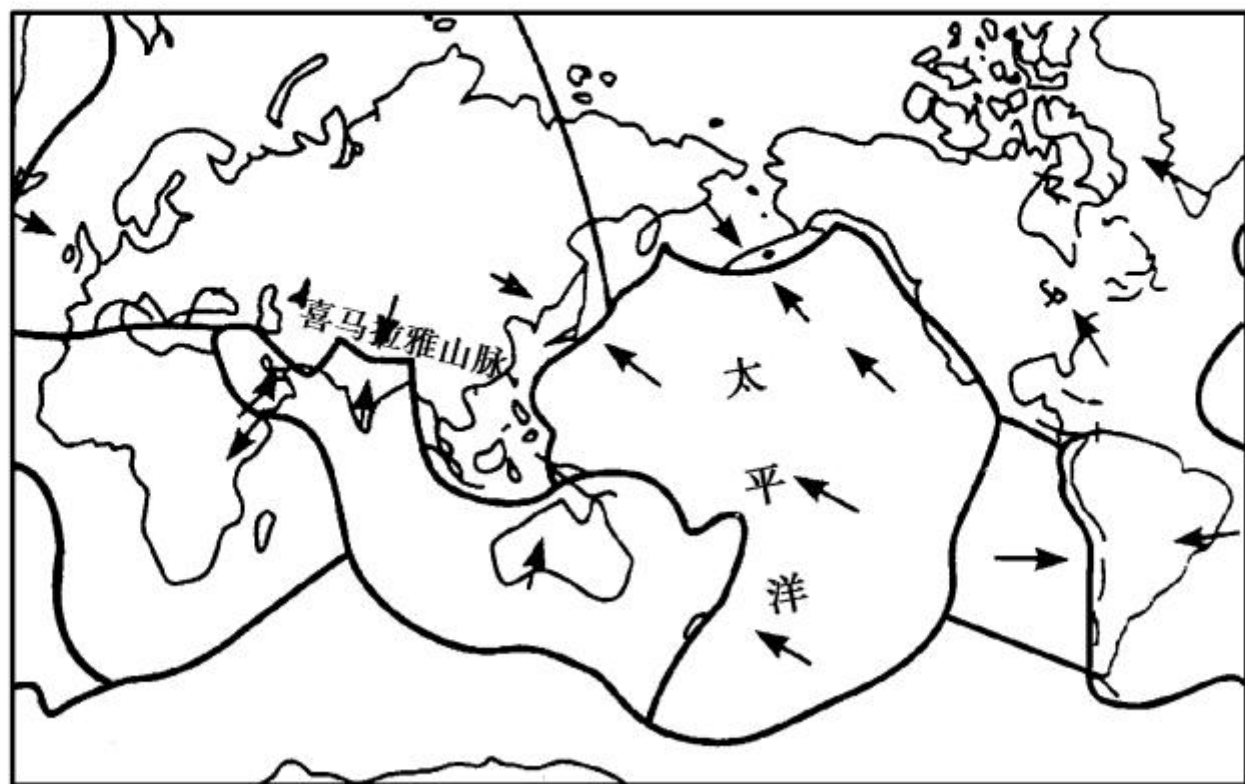
D. 北美洲 南极洲

高频考点 2 海陆的变迁


【考情剖析】此考点主要考查一些地理事物的名称和学说内容,要求能运用所学的基本理论去解释一些自然地理现象。分析海陆变迁的原因、运用板块构造学说解释地震、火山或山脉海洋的形成等地理现象是考试中的热点。题型有选择题、读图题和材料分析题。


【对应训练】

5. (2017年临沂市)结合“板块分布示意图”,判断下列说法错误的是 ()




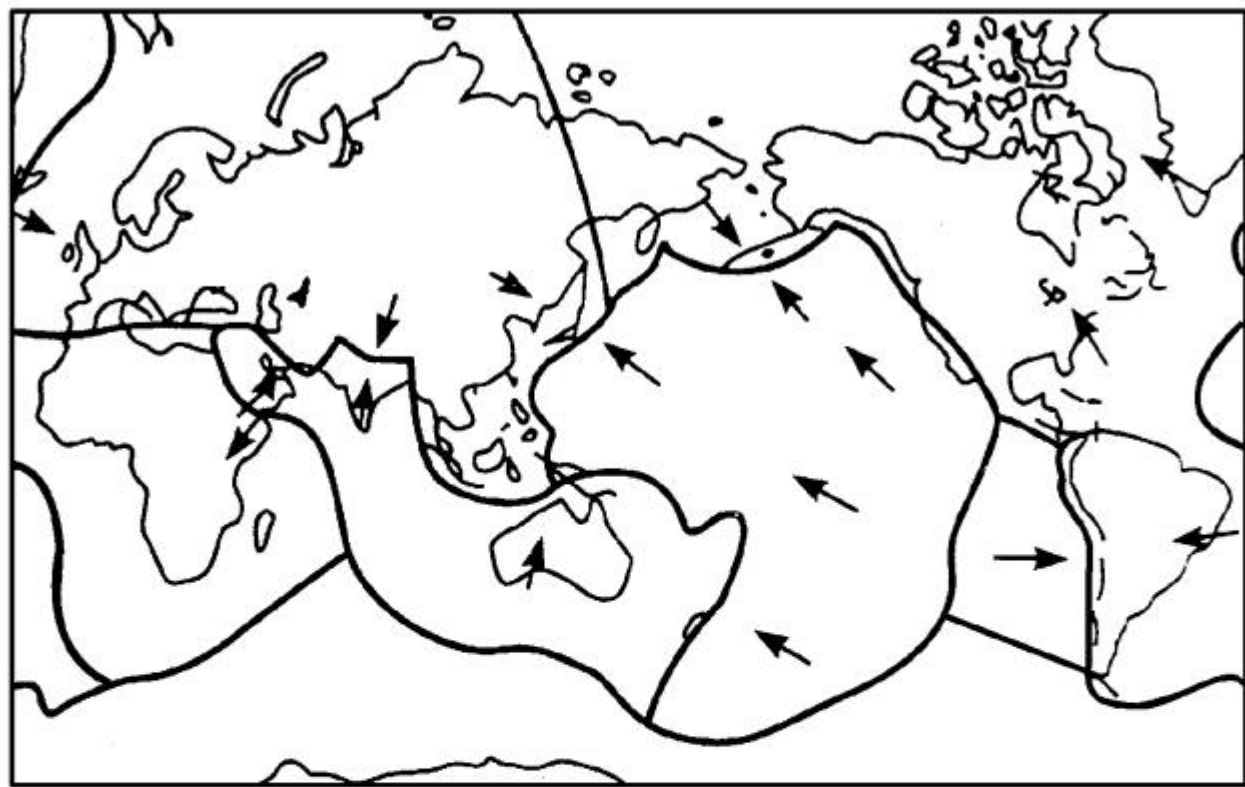
—— 板块边界 ——> 板块运动方向

- 
- A. 环太平洋地带多火山和地震
 - B. 喜马拉雅山脉会不断增高
 - C. 地中海面积会不断增大
 - D. 澳大利亚大陆很少发生地震



6. (2017年德州市)中国地震台网测定:2017年5月25日22时27分在菲律宾北部发生5.0级地震,震源深度60km。关于此次地震说法正确的是()





- A. 地震发生在太平洋板块内部
- B. 地震发生在亚欧板块内部
- C. 地震发生在亚欧板块与印度洋板块交界处
- D. 地震发生在亚欧板块与太平洋板块交界处

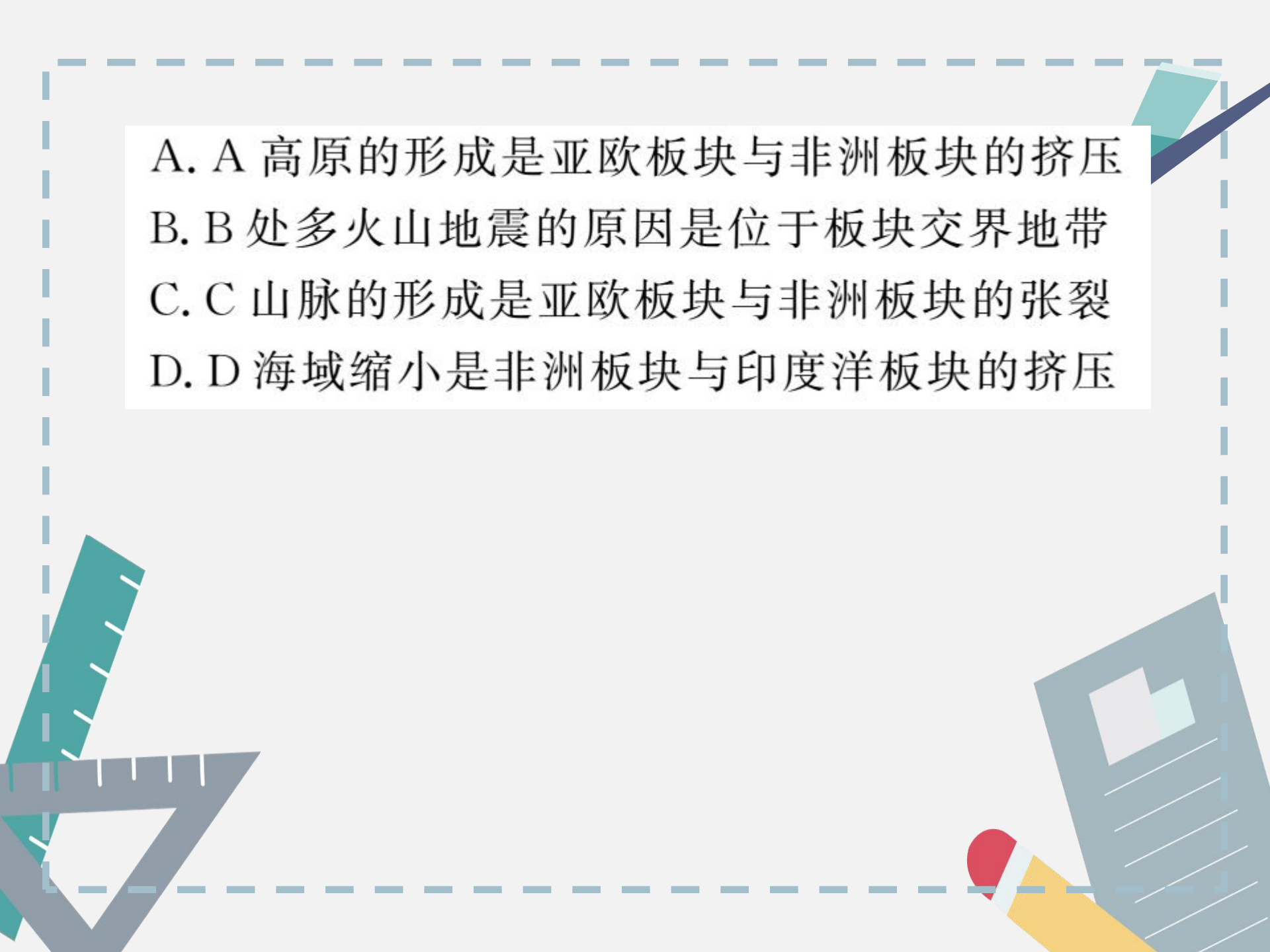
7. (2017年昆明市) 下图关于板块运动, 说法正确的是

()



~ 板块边界

↔ 板块运动方向

- 
- A. A 高原的形成是亚欧板块与非洲板块的挤压
 - B. B 处多火山地震的原因是位于板块交界地带
 - C. C 山脉的形成是亚欧板块与非洲板块的张裂
 - D. D 海域缩小是非洲板块与印度洋板块的挤压