



第四节 自然灾害



知识梳理

一、常见的自然灾害

1. 常见的自然灾害:我国常见的自然灾害有_____灾害、_____灾害等。
2. 气象灾害:主要有_____、干旱、_____、寒潮等。
3. 地质灾害:主要有_____、滑坡、_____等。_____发生地质灾害的频率较高。

二、我国自然灾害频发

4. 我国地域辽阔,自然环境复杂多样,自然灾害种类_____、分布_____。

三、防灾减灾

5. 我国在多个方面一直重视_____工作,并取得了很大的成就。



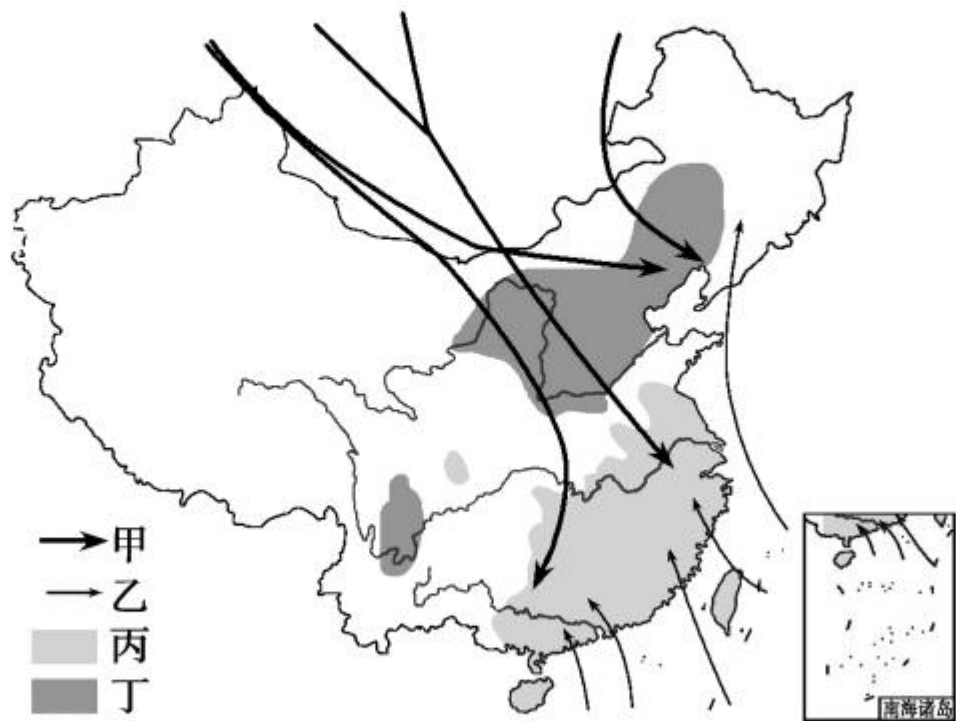
基础方阵

知识点 1 常见的自然灾害

1. (绥化市中考)下列选项中,属于气象灾害的是 ()
A. 地震 B. 滑坡 C. 泥石流 D. 台风
2. 我国是一个气象灾害严重的国家,对我国农业生产影响最大、最常见且分布最广的一种气象灾害是 ()
A. 洪涝 B. 干旱 C. 梅雨 D. 台风
3. (赤峰市中考)有关我国自然灾害的说法正确的是 ()
A. 洪涝灾害主要分布在北方地区
B. 干旱灾害主要分布在西北地区
C. 西南地区处于太平洋板块和亚欧板块交界,多发地震
D. 台风、洪水灾害会引发滑坡和泥石流等地质灾害

知识点 2 我国自然灾害频发

4. 王林同学绘制了中国主要气象灾害分布图,图中甲、乙、丙、丁四图例代表的气象灾害,排列正确的一组是 ()



A. 寒潮、洪涝、干旱、台风
C. 寒潮、台风、洪涝、干旱

B. 台风、干旱、洪涝、寒潮
D. 干旱、寒潮、台风、洪涝



5. 我国旱涝灾害多的主要原因是



()

A. 每年冬季风强弱不同

B. 降水季节分配不均,年降水量变化大

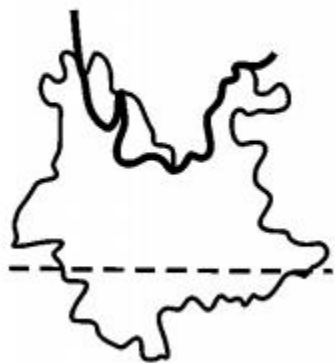
C. 我国地形复杂多样

D. 北方冷空气势力大





6. 下列省级行政区域中,易受台风影响的是 ()



A



B



C



D



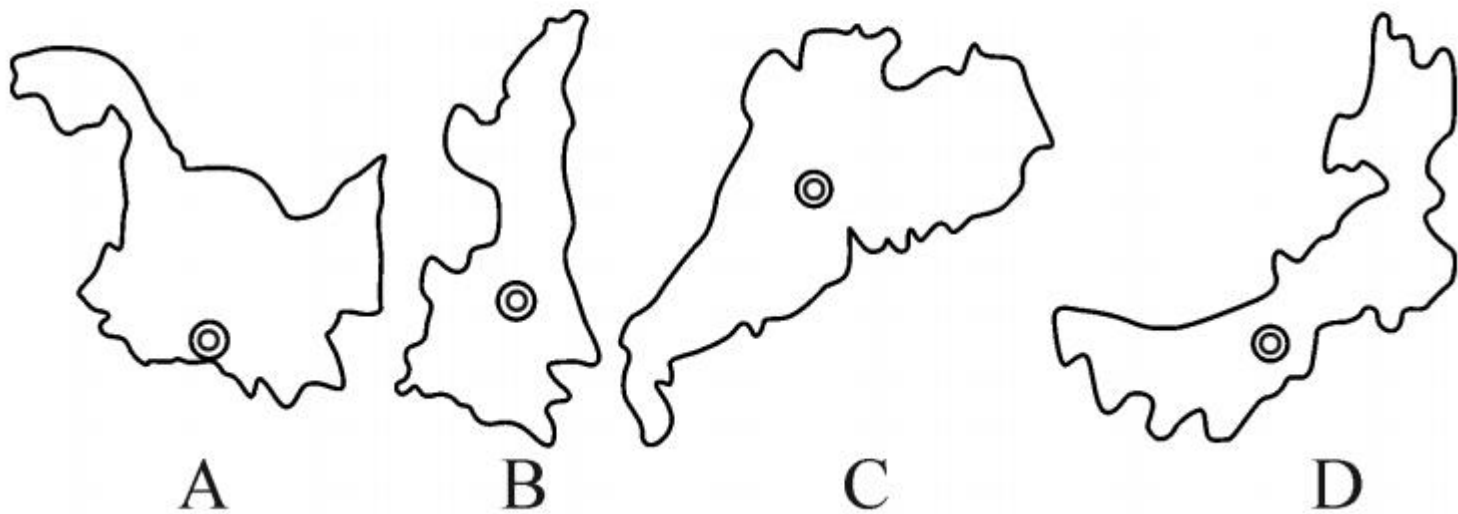
知识点 3 防灾减灾

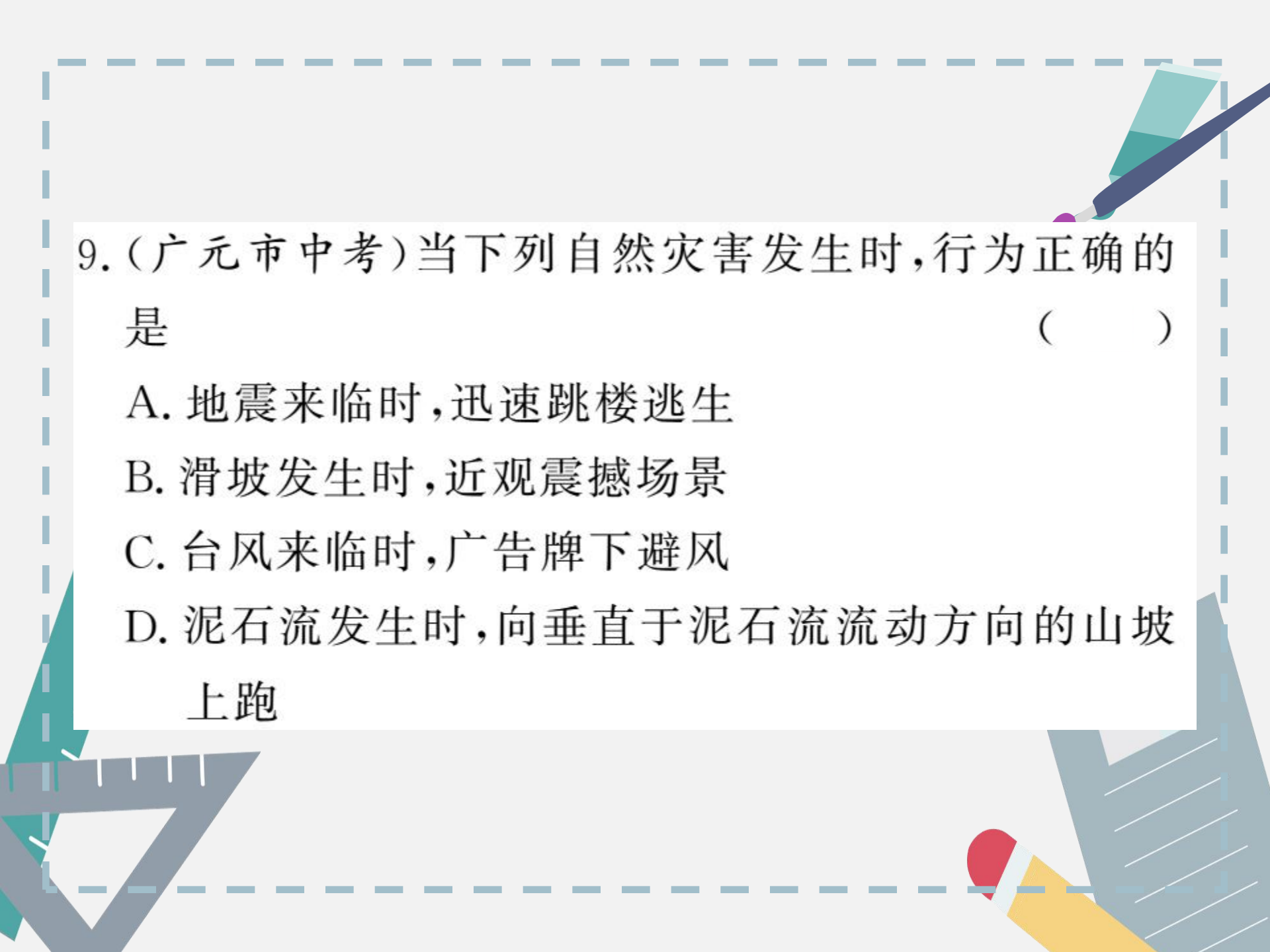
7. 下列有关我国防灾减灾工作的说法,不正确的是

()

- A. 运用遥感卫星等技术,已能够比较精确地预报台风、寒潮等灾害
- B. 修建了大量的防灾工程
- C. 建设了一大批救灾物资储备中心
- D. 当自然灾害发生时,不能及时调动救灾人员

8. 下列省级行政区域中,特别需要修建防护林抵御风沙灾害的是 ()





9. (广元市中考) 当下列自然灾害发生时, 行为正确的是 ()

A. 地震来临时, 迅速跳楼逃生

B. 滑坡发生时, 近观震撼场景

C. 台风来临时, 广告牌下避风

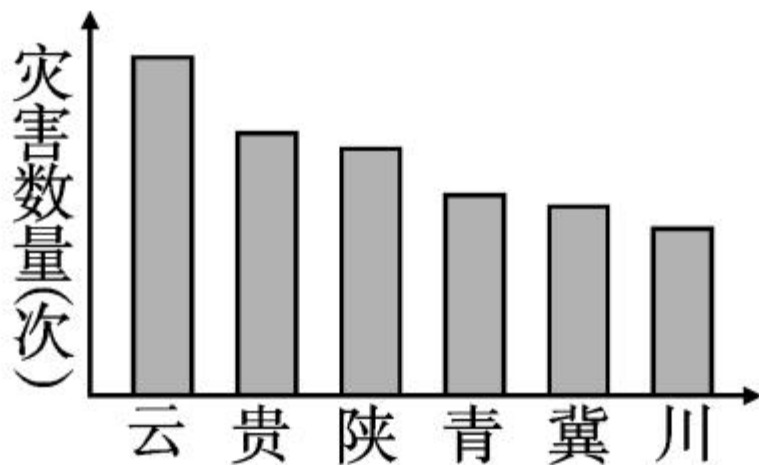
D. 泥石流发生时, 向垂直于泥石流流动方向的山坡上跑


B



整合阅兵

(呼和浩特市中考)下图示意某年我国发生某种自然灾害次数最多的6个省级行政区,读图回答10—11题。

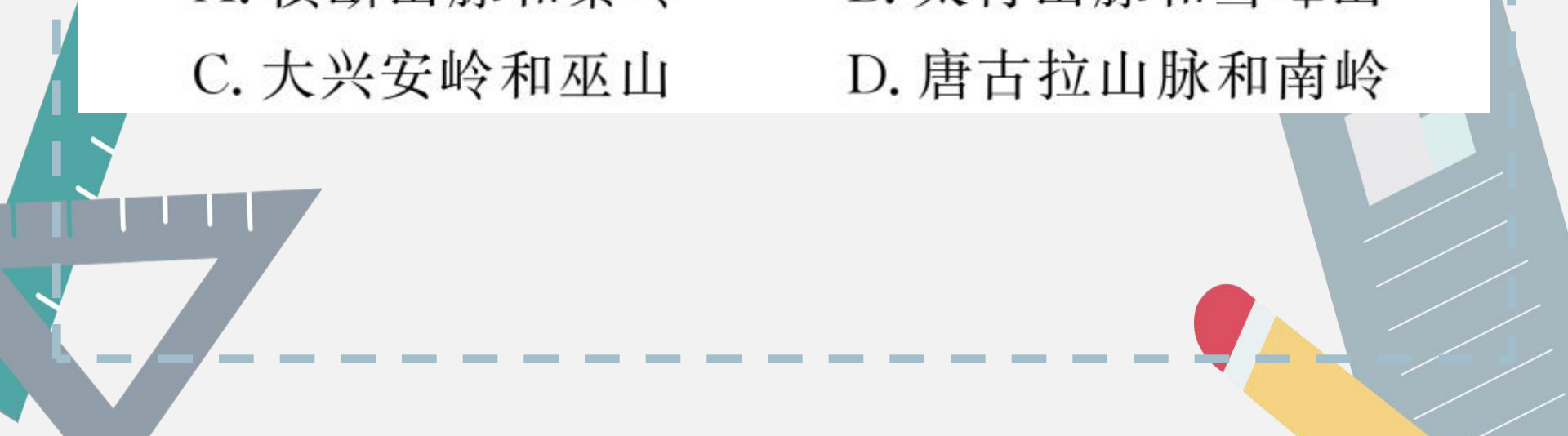




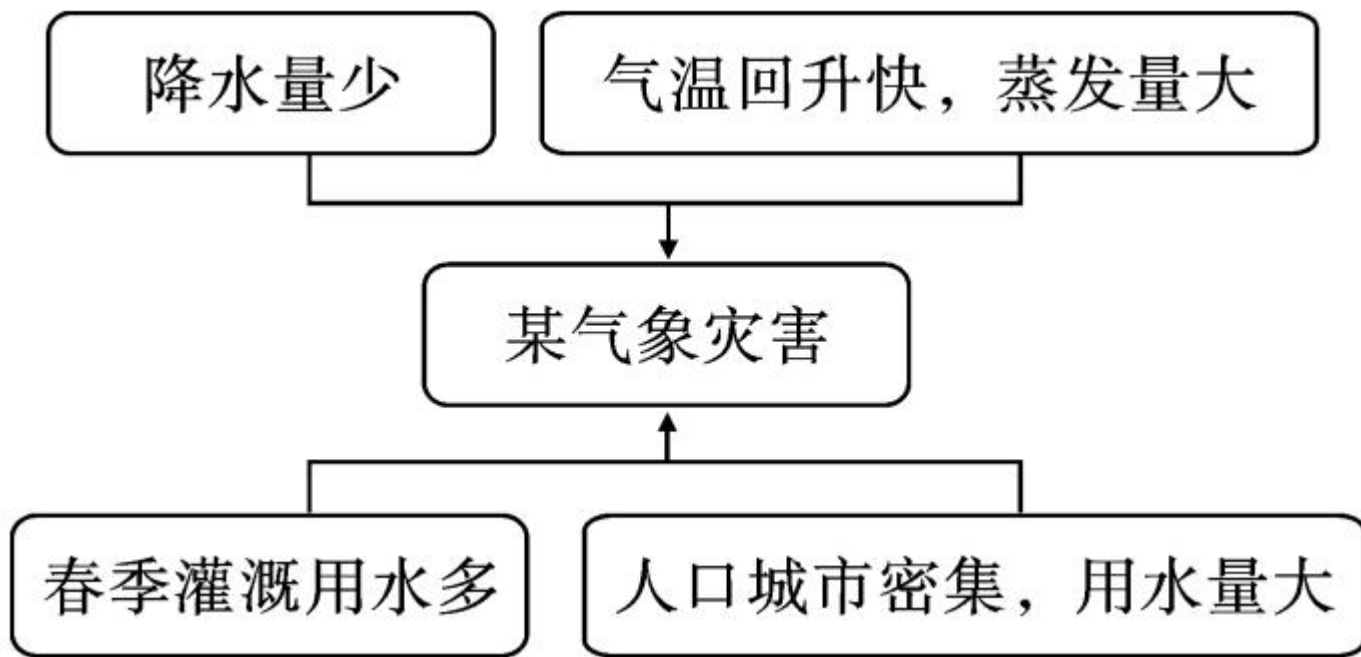
10. 据图判断该自然灾害最有可能是 ()

- A. 台风 B. 泥石流 C. 洪涝 D. 雪灾

11. 图中各省区发生该自然灾害次数最多的山地可能是 ()

- A. 横断山脉和秦岭 B. 太行山脉和雪峰山
C. 大兴安岭和巫山 D. 唐古拉山脉和南岭
- 

读“我国某地区气象灾害成因示意图”，完成 12—13 题。



12. 图中所示的某气象灾害是 ()

A. 寒潮 B. 沙尘暴 C. 春旱 D. 洪涝

13. 该气象灾害最易发生的地区是 ()

A. 四川盆地 B. 东北平原

C. 长江三角洲 D. 华北平原

14. (天水市中考)2019年5月初,我国西北地区和北方地区不同程度地受到了沙尘暴的影响。下列关于沙尘暴产生原因的说法,错误的是 ()

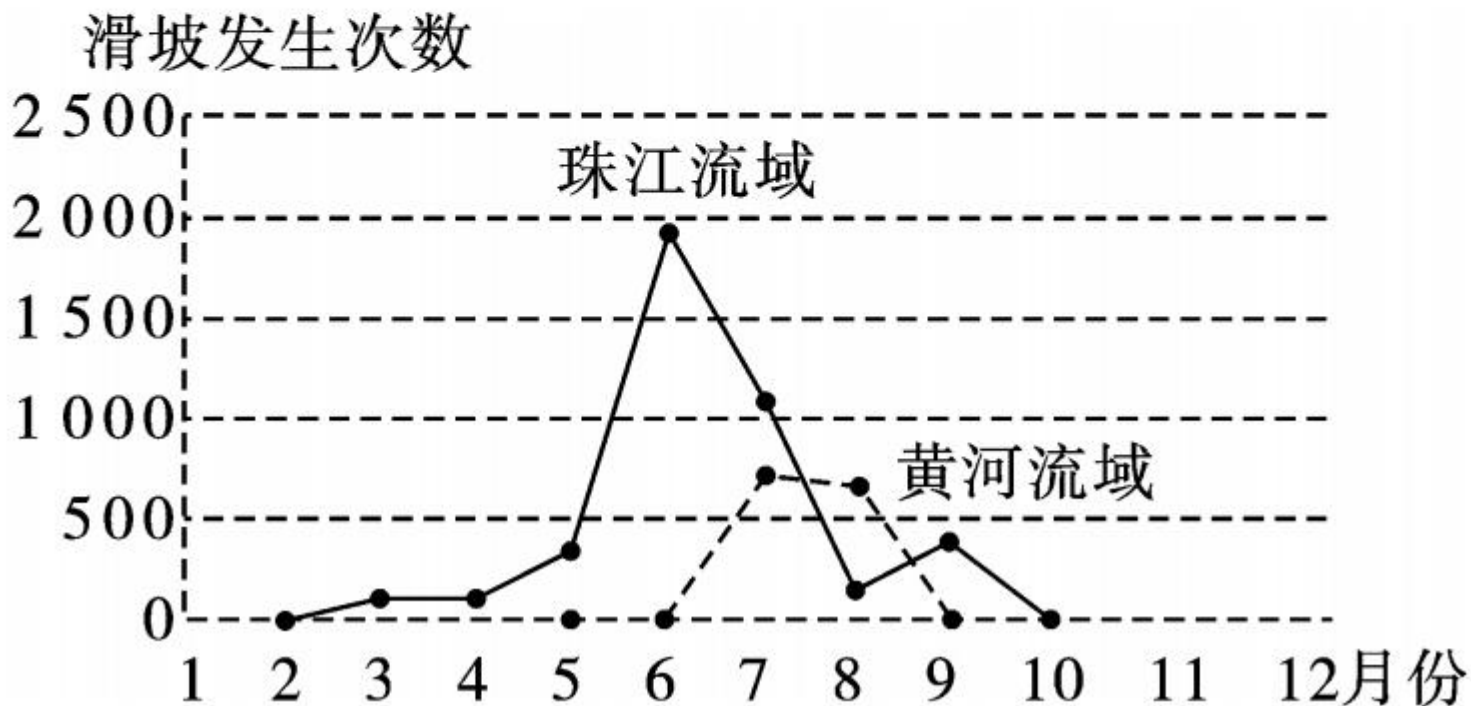
A. 空气湿度大 B. 植被稀少

C. 沙质土壤较多 D. 大风天气频繁



开放探究

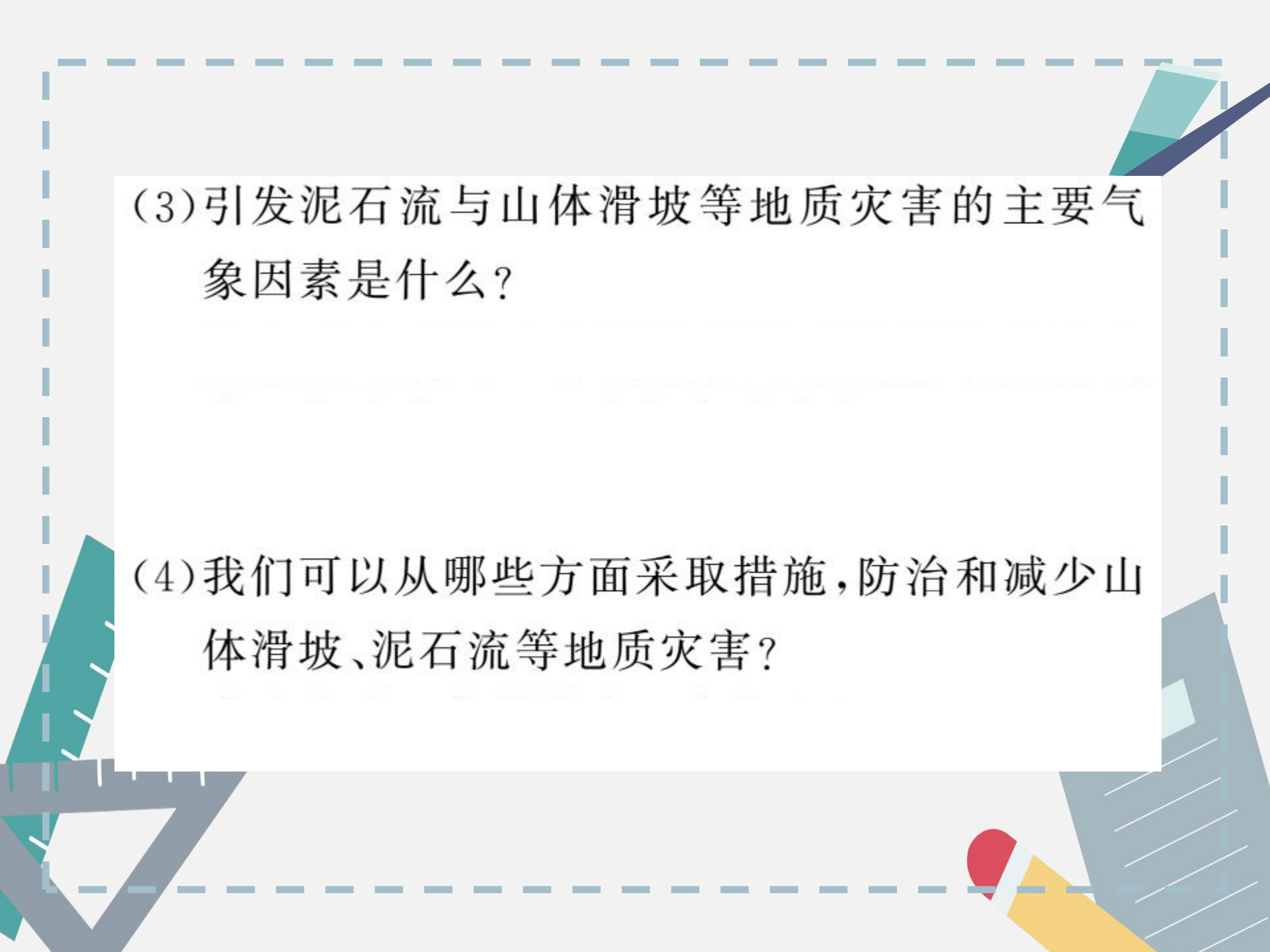
15. 下图为“我国珠江流域和黄河流域在 1—12 月发生山体滑坡灾害的次数统计图”，读图回答问题。





(1) 两地滑坡发生次数的最大值分别出现在几月？

(2) 请推测一下，长江流域滑坡发生次数的最大值会出现在几月？



(3) 引发泥石流与山体滑坡等地质灾害的主要气象因素是什么？

(4) 我们可以从哪些方面采取措施，防治和减少山体滑坡、泥石流等地质灾害？







