

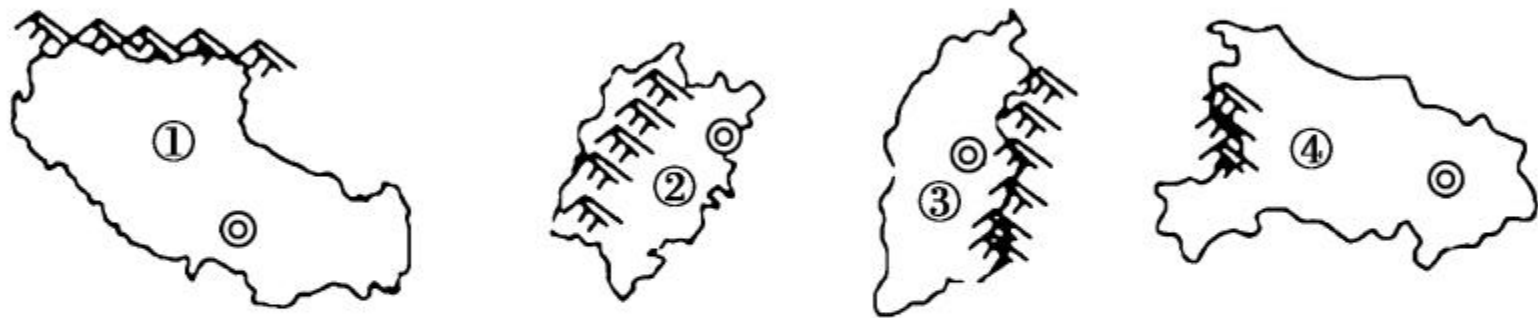


第二章

章末过关自测

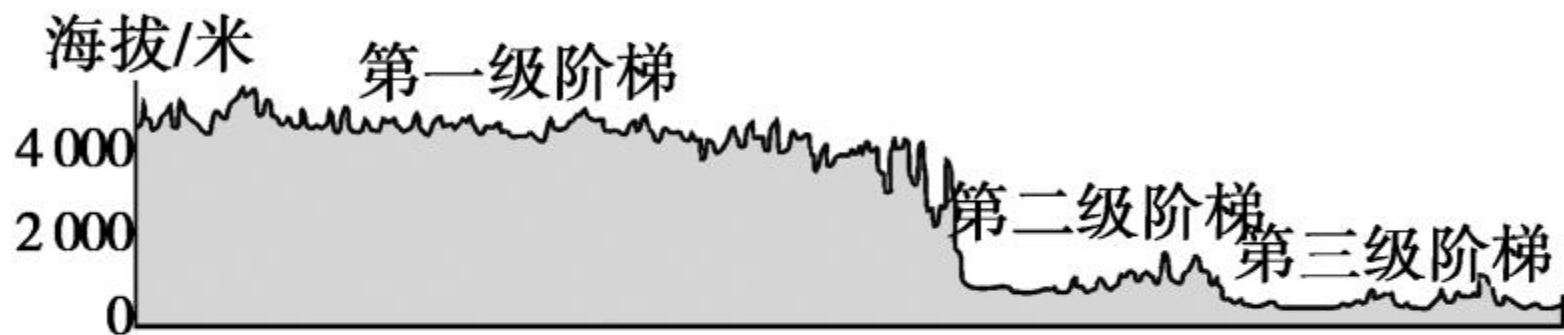
一、单项选择题(每题 2 分,共 30 分)

1. (德州市中考)读省级行政区轮廓简图及相关山脉图,以下叙述错误的是 ()



- A. ①山脉北侧是我国面积最大的盆地
- B. ②山脉是江西省与福建省的分界线
- C. ③山脉属于我国半干旱区与半湿润区的分界线
- D. ④山脉属于我国地势第二、三级阶梯的分界线

(凉山州中考)读下面“我国沿北纬 30° 纬线的地形剖面示意图”,回答 2—3 题。



2. 从图示可以看出我国地势总特征是 ()
- A. 西高东低, 呈阶梯状分布
 - B. 东高西低, 呈阶梯状分布
 - C. 北高南低, 呈阶梯状分布
 - D. 南高北低, 呈阶梯状分布

3. 我国地势第二级阶梯上的主要地形是 ()

A. 山地和高原

B. 盆地和高原

C. 平原和丘陵

D. 平原和盆地

4. 读图, 下列判断正确的是 ()



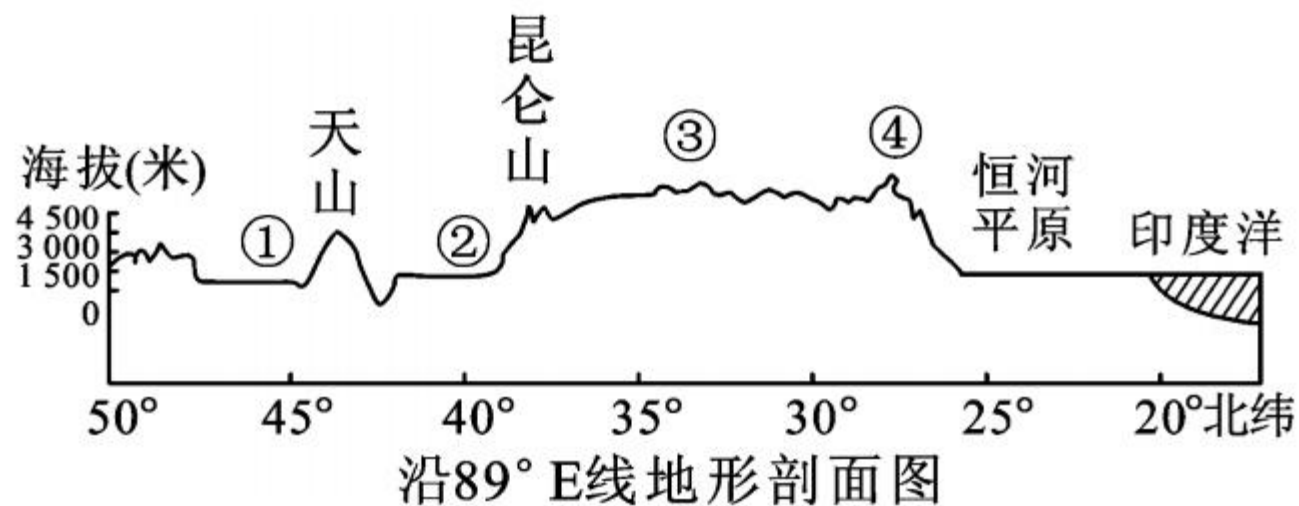
A. ①是内蒙古高原

B. ②山脉是雪峰山

C. ③是云贵高原

D. ④山脉是南岭

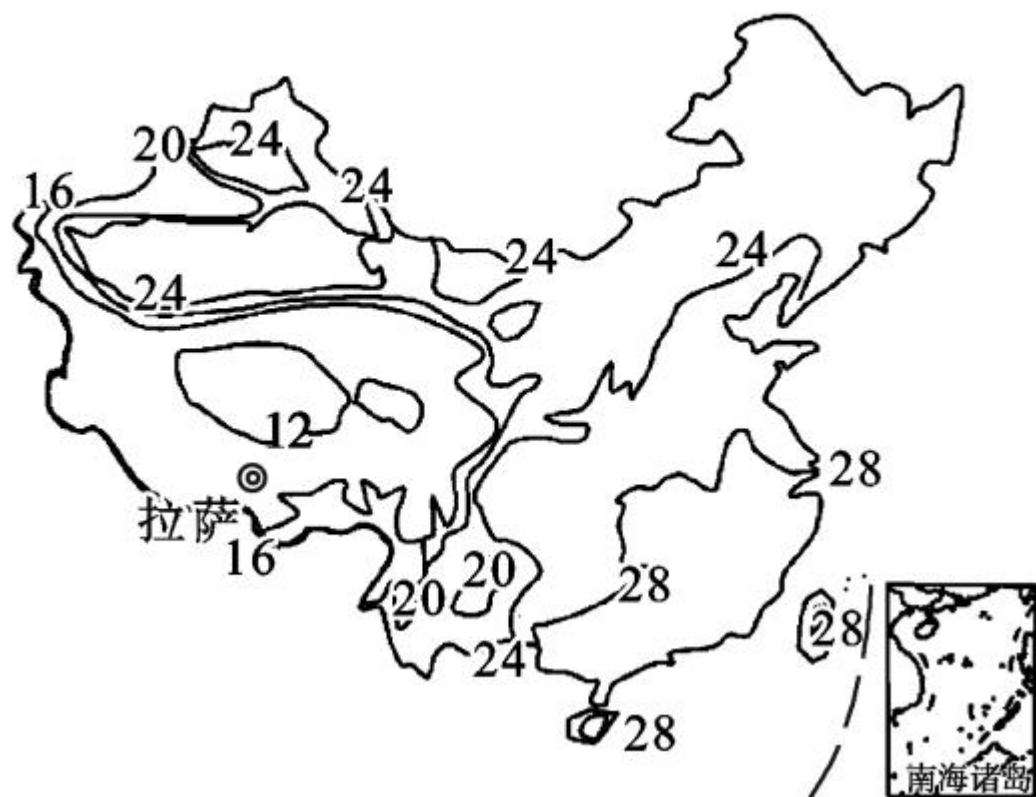
5. 下图序号所代表的地理事物名称,正确的是()



①准噶尔盆地 ②塔里木盆地 ③青藏高原
④唐古拉山脉

A. ①②③ B. ①②④ C. ①③④ D. ②③④

读“我国7月等温线分布图”，完成6—7题。

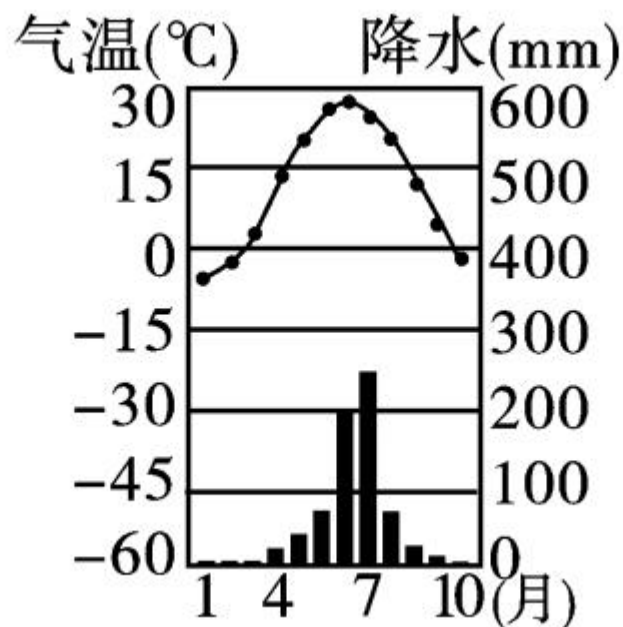


6. 我国夏季气温分布的主要特点是 ()
- A. 南北气温都较高 B. 南北气温差异大
- C. 气温最低区域在北方 D. 东高西低, 气温差异大

7. 据图可知,拉萨的气温在 ()

- A. $24-28^{\circ}\text{C}$ 之间 B. $16-24^{\circ}\text{C}$ 之间
C. $12-16^{\circ}\text{C}$ 之间 D. 8°C 以下

(石家庄市中考)下图示意我国某地多年平均各月气温和降水量情况,据此图,完成8-10题。



8. 该地气候特征是 ()

- A. 全年气温很高,分为雨旱两季
- B. 冬季温和,夏季高温,分雨旱两季
- C. 冬季寒冷干燥,夏季炎热多雨
- D. 冬季温和少雨,夏季炎热干燥

9. 该地可能是 ()

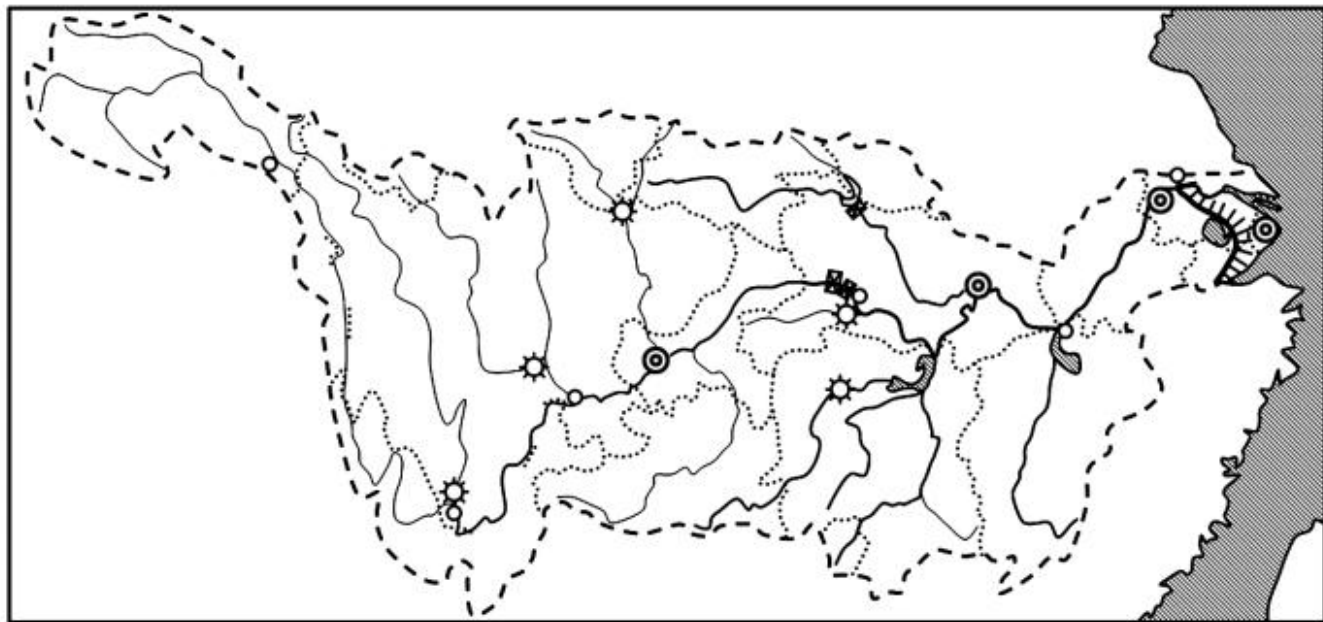
- A. 北京
- B. 上海
- C. 香港
- D. 重庆

10. 该种气候易产生的气象灾害有 ()

- A. 春旱
- B. 夏旱
- C. 秋旱
- D. 冬旱

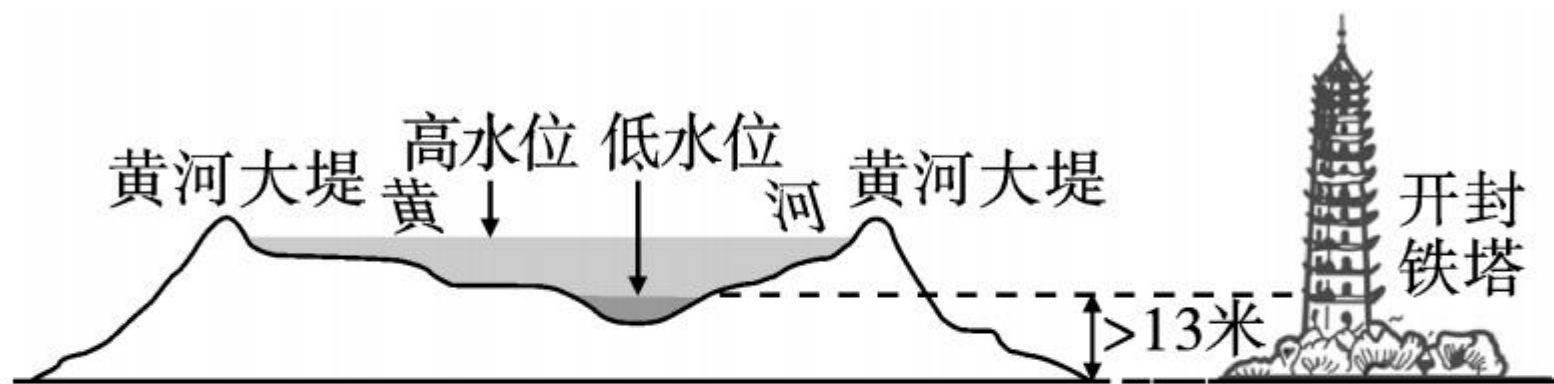
11. (昆明市中考)读图,有关长江的说法正确的是

()



- A. 源于昆仑山脉,注入黄海
- B. 三峡水电站位于宜宾以西
- C. 有“黄金水道”之称
- D. 最长的支流是嘉陵江

12. (广安市中考) 据“地上河示意图”分析, 下列叙述错误的是 ()



- A. 图示“地上河”出现在该河流下游河段
- B. 该河中游流经地区, 土质疏松, 植被稀少, 水土流失严重
- C. 该河流最终注入东海
- D. 该河是世界上含沙量最大的河流



13. (南充市中考)2016年10月,纪念人民治理黄河70年座谈会在北京召开。根治黄河,开展水土保持工作的重点在 ()

A. 上游的青藏高原

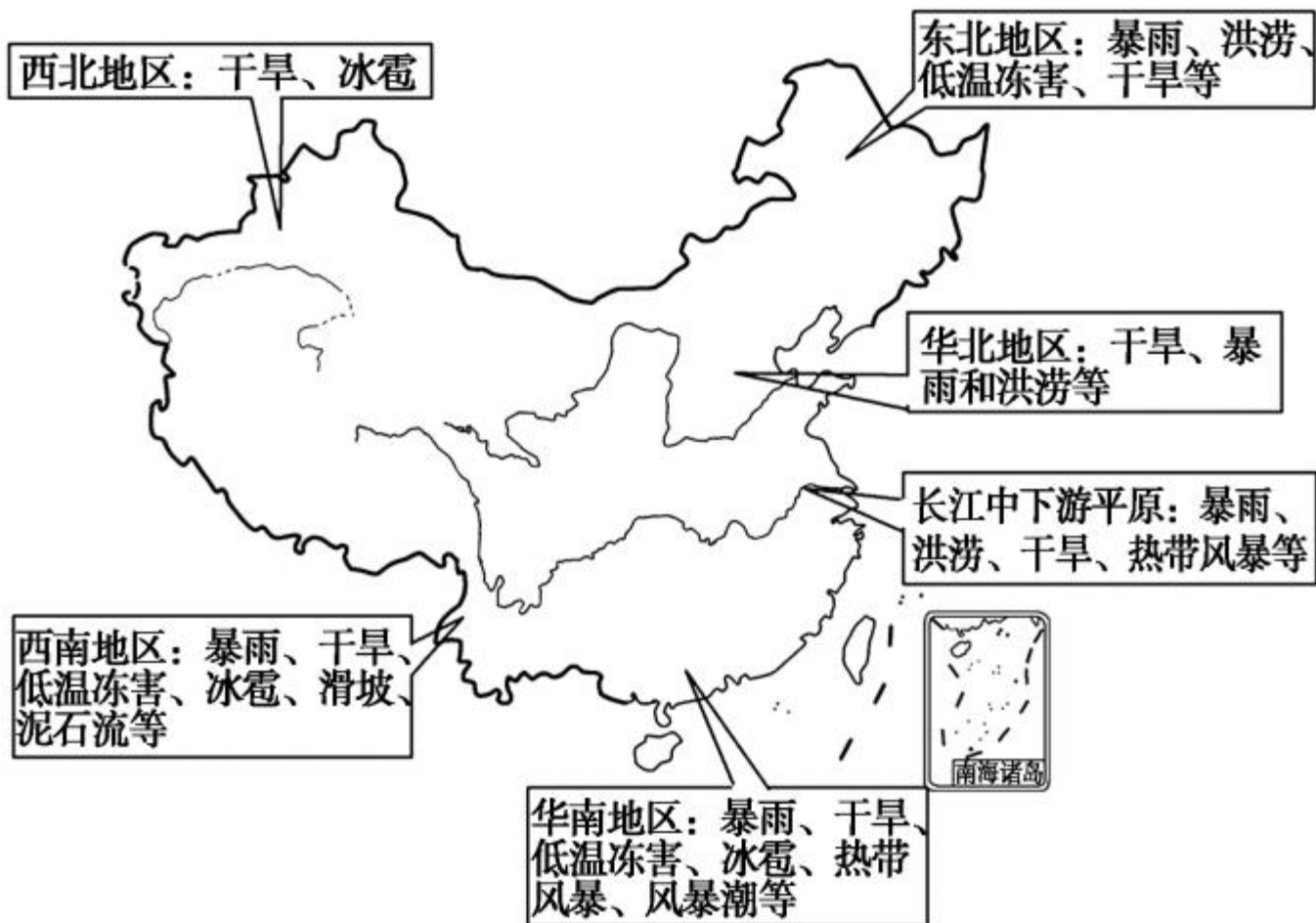
B. 中游的黄土高原

C. 下游的华北平原

D. 河口的三角洲地带



(苏州市中考)读“我国自然灾害空间分布图”，回答 14—15 题。



14. 读图可知,我国自然灾害 ()

①分布广 ②频繁发生 ③集中在夏秋季 ④种类多

A. ①②

B. ①④

C. ②③

D. ②④

15. 自然灾害与频发地区对应正确的是 ()

A. 干旱、洪涝—华北地区

B. 滑坡、泥石流—东北地区

C. 海啸、冰雹—西南地区

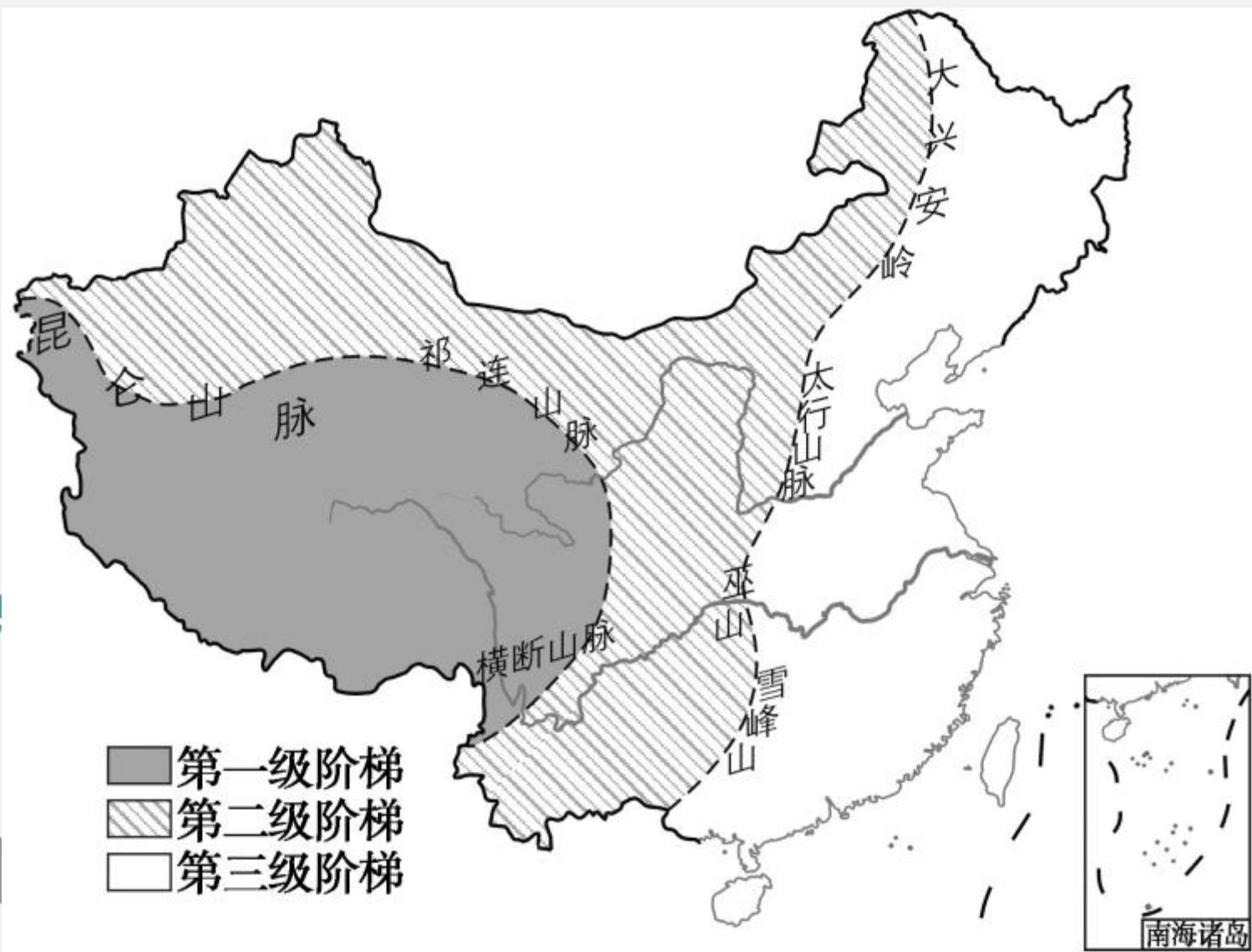
D. 台风、泥石流—西北地区



二、综合题(共 20 分)

16. 我国山脉纵横交织构成了大地的骨架,山脉与山脉之间镶嵌着高原、盆地和平原,共同构成祖国的大好河山。读图,完成下列问题。(10 分)






(1)根据图中信息,在下表中填写地形区名称。(4分)



| 山脉 | 西侧 | 东侧 |
|------|-------|-------|
| 大兴安岭 | _____ | _____ |
| 巫山 | _____ | _____ |

(2)第一级阶梯内是被称为“世界屋脊”的_____,因_____,气温低,冰川广布,雪山皑皑。我国许多大江大河如:_____ (填河流名称)等均发源于此,该区域也被称为“中华水塔”。(3分)

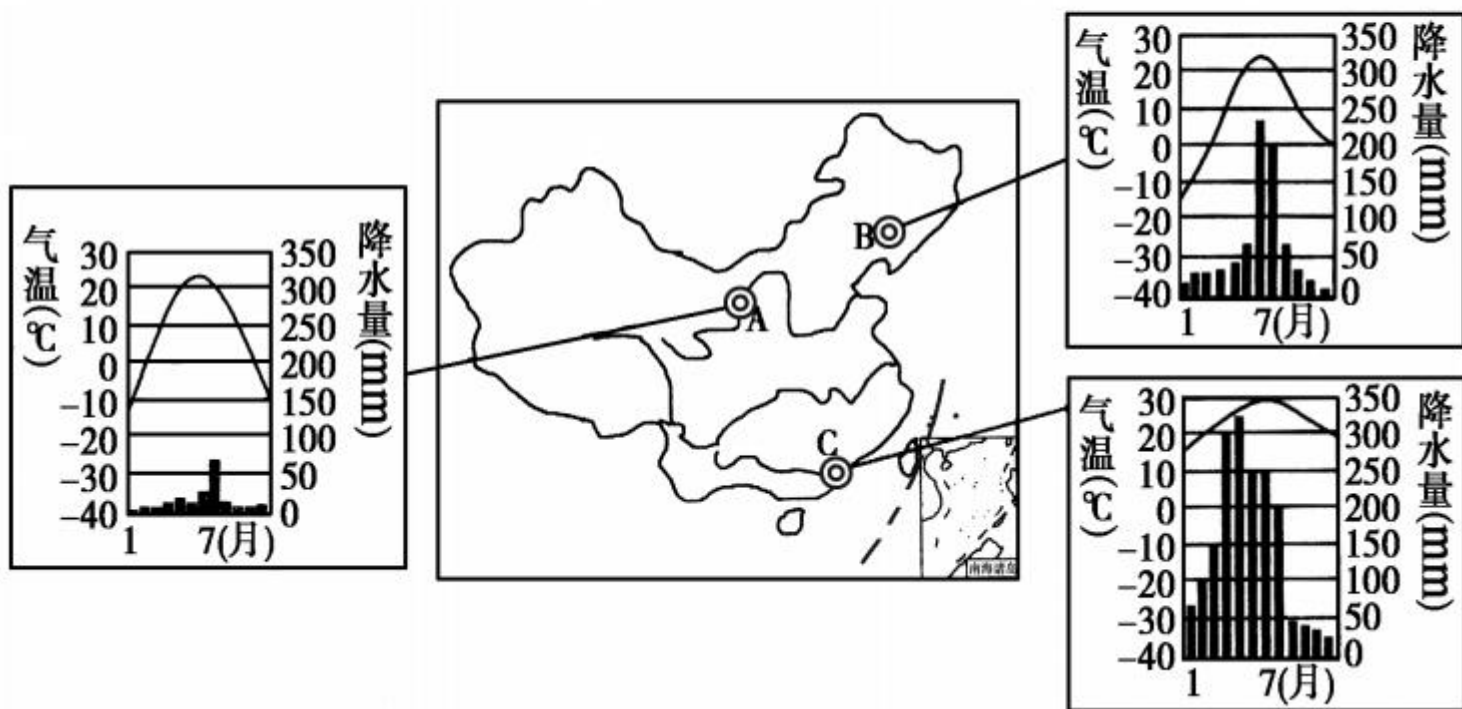


(3) 第二级阶梯内既有我国最大的盆地 _____
_____, 也有世界上黄土分布最广的高原 _____
_____。(2分)

(4) 首都北京位于 _____ (填地形区)。(1分)



17. 根据我国部分省级行政中心城市的位置及其气候资料,回答下列问题。(10分)



(1)图中三个省级行政中心城市中,A是_____市,B是_____市,C是_____市。(3分)

(2)在我国干湿区中,A市处于_____区,C市地处_____区;在我国温度带中,B市地处_____带。(3分)

(3)以上三个城市的降水状况,反映出我国各地区年降水量差异很大,总体分布规律是_____。(2分)

(4)从气候条件考虑,A、B、C三市所在地区中,最适宜种植水稻的是_____ (填代号)所在地区,理由是_____。(2分)

