



第二课时 地势西高东低,呈阶梯状分布





知识梳理


地势西高东低,呈阶梯状分布

1. 我国地势特点: _____、呈 _____ 状分布。
2. 我国地势三级阶梯概况
 - (1) 第一级阶梯为 _____ 高原,平均海拔在 _____ 米以上。
 - (2) 第二级阶梯海拔多在 _____ 米,以 _____、盆地为主。
 - (3) 第三级阶梯海拔多在 _____ 米以下,以平原、_____ 为主。
3. 我国地势三级阶梯的分界线:第一、二级阶梯分界线是 _____ 山脉、祁连山脉和 _____ 山脉,第二、三级阶梯的分界线是大兴安岭、_____ 山脉、巫山、_____ 山。



4. 我国地势特点的优势

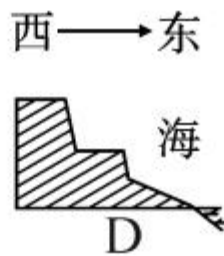
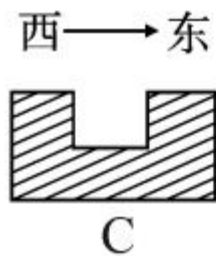
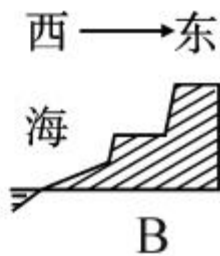
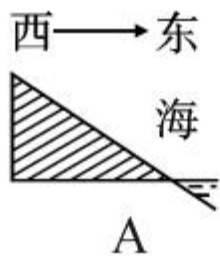
- (1) 便于海上湿润气流深入内陆, 形成 _____, 有利于 _____。
- (2) 顺着地势, 我国众多大河滚滚 _____, 便利 _____。
- (3) 河流从高一级阶梯流入低一级阶梯时, 落差 _____, 水能资源极为 _____。




A 基础方阵

知识点 地势西高东低,呈阶梯状分布

1. (湘西州中考)下列图中,最符合我国地势特征的是 ()






2. (宜昌市中考)我国地势第二、三级阶梯的分界线是 ()

- A. 昆仑山—祁连山—横断山
- B. 大兴安岭—太行山—巫山—雪峰山
- C. 长白山—武夷山
- D. 大兴安岭—阴山—贺兰山—祁连山

3. 我国地势第二级阶梯上的主要地形类型是 ()

- A. 平原和盆地
 - B. 高原和盆地
 - C. 高原和山地
 - D. 平原和丘陵
- 

4. 读“我国沿 32°N 地形剖面图”，图中甲和乙分别代表的地形区是 ()

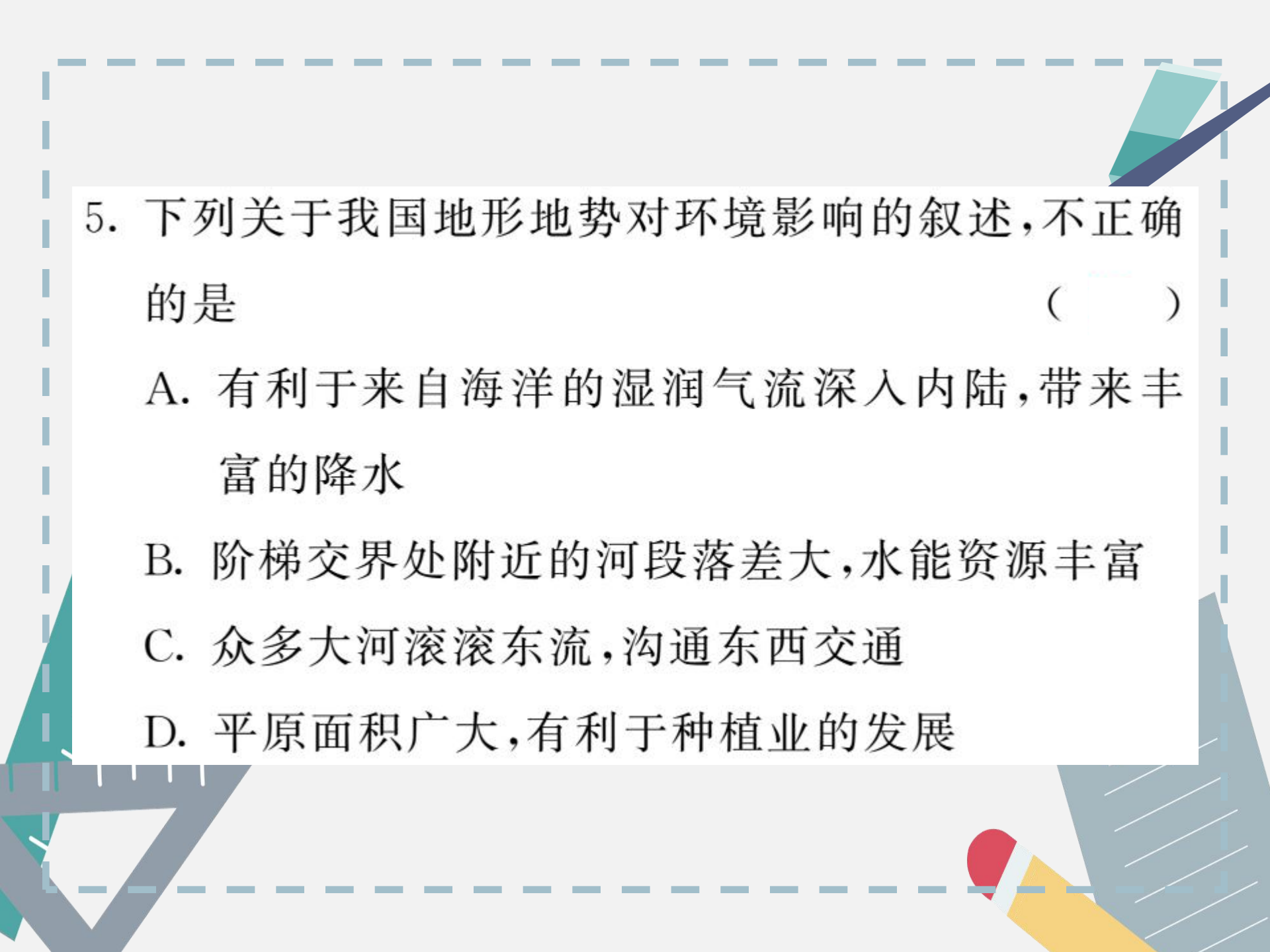


A. 黄土高原、华北平原

B. 四川盆地、长江中下游平原

C. 四川盆地、华北平原

D. 云贵高原、东南丘陵



5. 下列关于我国地形地势对环境影响的叙述,不正确的是 ()

A. 有利于来自海洋的湿润气流深入内陆,带来丰富的降水

B. 阶梯交界处附近的河段落差大,水能资源丰富

C. 众多大河滚滚东流,沟通东西交通

D. 平原面积广大,有利于种植业的发展

6. (龙东地区中考)我国水电站主要分布在 ()

A. 沿海地区

B. 阶梯分界线附近

C. 板块交界处

D. 高原内部

7. 下列山脉不是我国地势阶梯分界线的是 ()



A




B



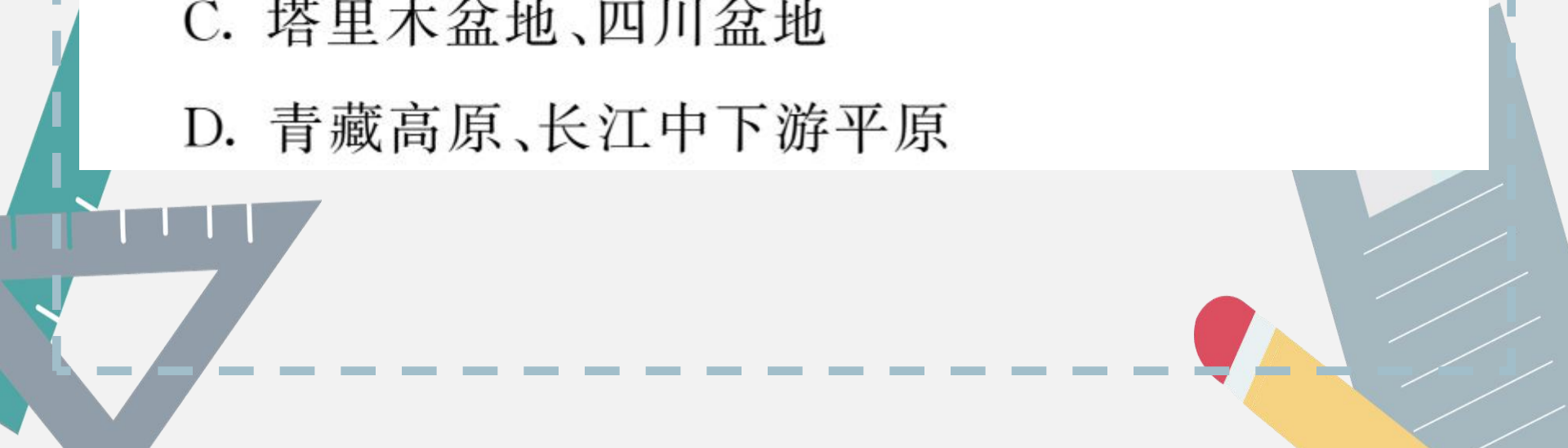
C



D



8. 下列地形区中,分别位于我国第一级阶梯和第三级阶梯上的是 ()

- A. 云贵高原、华北平原
 - B. 准噶尔盆地、黄土高原
 - C. 塔里木盆地、四川盆地
 - D. 青藏高原、长江中下游平原
- 



9. 既是我国地势阶梯分界线, 又是东北—西南走向, 且西部是高原、东部是平原的一组山脉是 ()

- A. 昆仑山脉、祁连山脉 B. 巫山、雪峰山
C. 长白山脉、武夷山脉 D. 大兴安岭、太行山脉



B



整

合

阅兵

10. 下图所示的省区中,位于我国第三级阶梯的是

()



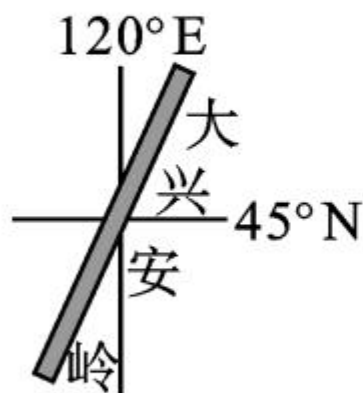
A. ①②

B. ②③

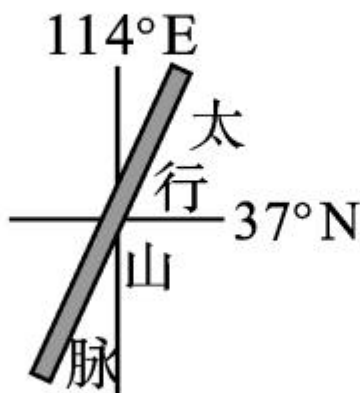
C. ③④

D. ①③

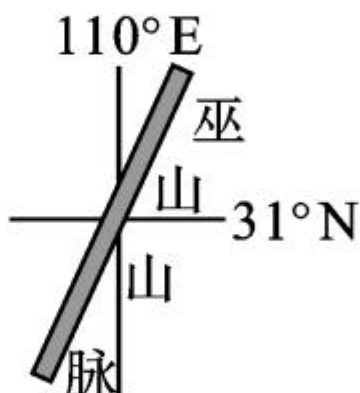
11. 下列山脉既是我国省区分界线, 又是地势三级阶梯分界线的是 ()



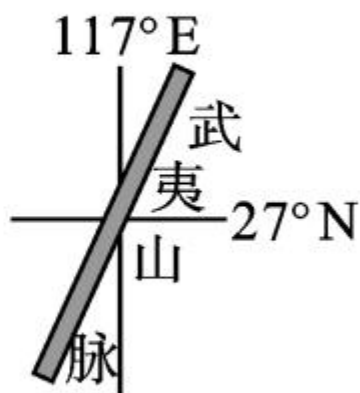
①



②



③



④

A. ①②

B. ②③

C. ③④

D. ①④



开放探究

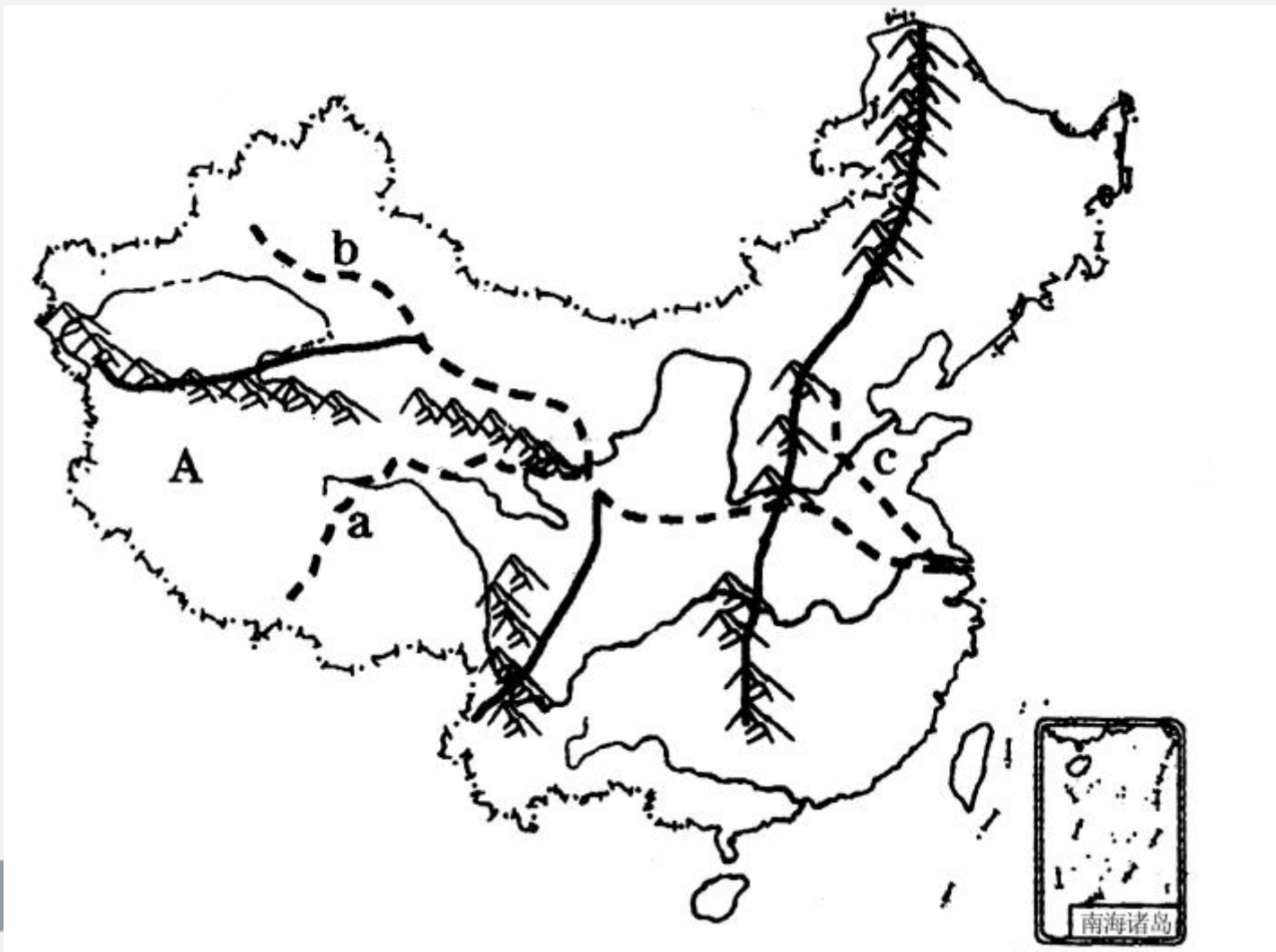
12. 阅读材料,完成下列各题。

材料一 近年来,由于我国的经济发展和人民生活水平的提高,自驾车旅游悄然兴起,东起上海崇明岛、西连西藏友谊桥的 318 国道则备受“驴友”的青睐。318 国道绵延 5 476 千米,跨越了我国的三级阶梯,驾车旅游沿途可饱览祖国壮丽的河山,因而这条路被誉为西藏连接上海的“友谊路”、中国地理的景观大道。



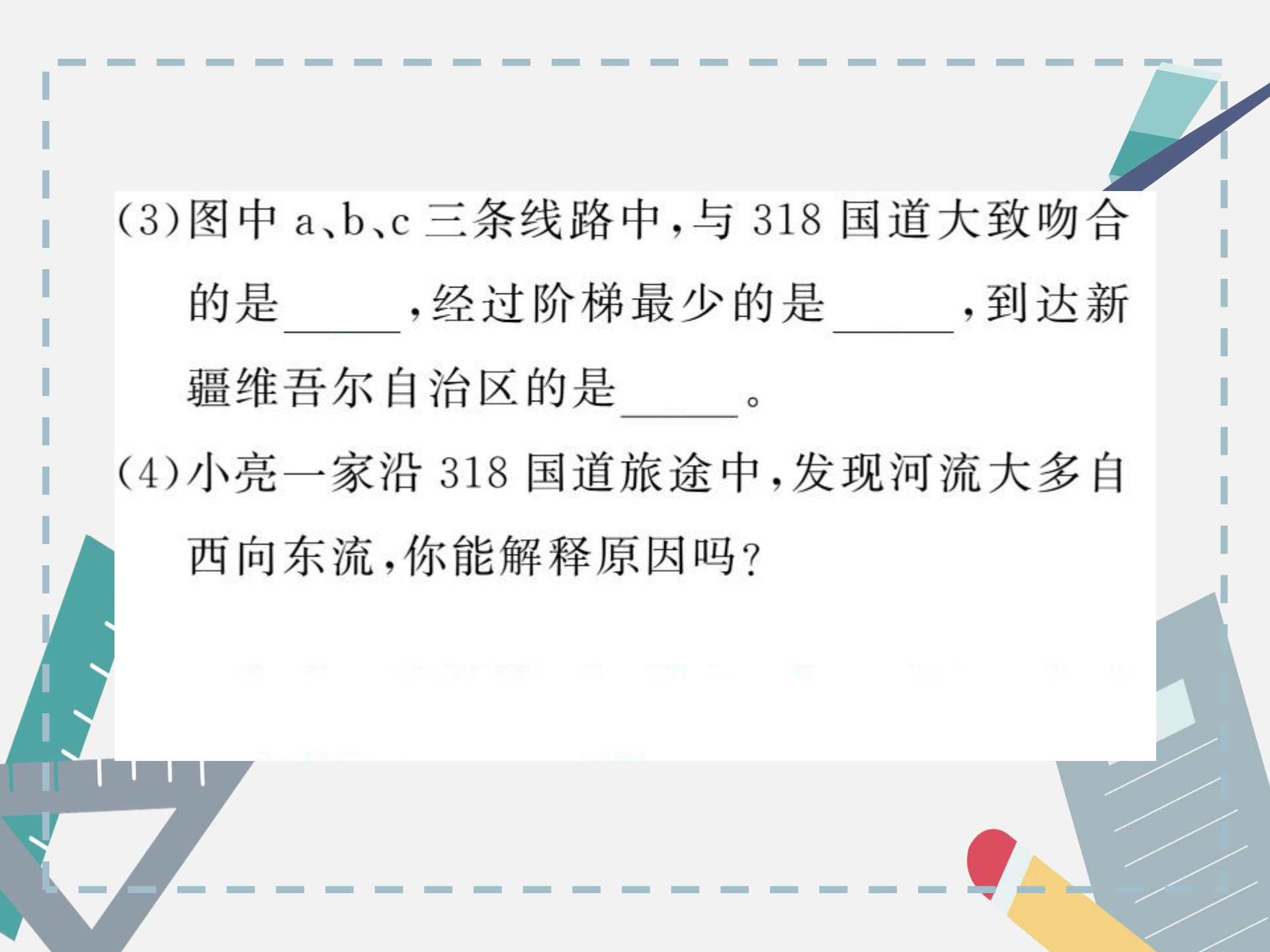
材料二 放暑假了,上海的中学生小亮一家三口准备利用假期开车旅游。他们设计了 a、b、c 三条线路,如下图。





(1)小亮一家位于我国地势的第_____级阶梯,该阶梯地形以_____为主。

(2)假如小亮一家沿线路 a 旅游,他们将欣赏到 A _____高原牧草如茵、山巅白雪皑皑的优美景色;若沿线路 b 旅游,目的地位于我国地势的第_____级阶梯,该阶梯地形以_____为主;若沿线路 c 旅游,沿途依次经过我国的_____平原和_____平原。



(3) 图中 a、b、c 三条线路中,与 318 国道大致吻合的是_____,经过阶梯最少的是_____,到达新疆维吾尔自治区的是_____。

(4) 小亮一家沿 318 国道旅途中,发现河流大多自西向东流,你能解释原因吗?





