





第一章 从世界看中国

第一节 疆 域

第一课时 优越的地理位置 海陆兼备的大国





知识梳理

一、优越的地理位置

1. 我国的地理位置

(1) 半球位置：_____ 半球，_____ 半球。

(2) 纬度位置：大部分地区位于中纬度、_____ 带，南部部分地区位于 _____ 带，没有地区位于 _____ 带。

(3) 海陆位置：_____ 东部、_____ 西岸，海陆兼备。



二、海陆兼备的大国

2. 我国领土的四至点

(1)最南端：在海南省南沙群岛中的_____。

(2)最北端：在黑龙江省漠河县北端的_____主航道中心线上。

(3)最西端：在新疆维吾尔自治区的_____上。

(4)最东端：在黑龙江省黑龙江与_____主航道中心线的汇合处。

3. 面积：我国陆地领土面积_____平方千米，仅次于_____和加拿大，居世界第三位。

4. 邻国：我国陆上邻国有_____个，隔海相望的国家有_____个，我国陆上国界线长达_____多千米，大陆海岸线长_____多千米。

5. 领海：我国大陆濒临的海洋，从北到南依次为_____海、黄海、_____海、南海。

A 基础方阵

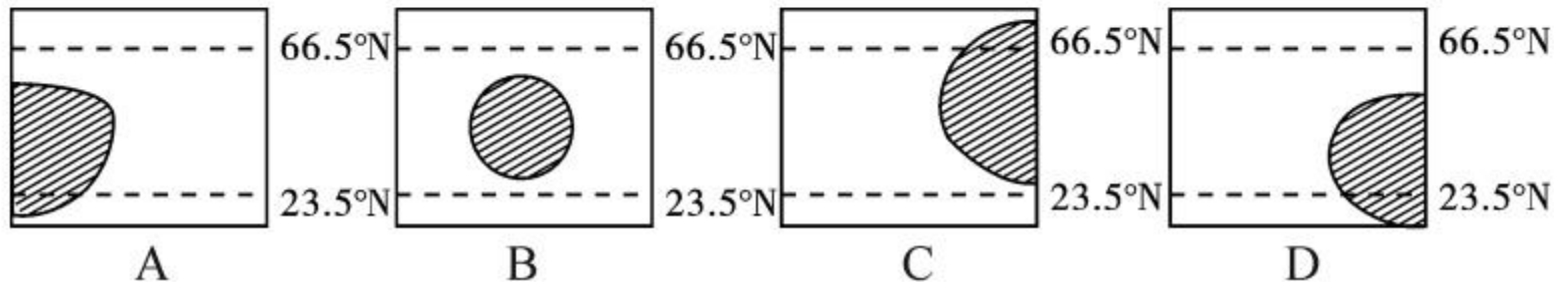
知识点 1 优越的地理位置

1. (成都市中考)关于我国地理位置的描述,正确的是 ()

- A. 亚欧大陆西部
- C. 太平洋的东岸

- B. 大部分位于北温带
- D. 地跨南、北半球

2. 下列示意图中方框表示亚欧大陆,阴影表示中国,能够表示中国地理位置的是 ()





3. 与日本、蒙古相比,我国地理位置的优越性主要体现在 ()
- A. 海陆兼备 B. 位于北温带 C. 纬度差异大 D. 东西距离大
4. 关于我国地理位置优越性的叙述,错误的是 ()
- A. 我国大部分位于北温带,部分位于热带,没有寒带,为大多数农作物的生长提供了足够的热量
- B. 我国南北跨纬度广,南北气候差异大,为发展多种农业生产提供了有利条件
- C. 东临太平洋,有利于发展海洋事业和对外交往
- D. 面临大洋,背靠大陆,有利于形成温带海洋性气候



知识点 2 海陆兼备的大国

5. (大庆市中考)我国领土的最西端在 ()
- A. 海南省南沙群岛中的曾母暗沙
 - B. 黑龙江省漠河县北端的黑龙江主航道中心线上
 - C. 新疆维吾尔自治区的帕米尔高原上
 - D. 黑龙江省黑龙江与乌苏里江主航道中心线的汇合处
6. (衡阳市中考)我国疆域辽阔,有漫长的陆地国界线和众多的邻国,下列国家中是我国的陆上邻国且为内陆国的是 ()
- A. 印度
 - B. 朝鲜
 - C. 泰国
 - D. 老挝

7. (海南省中考) 我国西沙群岛、中沙群岛、南沙群岛所在的海域是 ()

A. 东海 B. 南海 C. 黄海 D. 渤海

8. (娄底市中考) 歌曲《我爱你——中国》: 当灿烂的太阳跳出了你东海的碧波, 你的帕米尔高原上依然是群星闪烁……该现象说明我国 ()

A. 南北跨纬度多 B. 南北跨平原多
C. 东西跨经度多 D. 东西跨高原多

9. 放寒假的时候,小明去了哈尔滨滑雪,小刘则去了海南岛领略海岛风情,下面是他们拍摄的两幅照片,你认为造成两地气候差异的最主要因素是 ()



A. 地形

B. 海陆位置

C. 纬度位置

D. 地势

B 阅兵

10. 下列有关我国的地理数据,正确的是 ()
- A. 我国幅员辽阔,东西距离长达 5500 千米,南北距离长达 5200 千米
 - B. 我国陆上国界线长达 22000 多千米,海岸线长达 18000 多千米
 - C. 陆上相邻 15 个国家,隔海相望有 4 个国家
 - D. 我国领土面积 960 多万平方千米,面积大于 500 平方米的岛屿有 6500 多个



11. (赤峰市中考)关于我国疆域的描述,正确的是()

A. 我国位于亚欧大陆东部,大西洋西岸

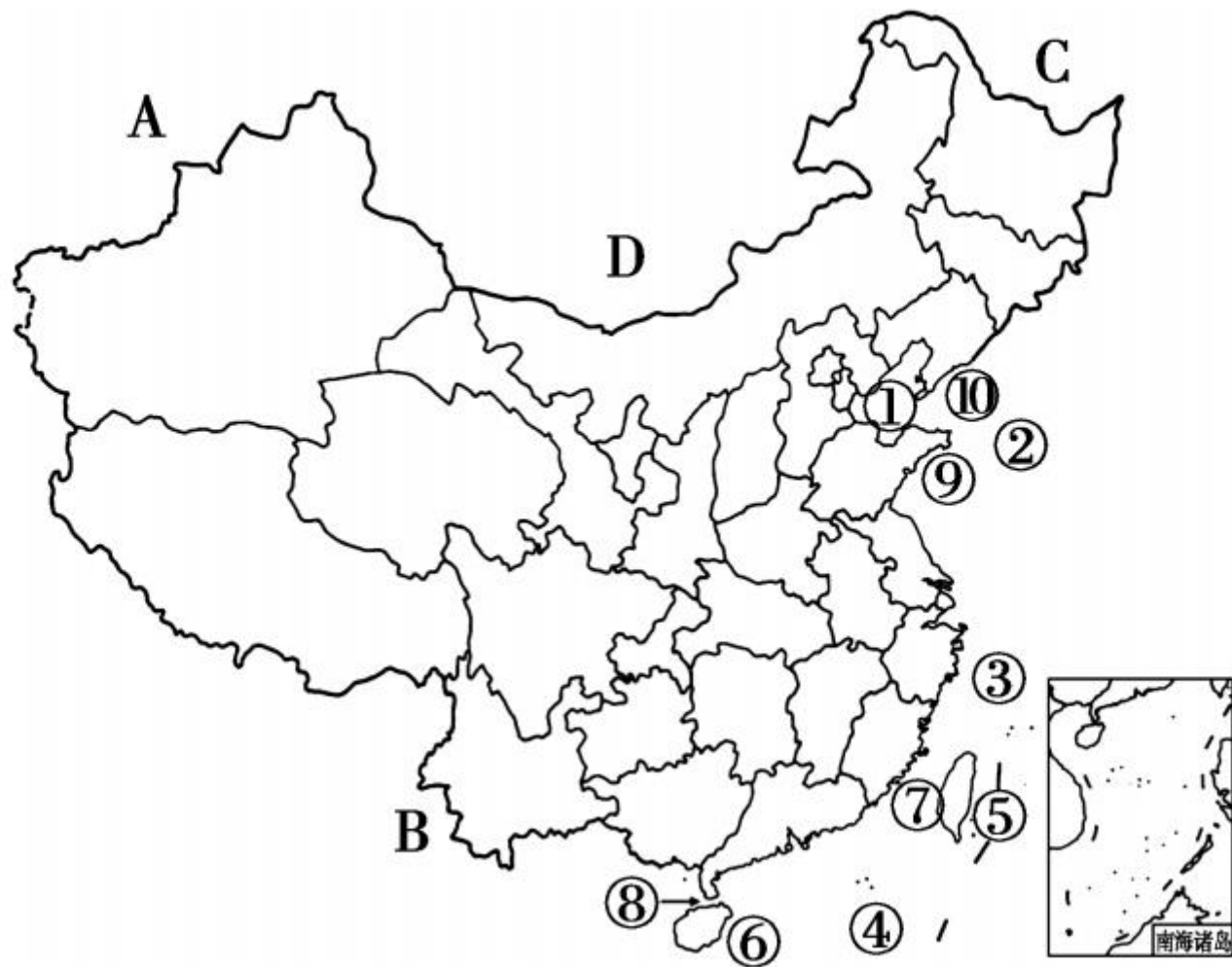
B. 我国领土最南端位于广东省

C. 我国疆界长,邻国多,有利于发展对外贸易

D. 我国濒临的海洋自北向南依次是黄海、渤海、东海、南海



12. 读图，完成下列各题。



(1) 写出图中我国濒临的海洋的名称。

① _____, ② _____, ③ _____, ④ _____。

四大海洋中, 面积最大的是 _____, 面积最小的是 _____, 属于内海的是 _____。
(填名称)

(2) 写出图中岛屿或半岛的名称。

岛屿⑤ _____, 岛屿⑥ _____, 半岛⑨ _____, 半岛⑩ _____。

面积最大的岛屿是 _____, 半岛⑨与半岛⑩均濒临的海洋是 _____ 和 _____。



(3) 写出图中海峡的名称。

海峡⑦ _____, 海峡⑧ _____。

海峡⑦沟通 _____ 海与 _____ 海。

(4) 写出图中我国陆上邻国的名称。


A _____, B _____, C _____,

D _____。



开放探究

13. 春节期间,广州的明明早上 9 时分别打电话给住在漠河的阿鹏、帕米尔高原上的买买提、海口的阿勇和乌苏里江畔的琦琦,送上自己的问候。你知道他们分别正在做什么吗?这反映了我国疆域的什么特点?



明明



