



第二章 陆地和海洋



第一节 大洲和大洋





知识梳理

一、地球？水球？

1. **海陆比例**：地球表面海洋占_____，陆地占_____。概括地说，地球上_____分是海洋，_____分是陆地。
2. **海陆分布**：世界陆地主要集中在_____，但是北极周围却是一片_____；海洋大多分布在_____，而南极周围却是一块_____。

二、七大洲和四大洋

3. **七大洲面积大小的顺序**：_____、非洲、_____、南美洲、南极洲、欧洲和_____。
4. **七大洲主要分界线**
 - (1) 亚洲和欧洲的分界线是_____山脉、乌拉尔河、里海、_____山脉、黑海、_____海峡。
 - (2) 亚洲和非洲的分界线是_____运河。
 - (3) 南、北美洲的分界线是_____运河。
 - (4) 亚洲与北美洲的分界线是_____。

5. 世界上面积最大的岛屿:北美洲的_____岛是世界上面积最大的岛屿。
6. 四大洋的面积大小顺序:_____、大西洋、印度洋、_____。

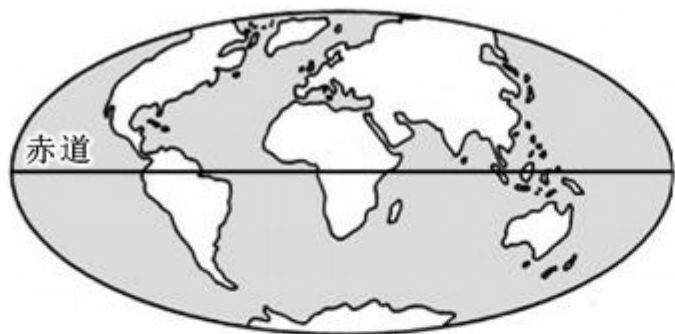


基础方阵


知识点 1 地球? 水球?

1. 有人说,我们给地球起错了名字,地球更应该叫“水球”,他的理由是 ()
- A. 地球上有生命,水是生命之源
 - B. 地球表面有 71% 被水覆盖
 - C. 海洋中的生物比陆地上生物更多
 - D. 从太空看地球只能看到海洋,而看不见陆地
2. 世界海陆分布比例为 ()
- A. 七分海洋、三分陆地
 - B. 七分陆地、三分海洋
 - C. 六分陆地、四分海洋
 - D. 四分陆地、六分海洋

3. (2018年张家口市)读图甲和图乙,下列关于地球海陆分布特点的说法,不正确的是 ()



图甲 世界海陆分布



图乙 世界海陆面积比较

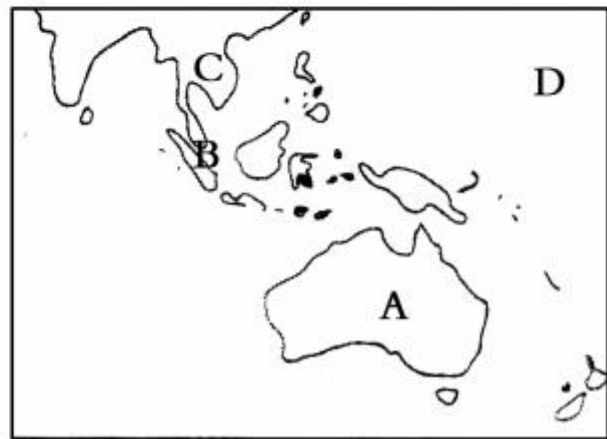
- A. 世界海陆分布很不均匀
- C. 海洋大多分布在北半球

- B. 陆地主要集中在北半球
- D. 南极周围是一块陆地

知识点 2 七大洲和四大洋

4. 读图,其中地理事物的名称表述不正确的是 ()

- A. A 为岛屿
- B. B 为海峡
- C. C 为半岛
- D. D 为大洋



读图,回答 5~6 题。



①



②



③



④

5. 图中数字与相应的大洲名称不对应的是 ()
- A. ①——亚洲 B. ②——非洲
C. ③——大洋洲 D. ④——南极洲
6. 图中四个大洲中,面积最大和面积最小的分别为 ()
- A. ①、② B. ③、④ C. ②、④ D. ①、③

读图,回答 7~8 题。



7. 图中,按①、②、③的数字顺序排列,对应代表的大洋是 ()
- A. 太平洋、大西洋、印度洋
 - B. 印度洋、太平洋、大西洋
 - C. 大西洋、太平洋、印度洋
 - D. 印度洋、大西洋、太平洋

8. 对图中地理事物的说法,正确的是 ()

- A. 甲所在的大洲是七大洲中跨经度最广的大洲
- B. 丙所在的大洲是七大洲中跨纬度最广的大洲
- C. 乙为巴拿马运河,是北美洲与南美洲的分界线
- D. 甲、丁各自所在的大洲是七大洲中相距最远的

B 整合阅兵

9. 地球表面陆地的总面积约为 ()

- A. 5.1 亿平方千米
- B. 1.5 亿平方千米
- C. 2.3 亿平方千米
- D. 3.6 亿平方千米

10. 均被赤道横穿的一组大陆是 ()
- A. 亚欧大陆和非洲大陆
 - B. 南美大陆和澳大利亚大陆
 - C. 南极洲大陆和南美洲大陆
 - D. 非洲大陆和南美洲大陆
11. 一架飞机从伦敦起飞,一直往南飞,依次经过的大洲和大洋是 ()
- A. 欧洲、大西洋、南美洲、南极洲
 - B. 欧洲、大西洋、非洲、大西洋、南极洲
 - C. 欧洲、亚洲、非洲、大西洋、南极洲
 - D. 亚洲、印度洋、大洋洲、印度洋
12. 下列海峡或运河中,既是两大洲的分界线,又沟通两大洋的是 ()

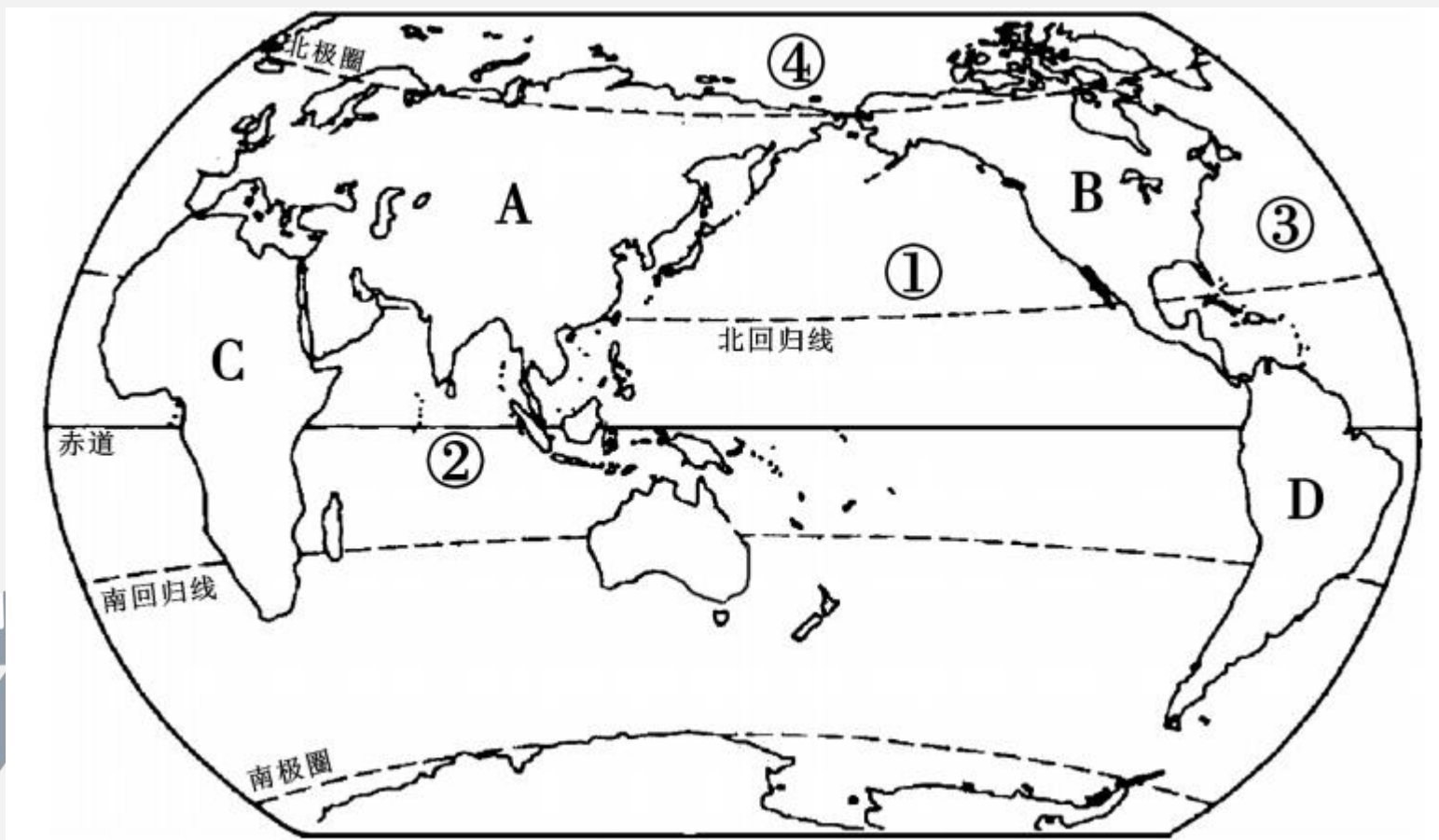
A. 马六甲海峡

B. 直布罗陀海峡

C. 曼德海峡

D. 巴拿马运河

13. 读图,完成下列问题。



(1) 写出图中字母所表示的大洲名称。

A _____, B _____, C _____,
D _____。

(2) 写出图中数字所表示的大洋名称。

① _____, ② _____, ③ _____,
④ _____。

(3) 位于北半球、东临大西洋、西临太平洋的是
_____ 洲；位于西半球、离南极洲近的是
_____ 洲；位于南半球、东临太平洋、西临印
度洋的是 _____ 洲。

(4) 四大洋中，面积最大的是 _____ 洋，纬度最
高的是 _____ 洋，轮廓形状像“S”的是 _____
_____ 洋。



开放探究

14. 读“北半球图”，回答下列问题。



(1) 写出图中字母所代表的大洲名称。

A _____, B _____, C _____,
D _____, E _____。

(2) 写出图中数字代号所代表的大洋名称。

① _____, ② _____,
③ _____, ④ _____。

(3) A 大洲与 B 大洲的分界线是 _____。

A 大洲与 C 大洲的分界线是 _____。

B 大洲与 E 大洲的分界线是 _____。

(4) 图中五大洲中, 面积最小的是 ()

- A. 大洲 B B. 大洲 D
C. 大洲 C D. 大洲 E

(5) 图中五大洲中, 被三大洋包围的是 ()

A. 大洲 A 和大洲 B B. 大洲 B 和大洲 C

C. 大洲 C 和大洲 D D. 大洲 D 和大洲 E

(6) 图中四大洋中, 跨经度最广的是 ()

A. 大洋① B. 大洋②

C. 大洋③ D. 大洋④