



第三章

章末综述



考点突破

高频考点 1 多变的天气

【考情剖析】天气和气候的区别、天气符号的判读、空气质量级别、空气质量状况与空气质量指数的对应关系、雾霾等环境问题的治理等,是考试的重点。题型多为选择题。

【对应训练】

1. (2017年赤峰市)“天气”与“气候”既有联系又有区别,下列现象中描述天气的是 ()
- A. 云南冬无严寒,夏无酷暑
- B. 四季无寒暑,一雨便成秋
- C. 昨天晴空万里,艳阳高照
- D. 五原春色归来迟,二月垂柳未挂丝
2. (2017年昆明市)图为一组天气符号,可能导致飞机延误的天气是 ()



A



B

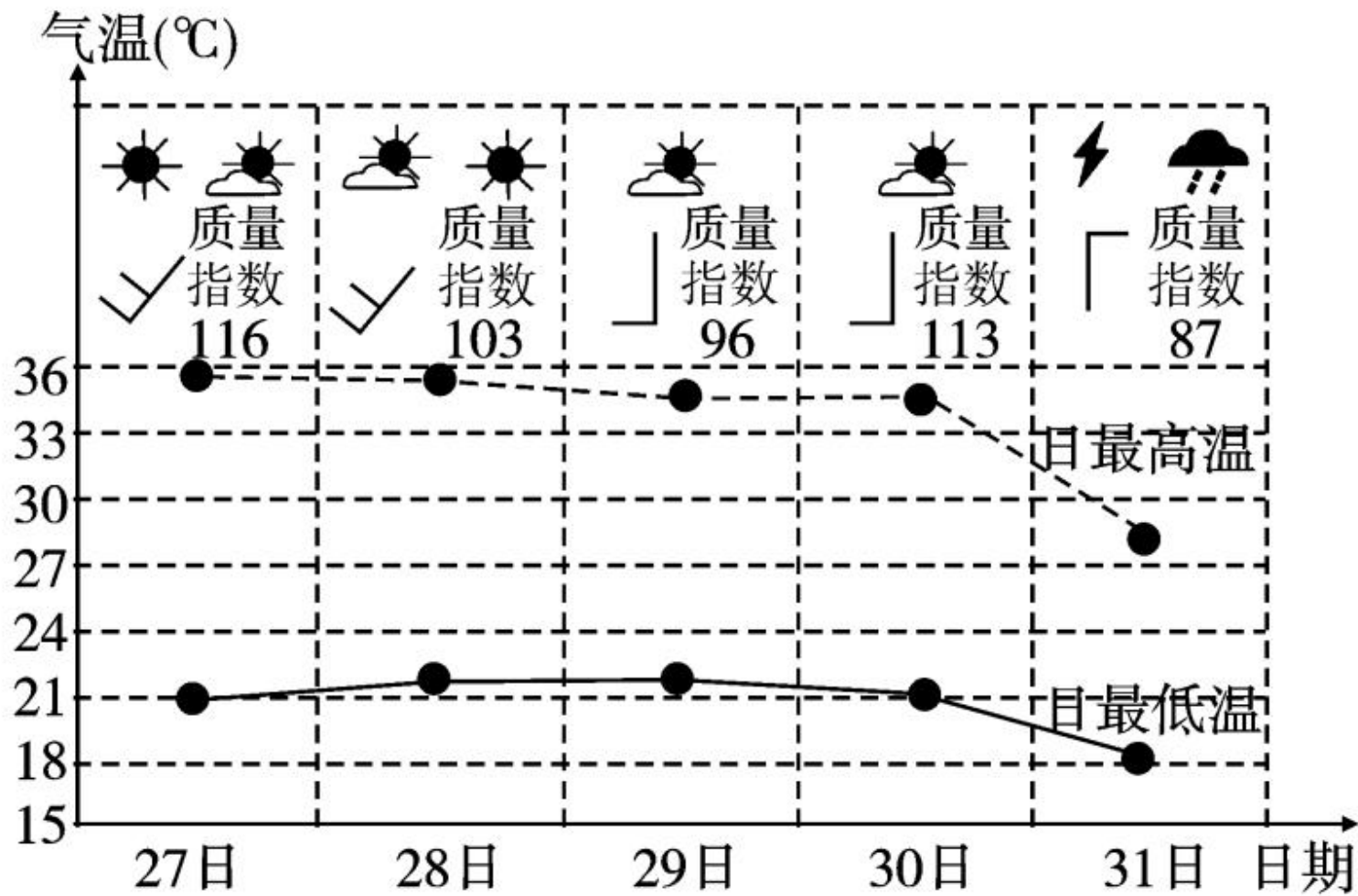


C



D

(2017年临沂市)读“临沂市2017年5月27日——31日的天气预报图”,完成3~4题。



临沂市2017年5月27日—31日的天气预报

3. 有关 5 月 28 日天气状况的表述正确的是 ()
- A. 天气多云转晴 B. 东南风 4 级
C. 气温日较差约 23°C D. 空气质量优
4. 空气质量指数是衡量区域空气质量高低的重要指标,下列行为不利于空气质量提高的是 ()
- A. 普及城市公共自行车
B. 禁止焚烧田地作物秸秆
C. 对建筑工地洒水除尘
D. 鼓励购买使用私家车

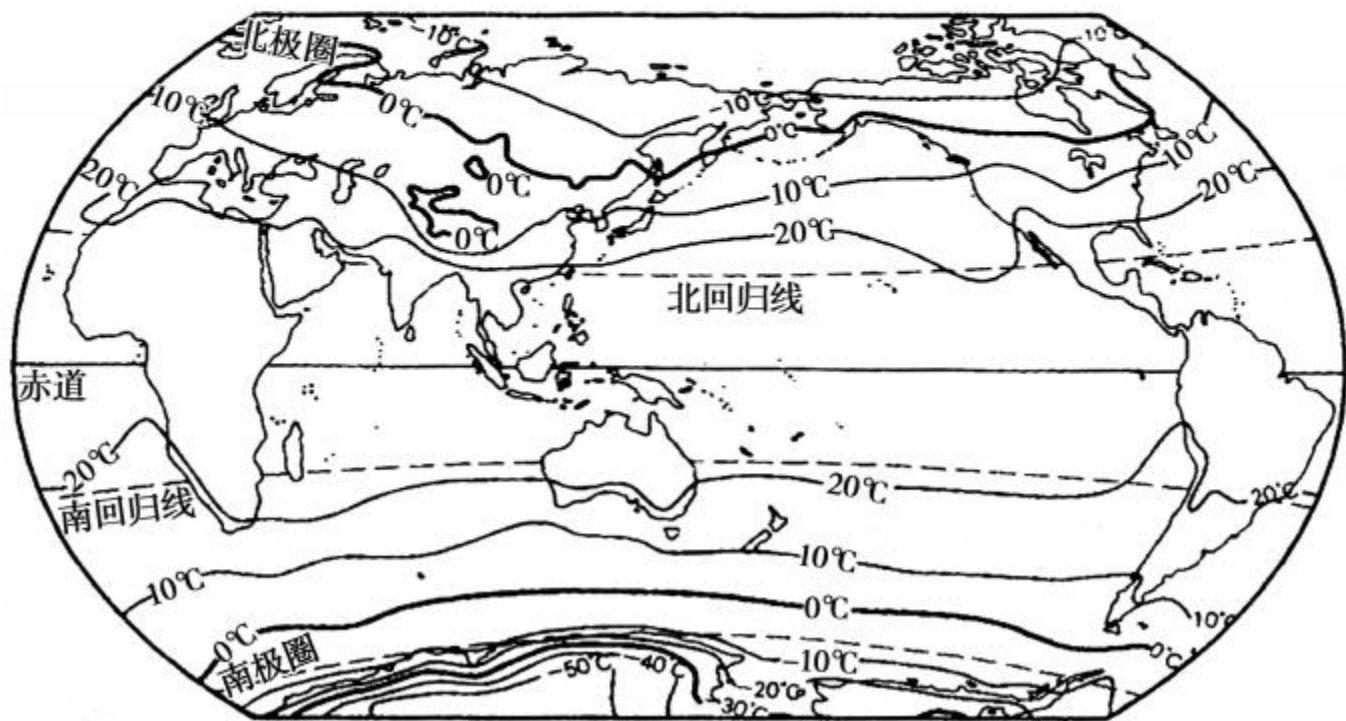
高频考点 2 气温的变化与分布

【考情剖析】根据气温曲线图分析气温的日变化和年变化等特征,根据等温线图分析气温的分布特点以及

气温的影响因素是考试的高频考点。题型多为选择题和读图填空题。

【对应训练】

(2017年巴彦淖尔市)读“世界年平均气温分布图”，完成第5题。

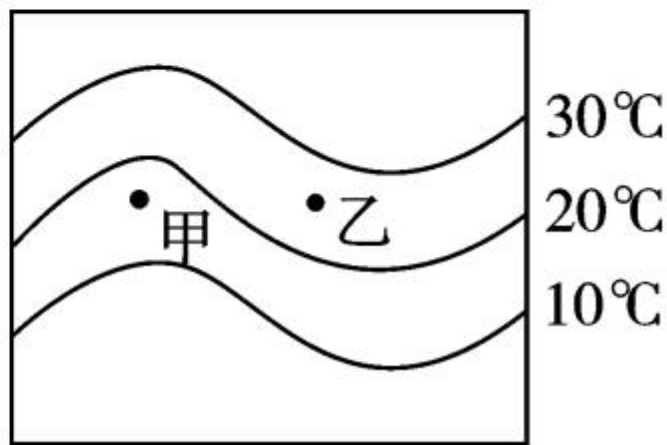


5. 关于世界年平均气温分布的叙述,正确的是()

- A. 气温分布大致由低纬向高纬递减
- B. 北半球的等温线比南半球平直
- C. 同纬度地区海洋和陆地气温相同
- D. 气温分布大致由高纬向低纬递减

6. (2017年邵阳市)读“某地区7月份等温线分布图”,甲乙两地中有一地为海洋。有关叙述正确的是 ()

- A. 甲地为海洋
- B. 甲地位于北半球
- C. 乙地位于南半球
- D. 乙地为陆地



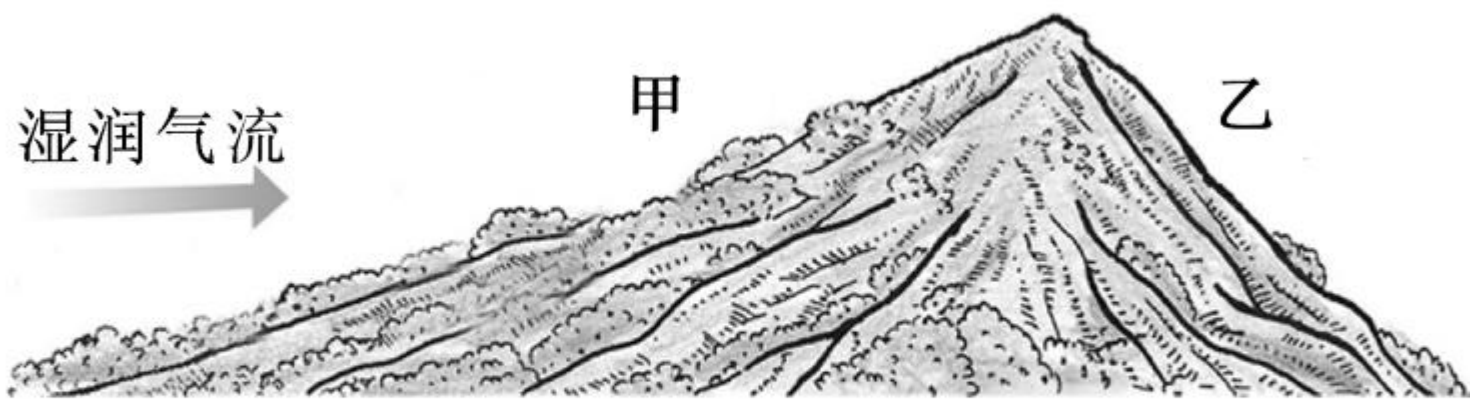
高频考点 3 降水的变化与分布

【考情剖析】根据降水量柱状图分析降水的季节分配特征,根据等降水量线图分析降水分布的区域特点以及降水的影响因素是考试的高频考点。题型多为选择题和读图填空题。

【对应训练】

7. 一般来说,下列地区中年降水量最多的是 ()
- A. 赤道附近地区 B. 中纬度内陆地区
C. 两极地区 D. 回归线附近大陆西岸

8. 读图,比较甲坡降水与乙坡降水的多少 ()



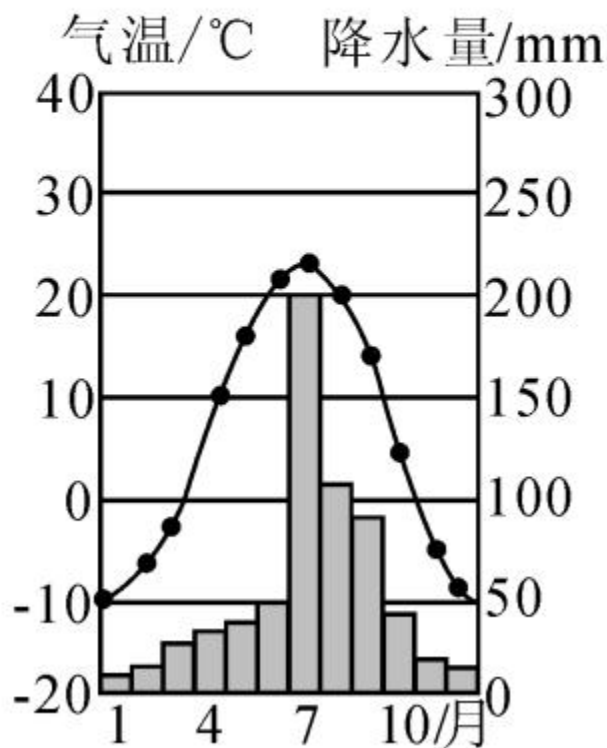
A. 甲坡降水多

B. 乙坡降水多

C. 一样多

D. 无法确定

9. (2017年甘肃省) 下图为“某地气温变化曲线和降水量柱状图”, 读图完成下列问题。



(1)根据图中信息,将下表中缺少的数据补充完整。

月份	1	4	7	10
气温($^{\circ}\text{C}$)			23.5	5
降水(mm)	10	36		40

(2)读图,该地最热月出现在_____月,由此可判断该地位于_____ (南、北)半球。

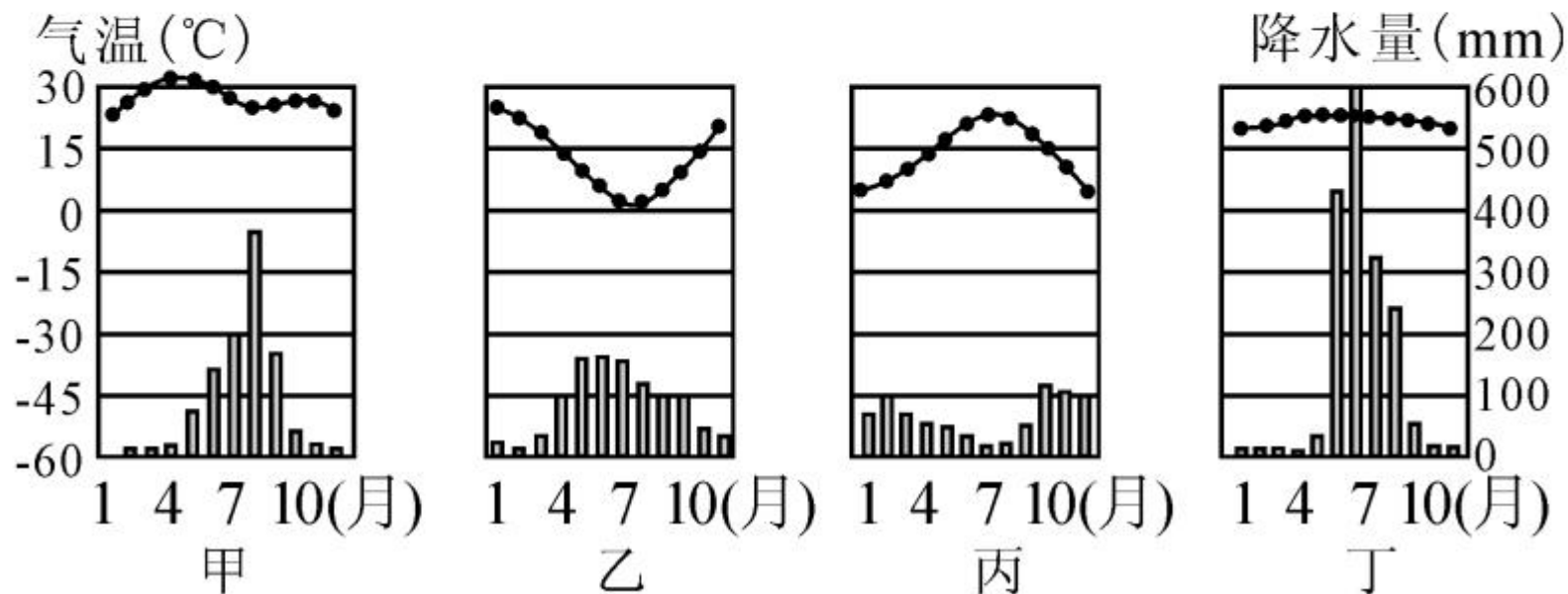
(3)降水最多的三个月是_____月,降水分配不均匀,年内降水变化大。

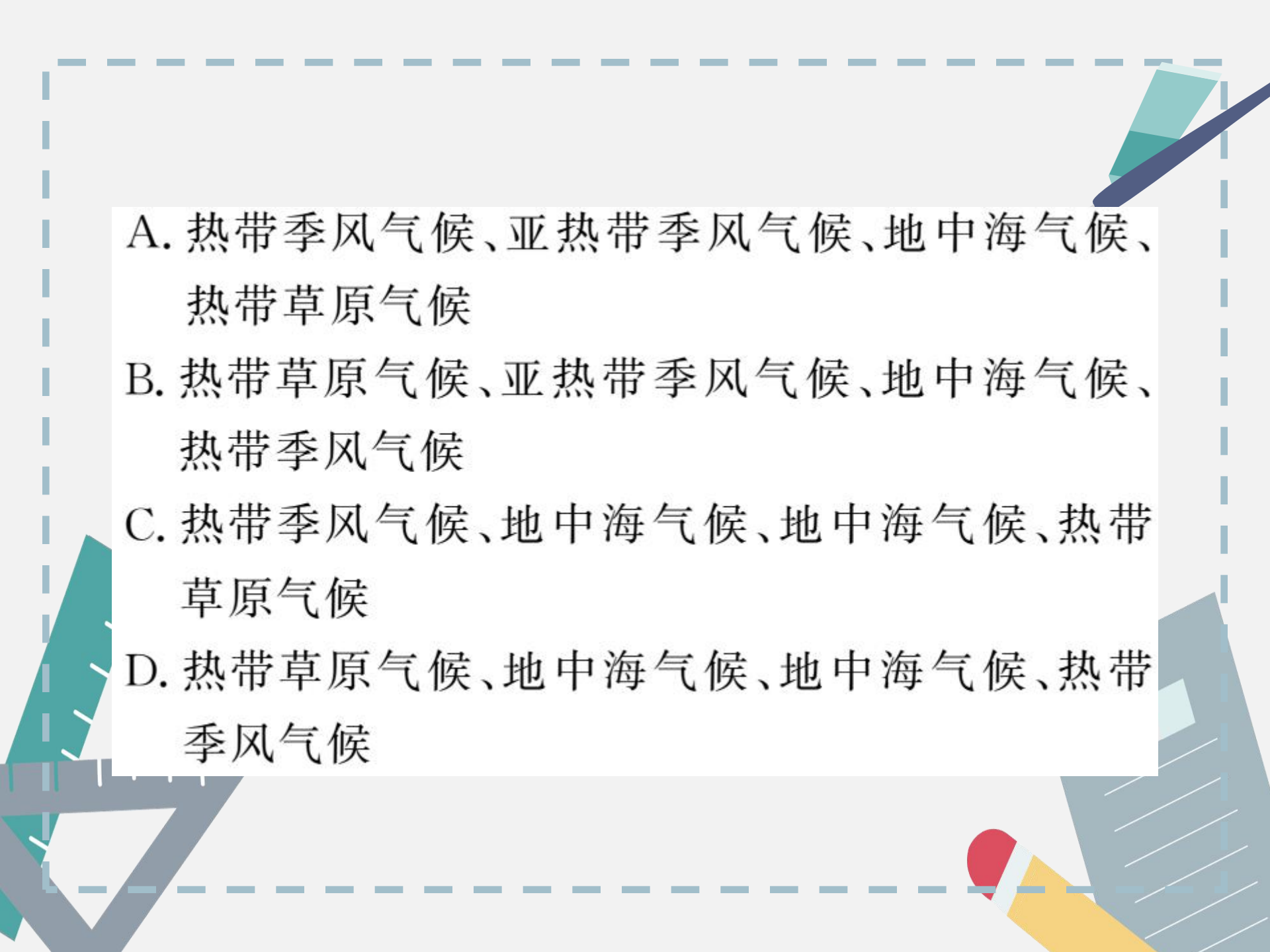
高频考点 4 世界的气候

【考情剖析】(1) 结合实例分析气温和降水的特征,或者根据给出的气温曲线和降水量柱状图分析该气候的特点、类型和大致的分布地区是考试的高频考点。题型多为选择题和读图分析题;(2) 以文字叙述或结合图形来考查,涉及到纬度位置、海陆位置、地形等因素对气候的影响。题型多为选择题。

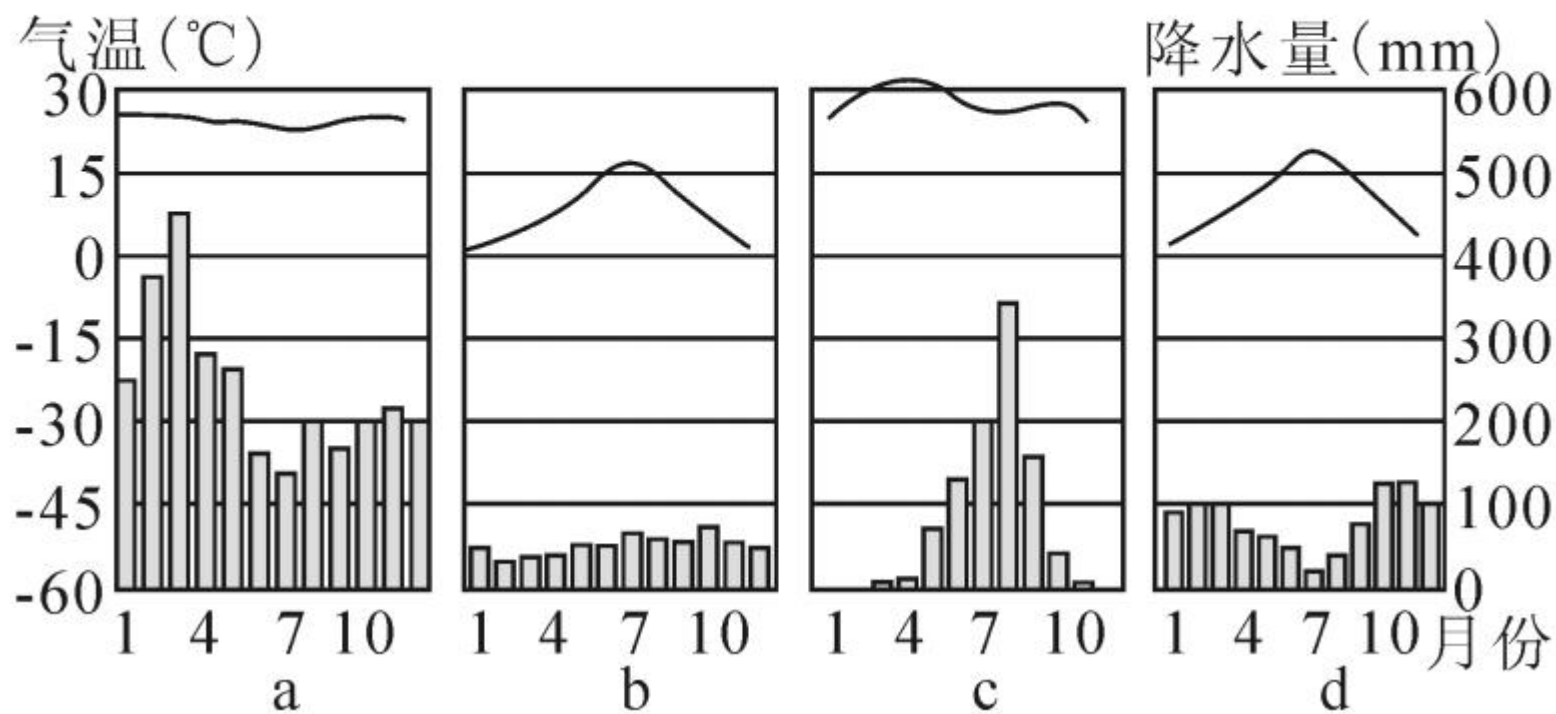
【对应训练】

10. (2017年巴彦淖尔市)读“四地气温变化曲线和降水量柱状图”,图中甲、乙、丙、丁四地气候类型分别是 ()



- 
- A. 热带季风气候、亚热带季风气候、地中海气候、热带草原气候
 - B. 热带草原气候、亚热带季风气候、地中海气候、热带季风气候
 - C. 热带季风气候、地中海气候、地中海气候、热带草原气候
 - D. 热带草原气候、地中海气候、地中海气候、热带季风气候

(2017年怀化市)读下列“气温变化曲线和年降水量柱状图”,回答11~12题。



11. 对上面四种气候特征描述正确的是 ()

A. a 夏季炎热干燥, 冬季温和多雨

B. b 全年温和湿润

C. c 夏季高温多雨, 冬季温和少雨

D. d 夏季炎热干燥, 冬季寒冷多雨

12. 对上图四种气候类型分布图描述正确的是 ()

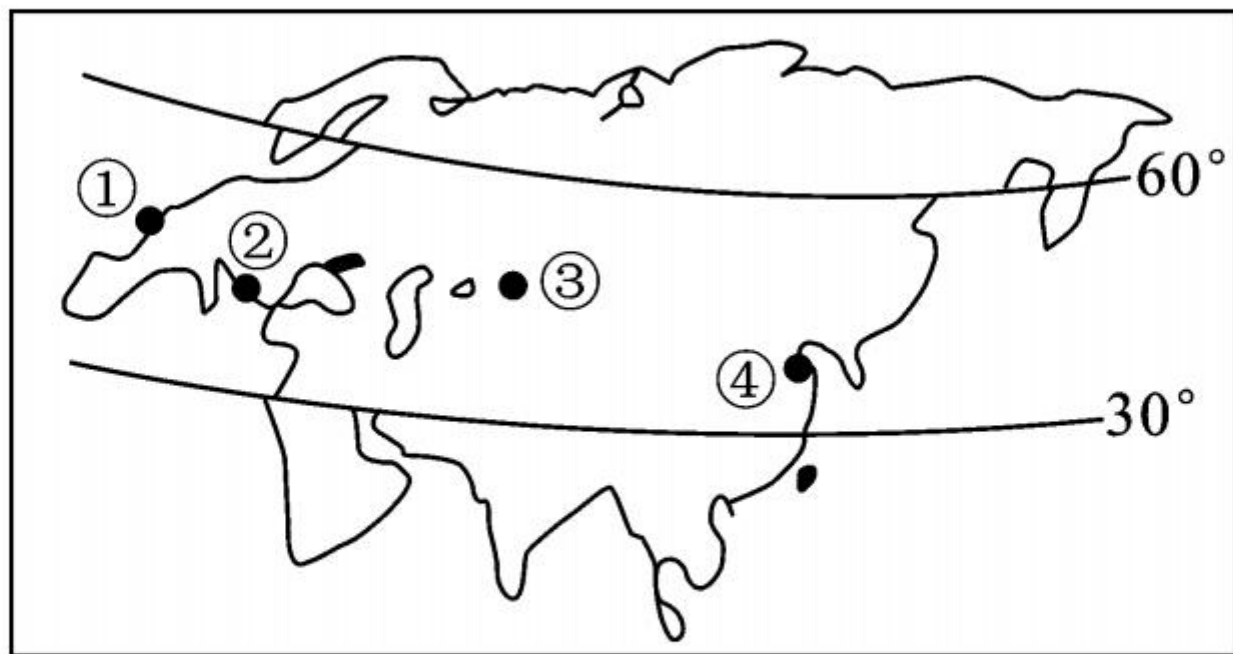
A. a 位于南北回归线附近

B. b 位于极地附近

C. c 位于亚马孙平原

D. d 位于南北纬 $30^{\circ} \sim 40^{\circ}$ 的大陆西岸

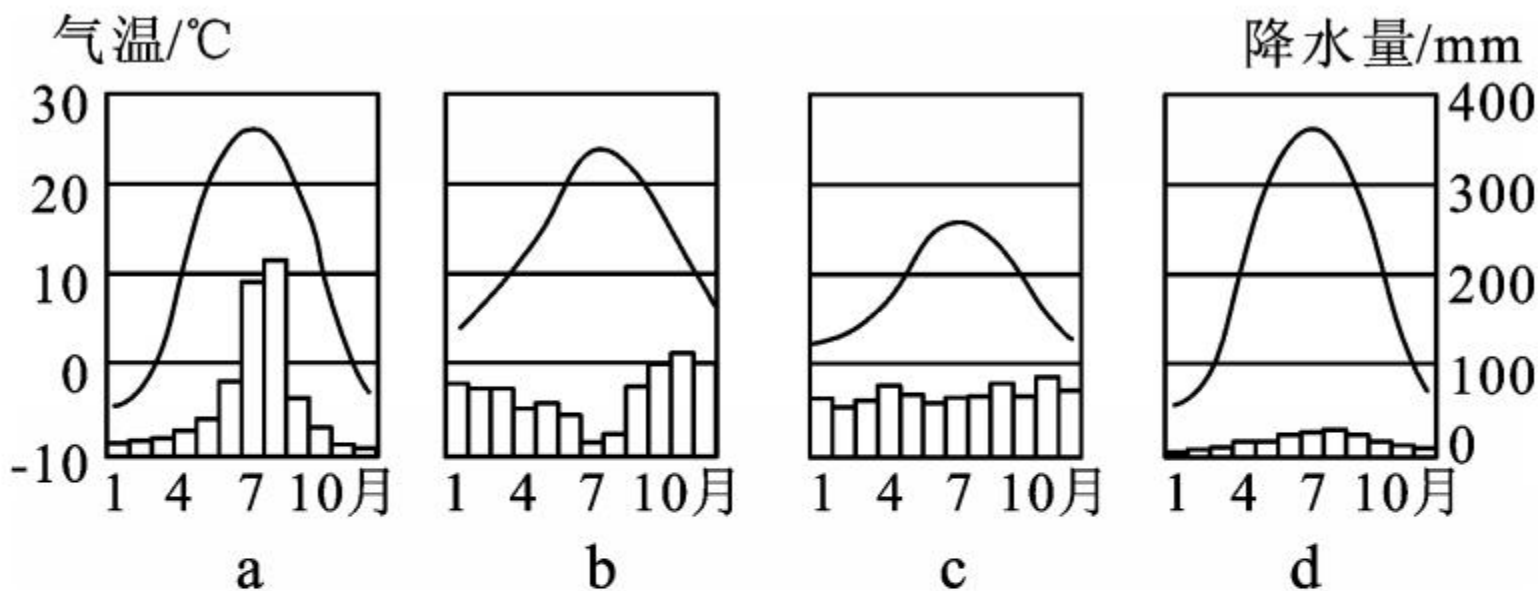
下图是“亚欧大陆局部轮廓图”，读图完成 13~15 题。



13. 图中所示的四地中,年降水量最少的是 ()
A. ① B. ② C. ③ D. ④

14. 图中四地的气候特征与下面“气温变化曲线和降

水量柱状图”对应正确的是 ()



A. ①——a

B. ②——b

C. ③——c

D. ④——d

15. ①③两地降水差异的主要影响因素是 ()

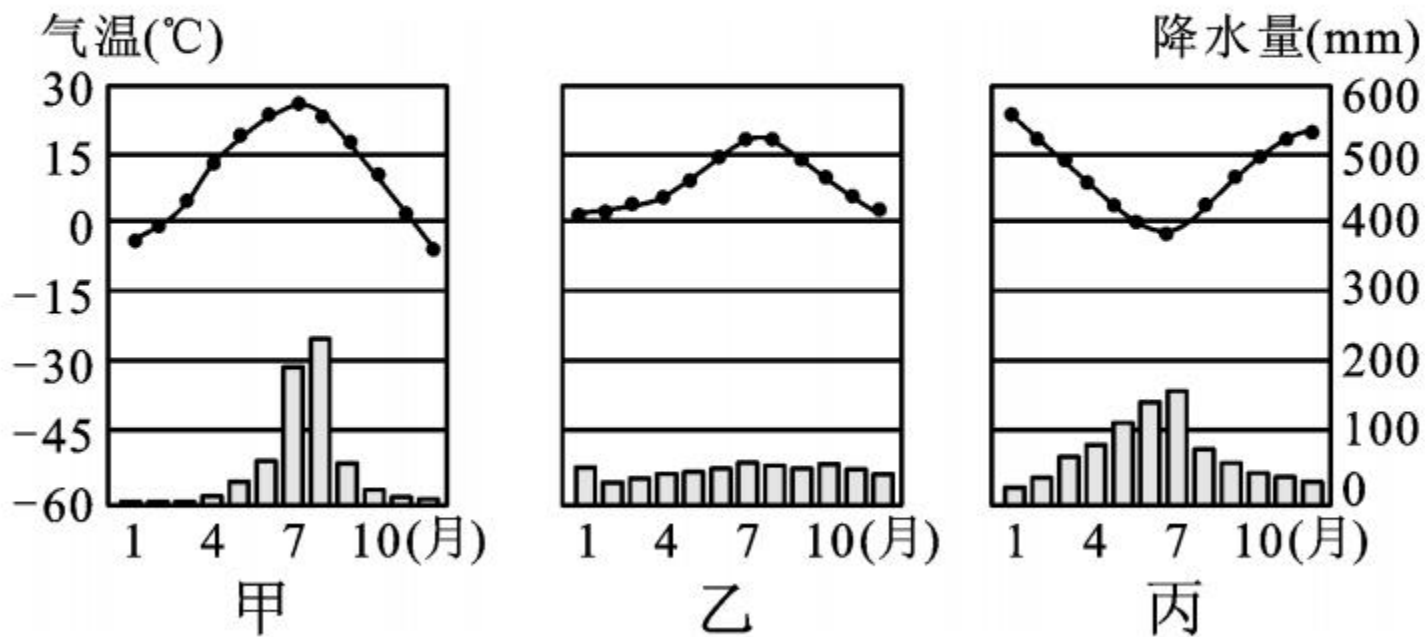
A. 纬度位置

B. 海陆位置

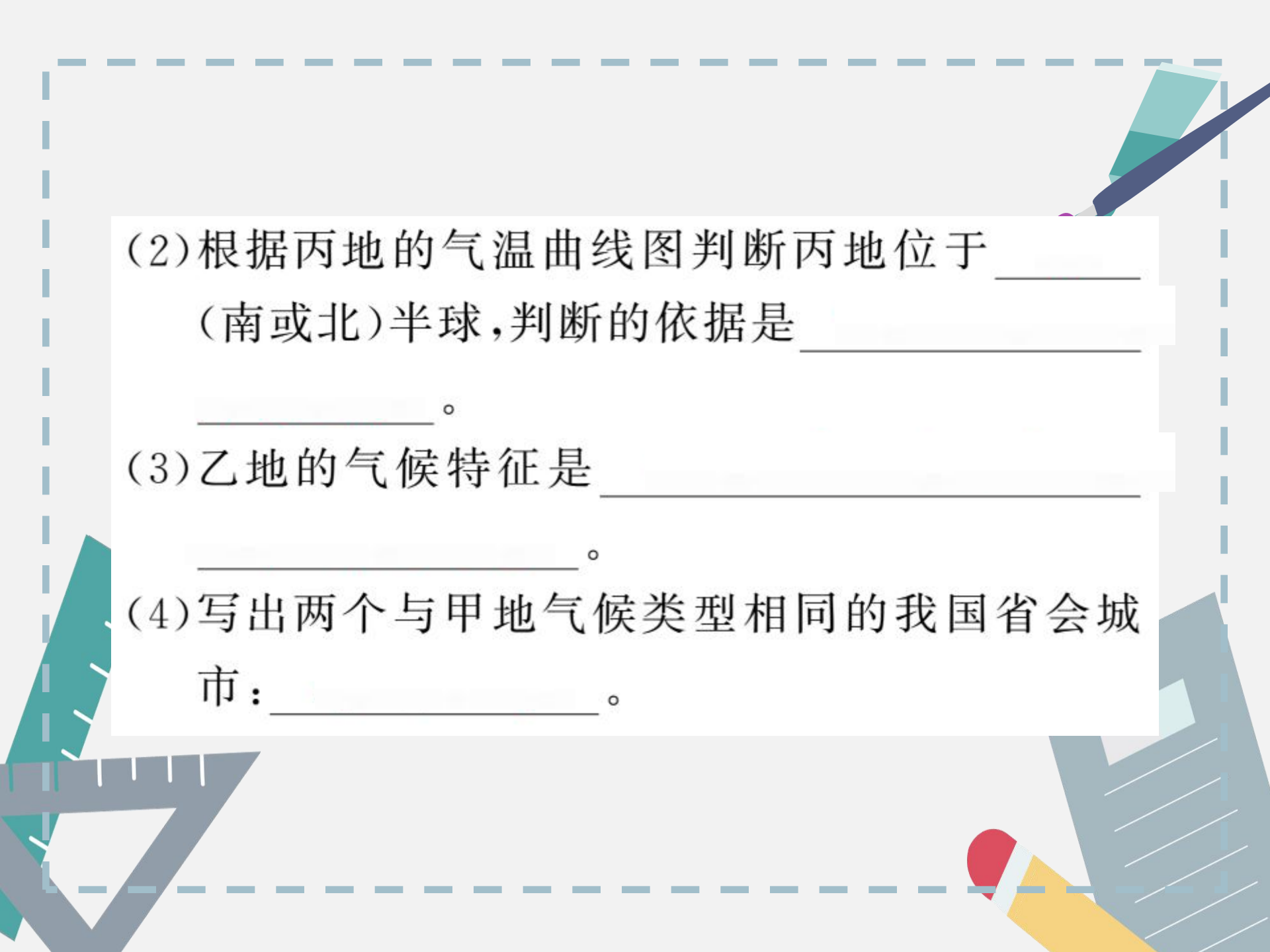
C. 地形

D. 人类活动

16. 读“甲、乙、丙三地的气温曲线和降水量柱状图”，
回答下列问题。



(1) 甲、乙、丙三地中气温年较差最大的是_____。



(2) 根据丙地的气温曲线图判断丙地位于_____
(南或北)半球,判断的依据是_____

(3) 乙地的气候特征是_____

(4) 写出两个与甲地气候类型相同的我国省会城市:_____。