



# 第四章 章末综述



## 考点突破

### 高频考点 1 交通运输

**【考情剖析】**主要考查我国主要铁路干线和铁路枢纽以及交通运输方式的选择。通常以局部铁路干线图为载体,考查铁路干线的位置及经过的铁路枢纽;给出一个或者几个交通运输方式,判断选择哪一个交通运输方式是正确的,或者给出一个小材料,写出一个正确的交通运输方式等。



1. (宜昌市中考改编)“清江鱼”是宜昌市民喜爱的一道菜肴,宜昌下属的宜都市是其主要产地之一。1000 千克清江活鱼从宜都市运到宜昌市城区,最合理的交通运输方式是 ( )

A 公路运输

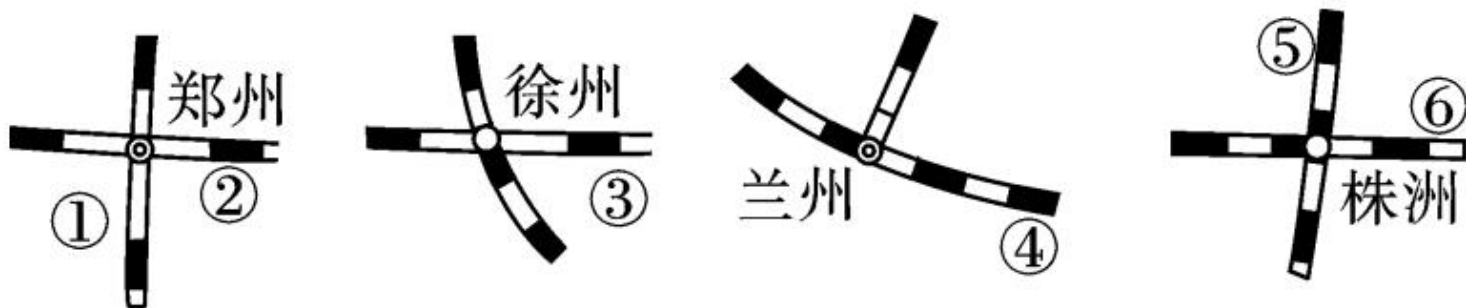
B. 铁路运输

C. 航空运输

D. 河运



2. (德州市中考)关于下图中我国铁路干线的说法,不正确的是 ( )



- A. ②线和③线是同一条铁路干线
- B. ②线和④线是同一条铁路干线
- C. ②线和⑥线是同一条铁路干线
- D. ①线和⑤线是同一条铁路干线

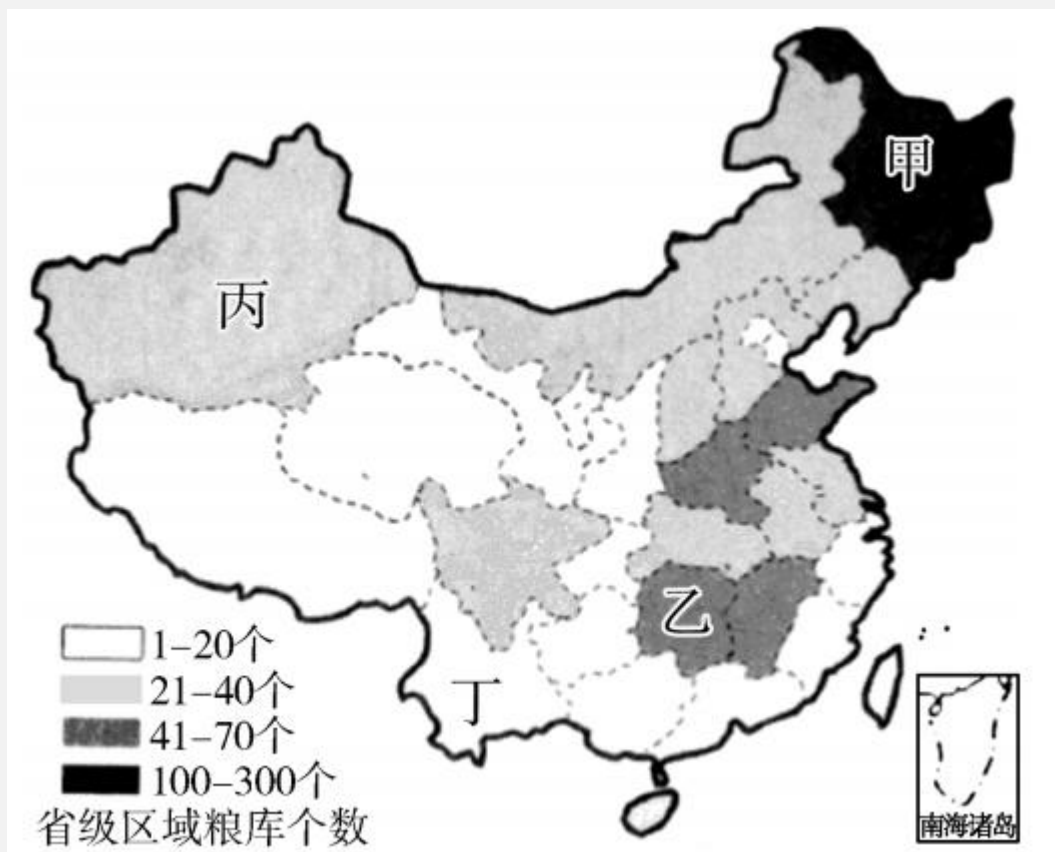
3. (成都市中考)在郑州交会的铁路干线是 ( )

- A. 宝成线和成昆线
- B. 京沪线和陇海线
- C. 京九线和兰新线
- D. 京广线和陇海线

## 高频考点 2 农业

**【考情剖析】**主要考查我国主要农作物的分布和主要牧区的分布、因地制宜发展农业等。农作物中,通常对比考查水稻与小麦、甜菜与甘蔗、油菜与花生以及茶叶、棉花的分布。畜牧业通常考查我国四大牧区的分布及其代表牲畜。题型常常为选择题、读图分析题等。

(广东省中考)为应对突发自然灾害,提高粮食安全性,稳定粮食价格,我国实施了粮食储备战略。下图为“我国中央储备粮食直属库数量的分布示意图”,读图完成 4—6 题。



4. 以下四地粮库数量最多的是 ( )

- A. 甲      B. 乙      C. 丙      D. 丁

5. 甲地粮库集中分布的主要原因是 ( )

A. 人口数量多, 粮食消费量大

B. 人均耕地多, 粮食商品率高

C. 气候干冷, 便于粮食储存

D. 自然灾害频发, 赈灾粮需求量大

6. 根据我国粮食作物分布规律推测, 乙地粮库储备的粮食主要为 ( )

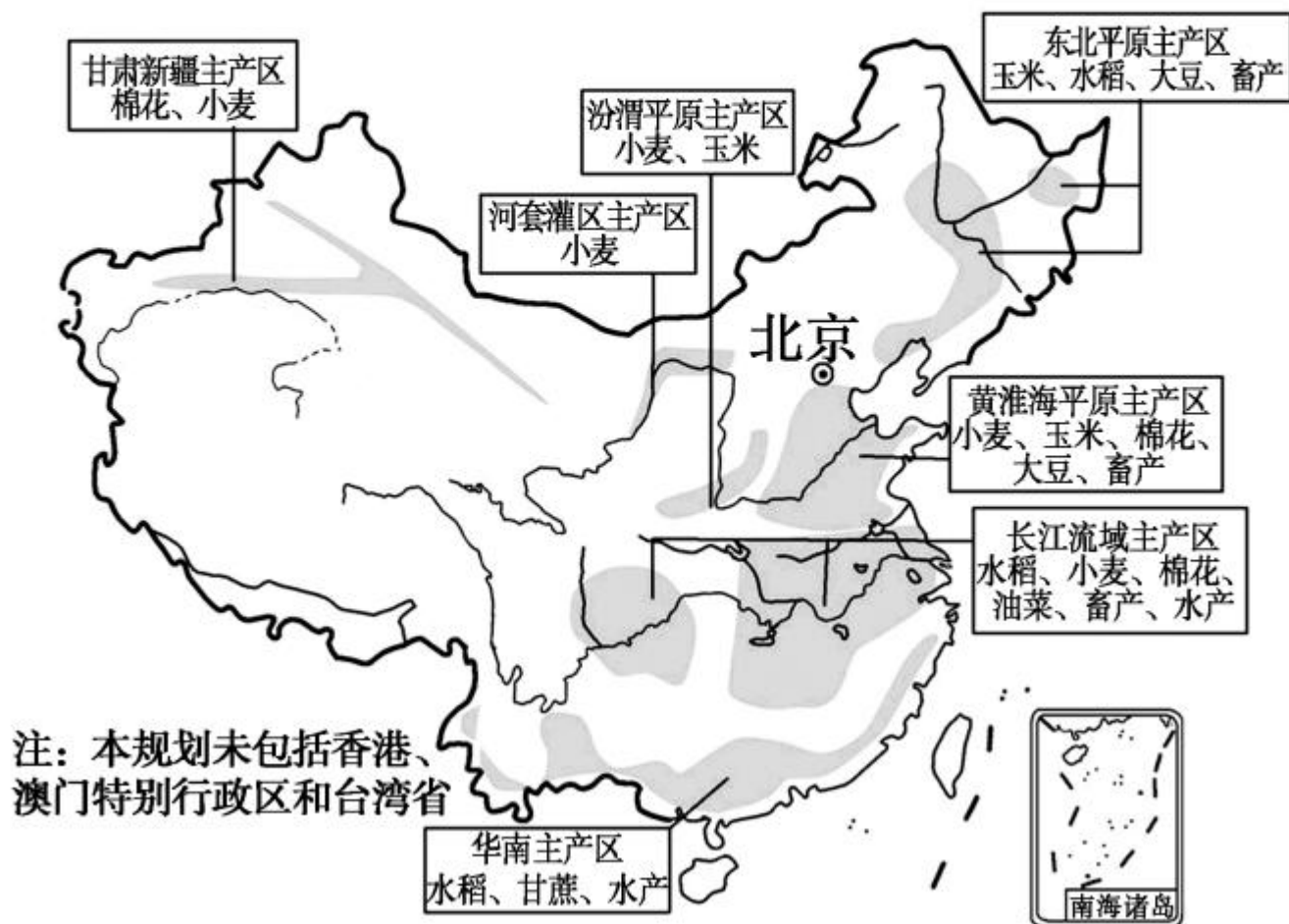
A. 稻谷

B. 小麦

C. 玉米

D. 高粱

(临沂市中考)读“中国农产品主要产区建设规划示意图”,完成7—8题。





7. 甘肃新疆主产区发展种植业最主要的自然条件是

A. 夏季降水丰富

B. 夏季气温高,光照强,昼夜温差大

C. 劳动力资源丰富

D. 地势平坦,土壤肥沃

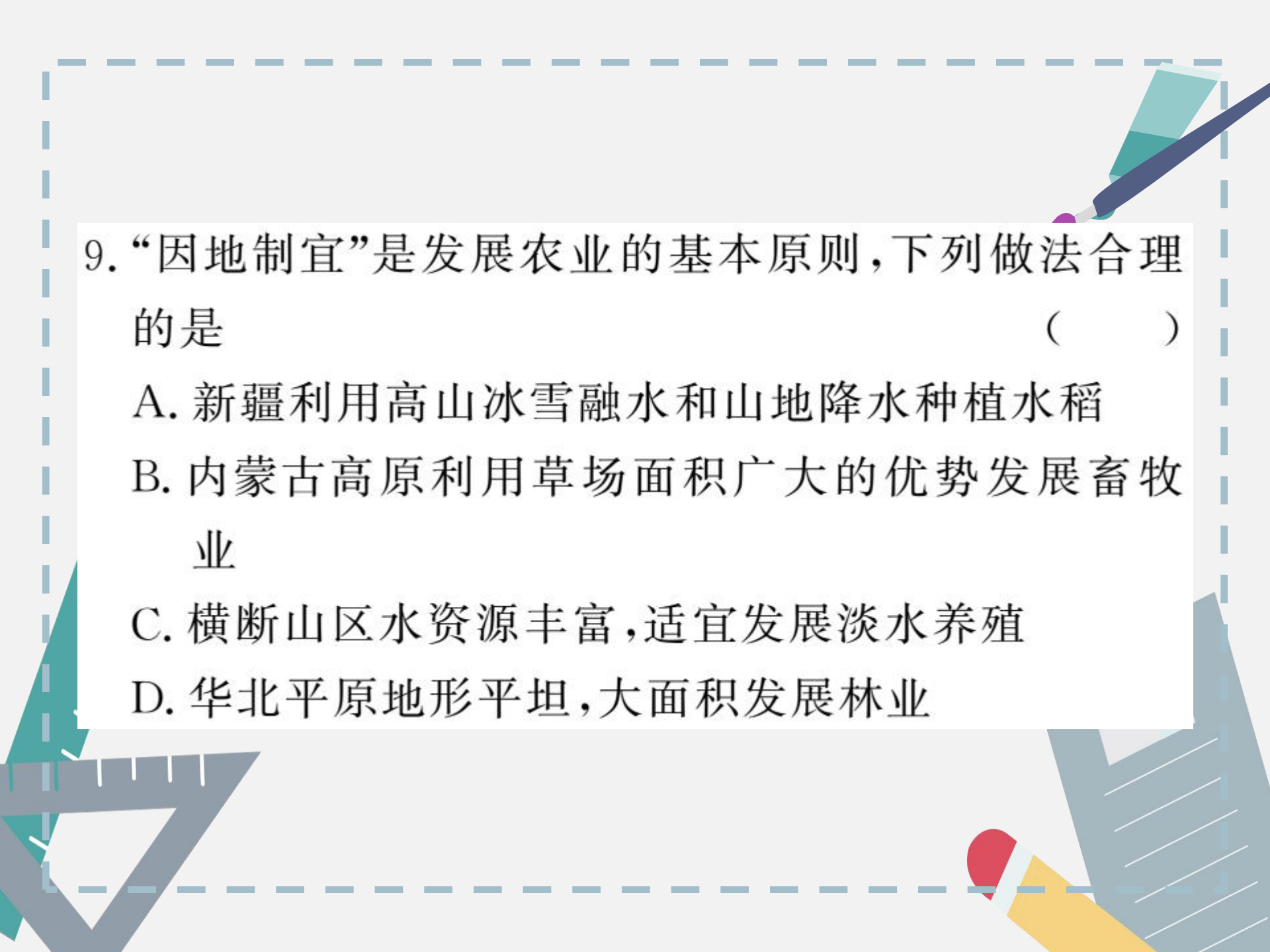
8. 我国南方地区的长江流域和华南主产区发展种植业的最优越的自然条件是 ( )

A. 高原、盆地、平原、丘陵交错分布

B. 气候湿热

C. 河湖密布,灌溉条件良好

D. 地势低平



9. “因地制宜”是发展农业的基本原则，下列做法合理的是 ( )

A. 新疆利用高山冰雪融水和山地降水种植水稻

B. 内蒙古高原利用草场面积广大的优势发展畜牧业

C. 横断山区水资源丰富，适宜发展淡水养殖

D. 华北平原地形平坦，大面积发展林业

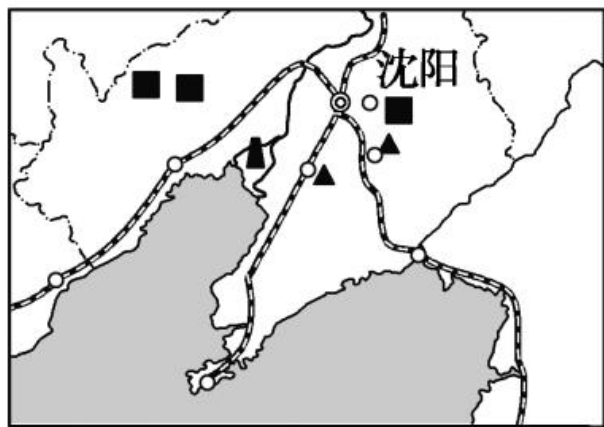
## 高频考点 3 工业

**【考情剖析】**主要考查我国工业的分布、四大工业基地的分布、特点及发展条件、高新技术产业的分布。考查时常常与交通线、资源等知识相结合,题型多以选择题、材料分析题或综合读图题等形式出现。

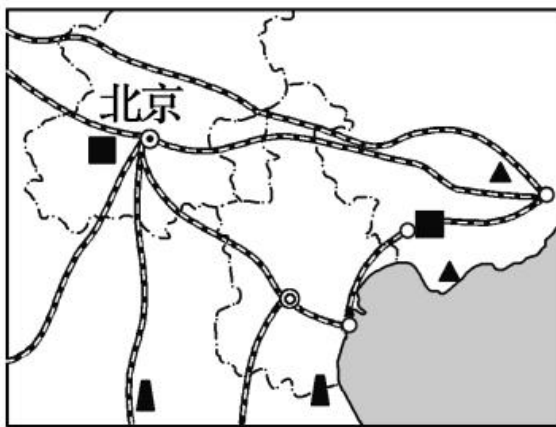
10. (赤峰市中考)关于我国工业的分布与发展的叙述不正确的是 ( )

- A. 我国主要的工业基地集中在东部沿海地区
- B. 我国高新技术产业主要分布在中西部地区
- C. 我国高新技术产业起步晚,但发展迅猛
- D. 我国工业门类齐全,正在向制造业强国迈进

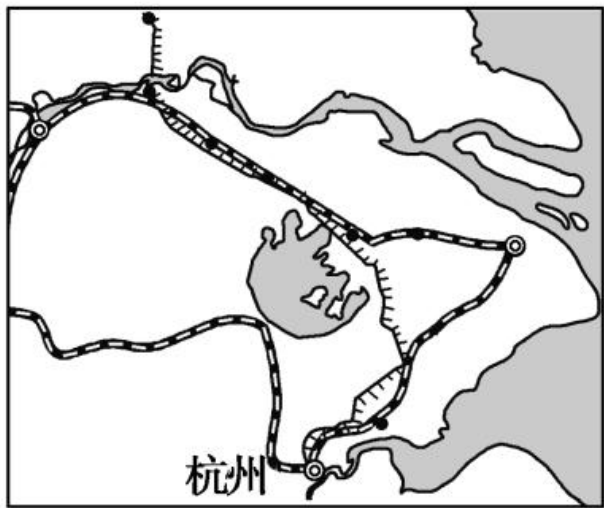
11. (南充市中考) 下图为中国四大工业基地图, 能够实现江海联运并且优势明显的是 ( )



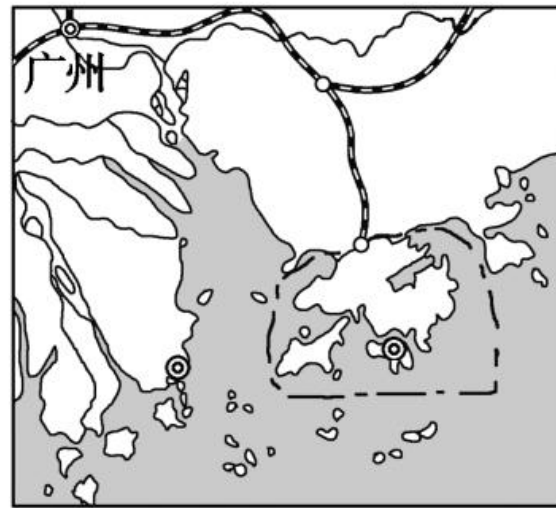
A



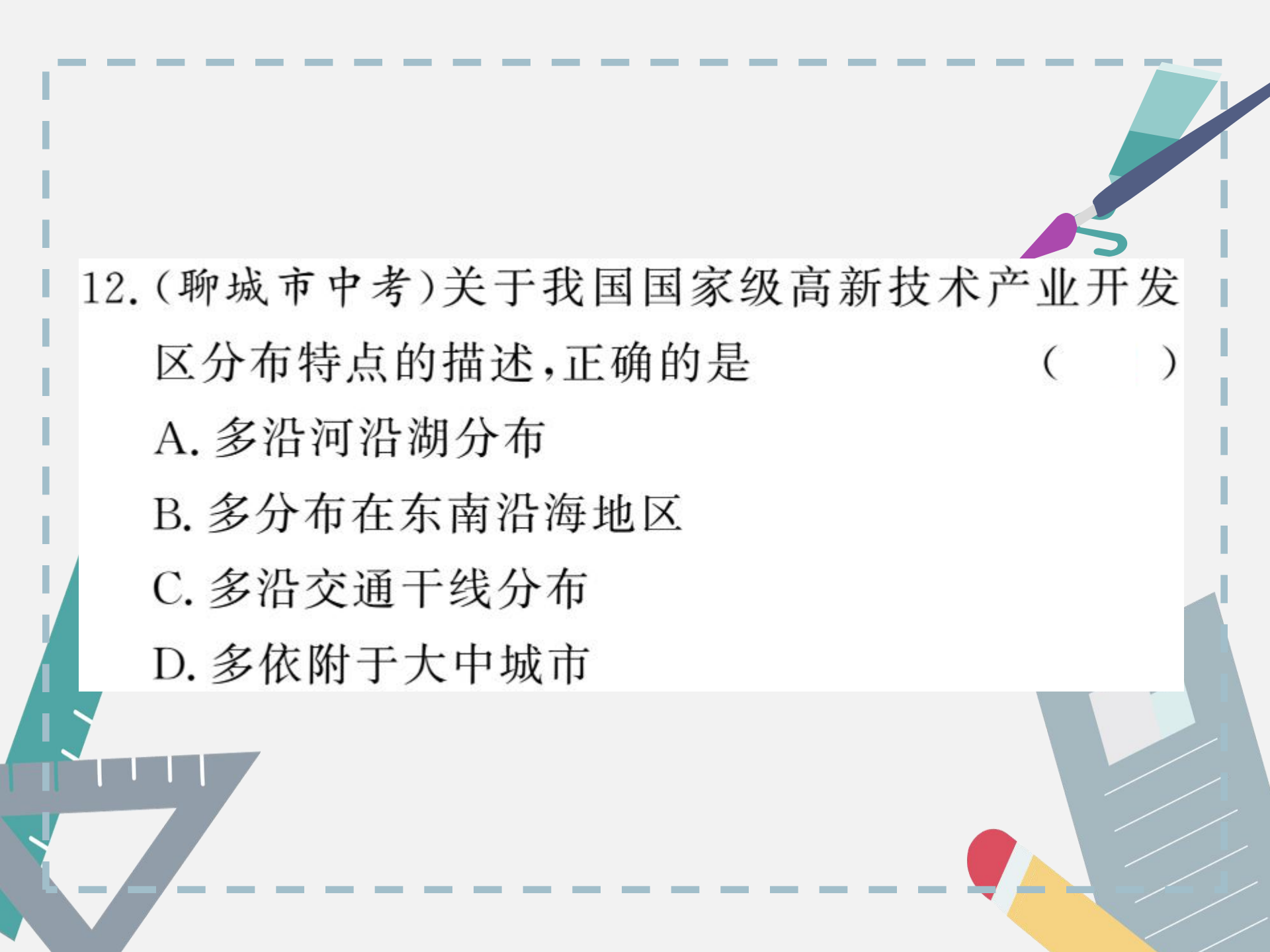
B



C



D



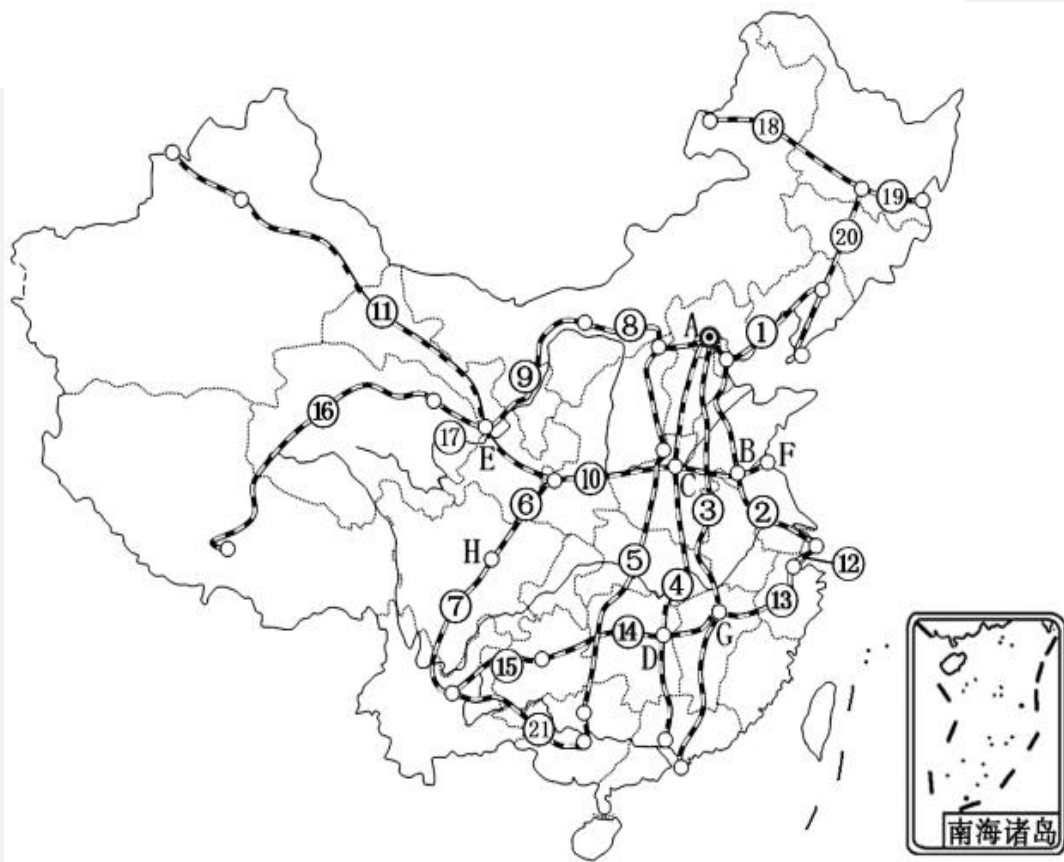
12. (聊城市中考)关于我国国家级高新技术产业开发区分布特点的描述,正确的是 ( )

- A. 多沿河沿湖分布
- B. 多分布在东南沿海地区
- C. 多沿交通干线分布
- D. 多依附于大中城市



# 识图训练

1. 读“中国主要铁路干线和铁路枢纽分布图”，写出相应地理事物的名称。



(1) 南北干线：

- ① \_\_\_\_\_ , ② \_\_\_\_\_ , ③ \_\_\_\_\_ ,  
④ \_\_\_\_\_ , ⑤ \_\_\_\_\_ , ⑥ \_\_\_\_\_ ,  
⑦ \_\_\_\_\_ , ⑧ \_\_\_\_\_ 。

(2) 东西干线：

- ⑨ \_\_\_\_\_ , ⑩ \_\_\_\_\_ ,  
⑪ \_\_\_\_\_ , ⑫ \_\_\_\_\_ , ⑬ \_\_\_\_\_ ,  
⑭ \_\_\_\_\_ , ⑮ \_\_\_\_\_ , ⑯ \_\_\_\_\_ ,  
⑰ \_\_\_\_\_ , ⑱ \_\_\_\_\_ 。



(3)其他干线:⑳ \_\_\_\_\_。

(4)铁路枢纽:

A \_\_\_\_\_, B \_\_\_\_\_, C \_\_\_\_\_,

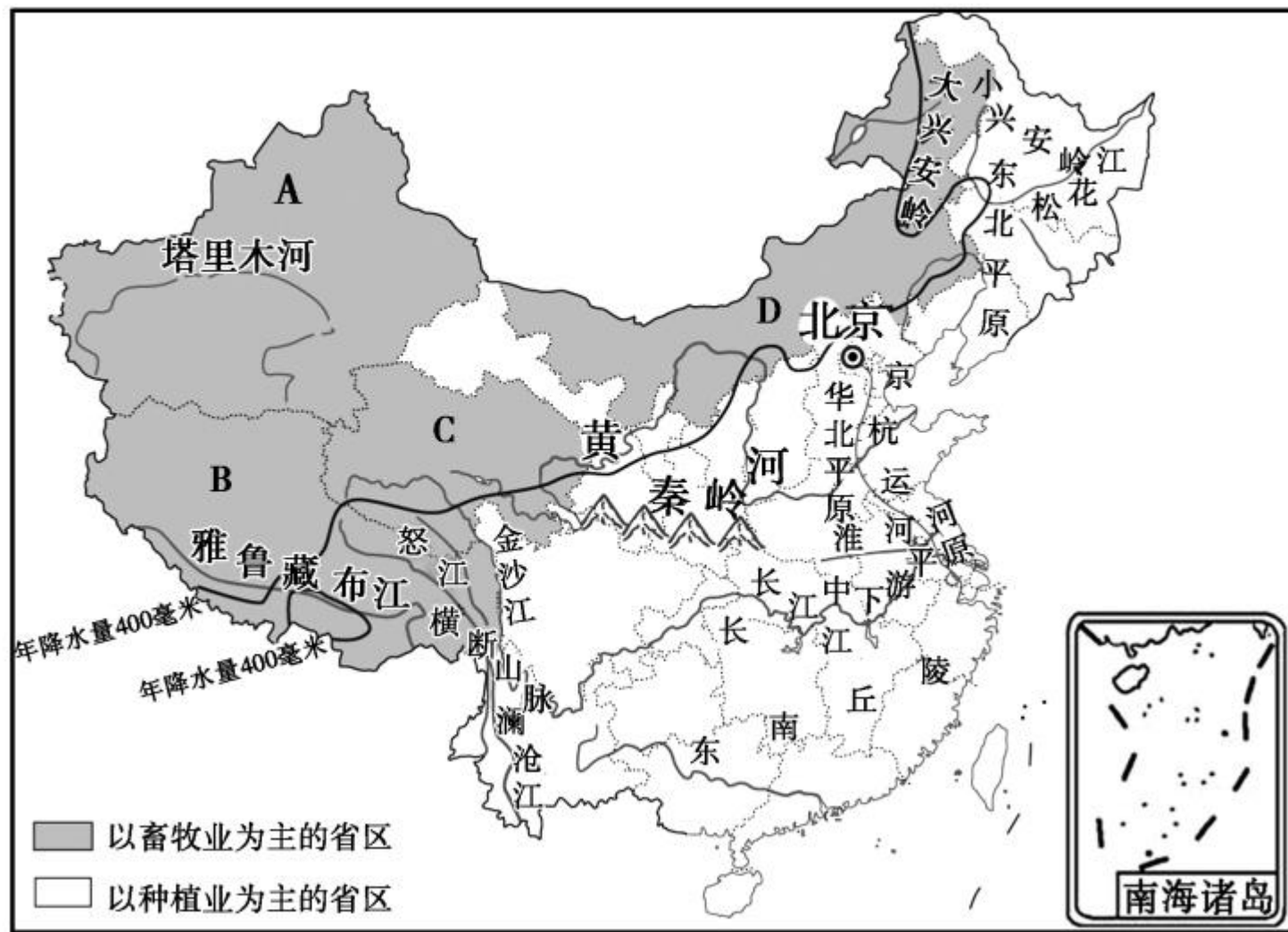
D \_\_\_\_\_, E \_\_\_\_\_, F \_\_\_\_\_,

G \_\_\_\_\_, H \_\_\_\_\_。





## 2. 我国农业的东西差异。



(1) 西部地区：

① \_\_\_\_\_ 业地位重要，有四大牧区，  
业分布在有灌溉水源的平原、河谷和绿洲。

② 四大牧区：

A \_\_\_\_\_, B \_\_\_\_\_,

C \_\_\_\_\_, D \_\_\_\_\_。

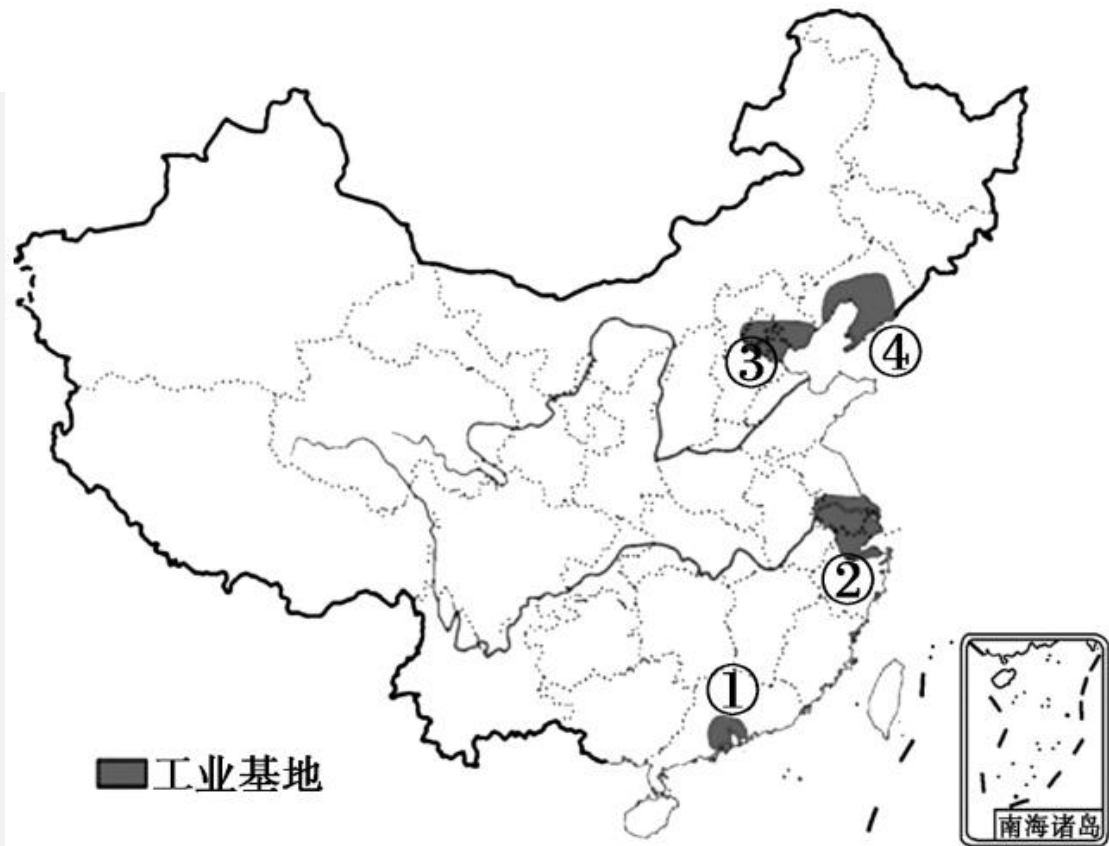
(2) 东部地区：

① 种植业：半湿润和湿润的 \_\_\_\_\_ 地区。

② 林业：\_\_\_\_\_ 的天然林区和东南部的人工林区。

③ 渔业：\_\_\_\_\_ 地区，其中南方地区淡水渔业发达。

3. 读“中国四大工业基地分布图”，写出工业基地的名称。



① \_\_\_\_\_ 工业基地，② \_\_\_\_\_ 工业基地，③ \_\_\_\_\_ 工业基地，④ \_\_\_\_\_ 工业基地。

