


## 第二课时 行政区划





## 知识梳理

### 行政区划

1. 三级行政区划：\_\_\_\_\_（自治区、直辖市、特别行政区）、\_\_\_\_\_（市、自治县）、  
\_\_\_\_\_（镇、民族乡）。自治\_\_\_\_\_、自治州、自治\_\_\_\_\_都是民族自治地方。
2. 34 个省级行政区域：\_\_\_\_\_个省、\_\_\_\_\_个自治区、\_\_\_\_\_个直辖市、\_\_\_\_\_个  
特别行政区。其中，自治区为\_\_\_\_\_自治区、新疆维吾尔自治区、\_\_\_\_\_  
\_\_\_\_\_自治区、西藏自治区、\_\_\_\_\_自治区。直辖市为北京、\_\_\_\_\_  
\_\_\_\_、\_\_\_\_\_、重庆。两个特别行政区为香港特别行政区、\_\_\_\_\_特别  
行政区。
3. 首都：\_\_\_\_\_。

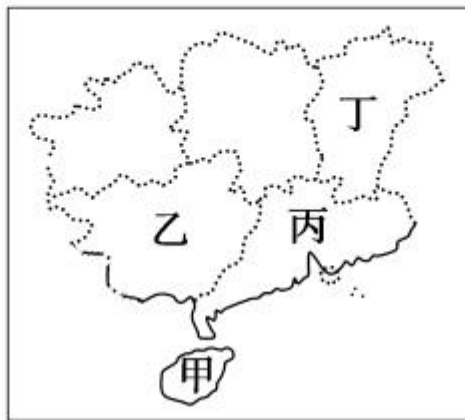


# 基础方阵

## 知识点 行政区划

1. 关于我国现行的行政区划的叙述,不正确的是 ( )
- A. 划分为省(自治区、直辖市、特别行政区)、县(市、自治县)、乡(镇、民族乡)三级
  - B. 包括 23 个省、5 个自治区、3 个直辖市
  - C. 自治区、自治州、自治县都是民族自治地方
  - D. 我国于 1997 年和 1999 年分别在香港和澳门建立了特别行政区

(遵义市中考)下图是“南方部分省区图”,据图完成 2—3 题。



2. 甲省区是 ( )
- A. 江西省                      B. 广东省                      C. 海南省                      D. 贵州省
3. 省区与行政中心对应正确的是 ( )
- A. 甲省区—南宁市                      B. 乙省区—广州市
- C. 丙省区—海口市                      D. 丁省区—南昌市

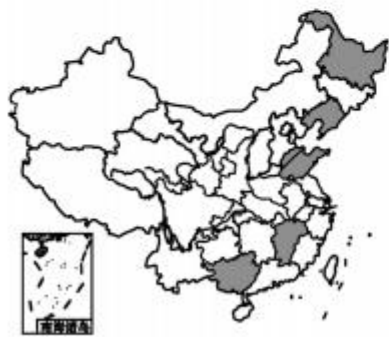
4. 下列省级行政区域中,有两个简称的是 ( )

- A. 湖北、湖南      B. 西藏、台湾      C. 山西、吉林      D. 四川、云南

5. 北回归线横穿我国的 ( )

- A. 云南、贵州、广东、福建      B. 云南、广西、广东、台湾  
C. 海南、江西、广东、广西      D. 海南、广西、广东、台湾

6. 下图深色区域代表我国自治区的分布,正确的分布图是 ( )



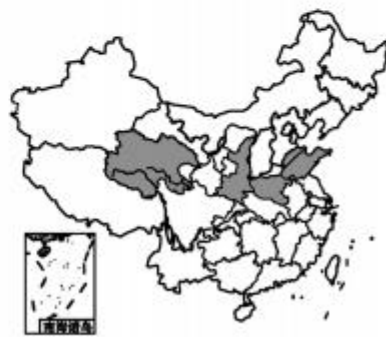
A



B



C



D

(青岛市中考)读我国直辖市轮廓图(比例尺不一致),完成7—8题。



①



②



③



④

7. 图中直辖市的序号与简称对应正确的是 ( )

A. ①——沪

B. ②——京

C. ③——津

D. ④——渝

8. 四个直辖市中,临海的是 ( )

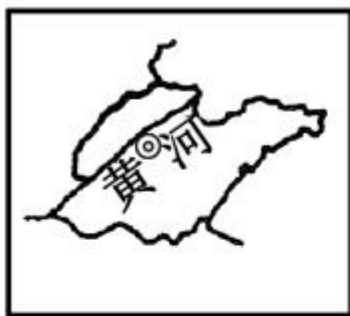
A. ①和②

B. ②和③

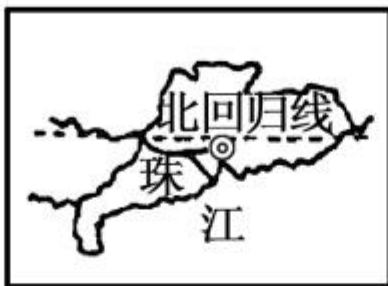
C. ③和④

D. ①和④

9. 我国最先看到日出的省是 ( )



①



②



③



④

A. ①

B. ②

C. ③

D. ④

10. (湘潭市中考)2019年2月4日,央视春晚向全国观众奉献了一场视听盛宴。分会场长春、井冈山、深圳所在省级行政区的简称依次是 ( )

A. 吉、赣、粤

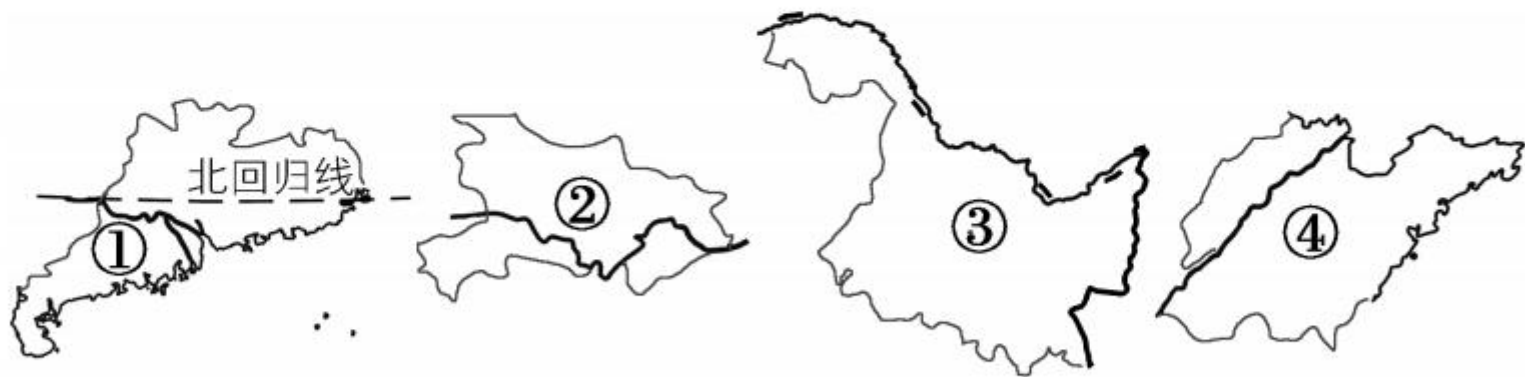
B. 黑、赣、桂

C. 辽、鄂、粤

D. 吉、晋、澳

# B 整合阅兵

11. (龙东地区中考) 下列四个省, 纬度由高到低的顺序是 ( )



A. ①②④③

B. ①④②③

C. ③④②①

D. ③②④①






12. 下列关于我国省级行政区的说法,错误的是

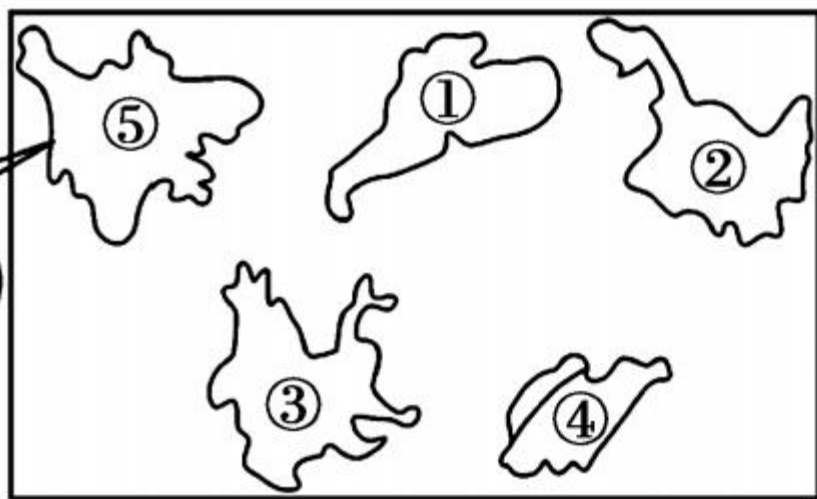
( )

- A. 邻国最多的省级行政区域——新
- B. 跨经度最广的省级行政区域——内蒙古
- C. 每天最先看到日出的省级行政区域——台
- D. 与三个自治区相邻的省级行政区域——甘



13. 在做中国政区拼图游戏时,与⑤省南侧相邻的省是 ( )

右边四个省哪一个能与我拼在一起呢?



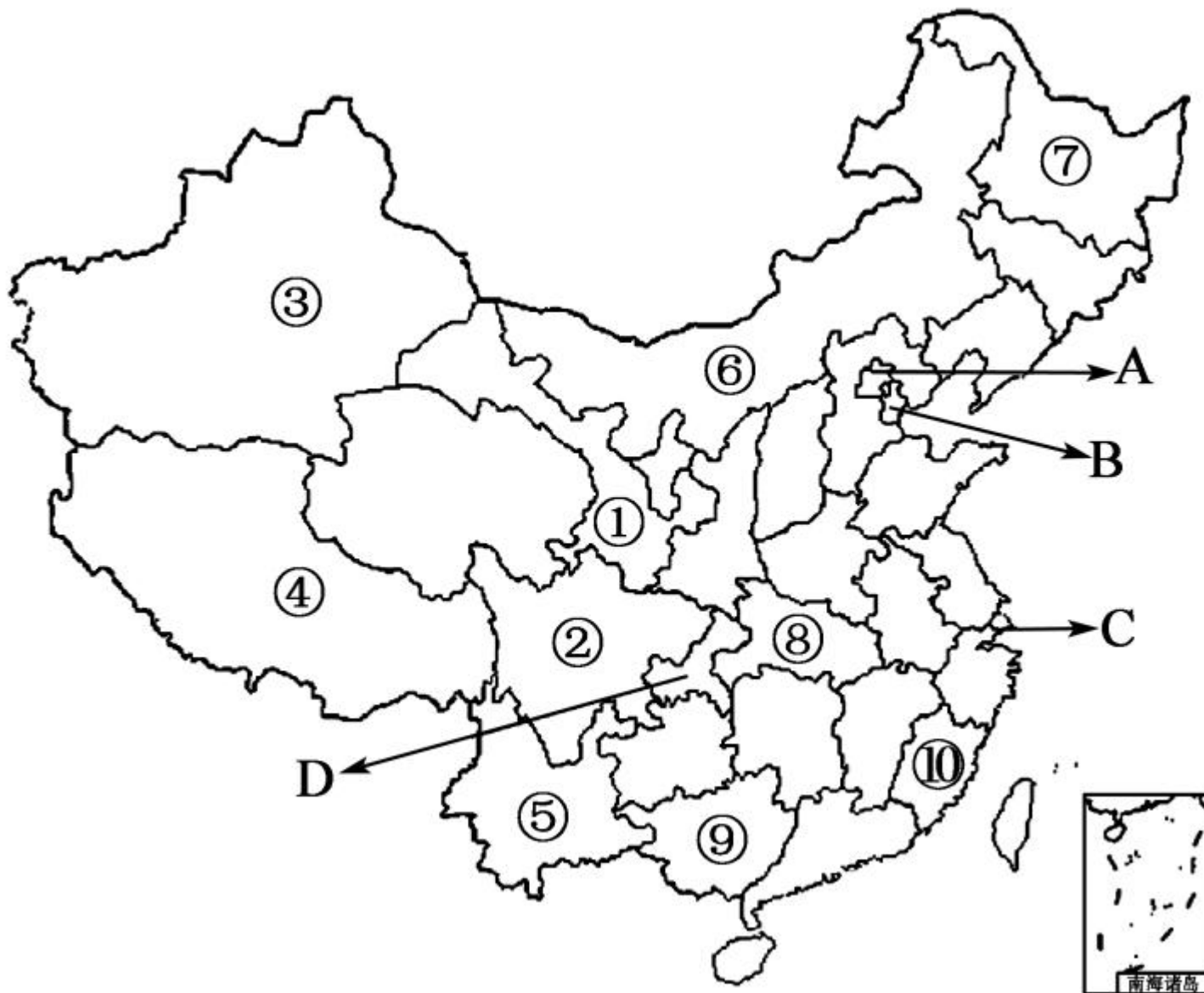
A. ①

B. ②

C. ③

D. ④

14. 读“中国政区图”，回答下列问题。





(1) 写出下列数码所代表的省区的名称。

① \_\_\_\_\_, ② \_\_\_\_\_, ③ \_\_\_\_\_  
\_\_\_\_\_。

(2) 写出下列数码所代表的省区的简称。

④ \_\_\_\_\_, ⑤ \_\_\_\_\_, ⑥ \_\_\_\_\_。

(3) 写出下列数码所代表的省区行政中心的名称。

⑦ \_\_\_\_\_, ⑧ \_\_\_\_\_, ⑨ \_\_\_\_\_,  
⑩ \_\_\_\_\_。

(4) 写出我国四大直辖市的名称。

A \_\_\_\_\_, B \_\_\_\_\_, C \_\_\_\_\_,  
D \_\_\_\_\_。

其中, \_\_\_\_\_ 是我国的首都, \_\_\_\_\_ 面积最大。(填名称)

(5) 在图中注明两个特别行政区的名称。

(6) ①—⑩省区中, 属于自治区的有 \_\_\_\_\_。  
(填数码)

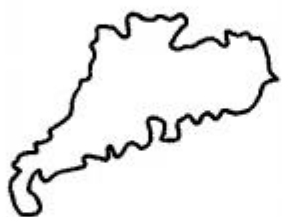


## 开放探究

15. 读省级行政区域轮廓图,完成下列各题。



A



B



C



D

(1) A 为我国东北的 \_\_\_\_\_ 省,简称为 \_\_\_\_\_ ,  
其行政中心是 \_\_\_\_\_ ,与其陆上相邻的邻国  
是 \_\_\_\_\_ (国家)。

(2) B 为位于我国南部沿海地区的 \_\_\_\_\_ 省，简称是 \_\_\_\_\_，其行政中心是 \_\_\_\_\_，改革开放初期建立的两个经济特区——深圳和珠海，分别与 \_\_\_\_\_ 特别行政区和 \_\_\_\_\_ 特别行政区相邻。

(3) C 为 \_\_\_\_\_ 省，其简称是 \_\_\_\_\_，其行政中心是 \_\_\_\_\_，因四季如春，被誉为“春城”，与该省相邻的东南亚国家有 \_\_\_\_\_、老挝、\_\_\_\_\_ 三个国家。

(4) D 为东部沿海的 \_\_\_\_\_ 省，其行政中心是 \_\_\_\_\_，其简称来源于春秋战国时期，此地为 \_\_\_\_\_ 所在地。











