



## 第二课时

# 蓬勃发展的高新技术产业





## 知识梳理

### 蓬勃发展的高新技术产业

1. 我国主要的高新技术产业：主要包括电子信息、\_\_\_\_\_工程、新能源和新材料等。
2. 我国的高新技术产业分布：国家级高新技术产业开发区多依附于\_\_\_\_\_城市；东部地区高新技术产业发展速度远高于中、西部地区，\_\_\_\_\_、珠江三角洲、环渤海地区成为高新技术产业聚集的地区。
3. 中国的“硅谷”：\_\_\_\_\_。

# A 基础方阵

**知识点** 蓬勃发展的高新技术产业

1. 下面属于高新技术产业产品的是 ( )



A



B



C



D

2. 我国高新技术产业发展最为迅速的地区是 ( )


A. 京津唐地区

B. 东南沿海城市

C. 沪宁杭地区

D. 东部沿海地带





6. (广安市中考)中美贸易战,美国打压华为说明尖端核心的技术是买不来的,必须也只能依靠我们自己来获得。我国历来重视科技的发展,国务院批准的我国第一个国家级高新技术产业开发区是 ( )

A. 台湾新竹科技园

B. 长江三角洲

C. 珠江三角洲

D. 中关村科技园区

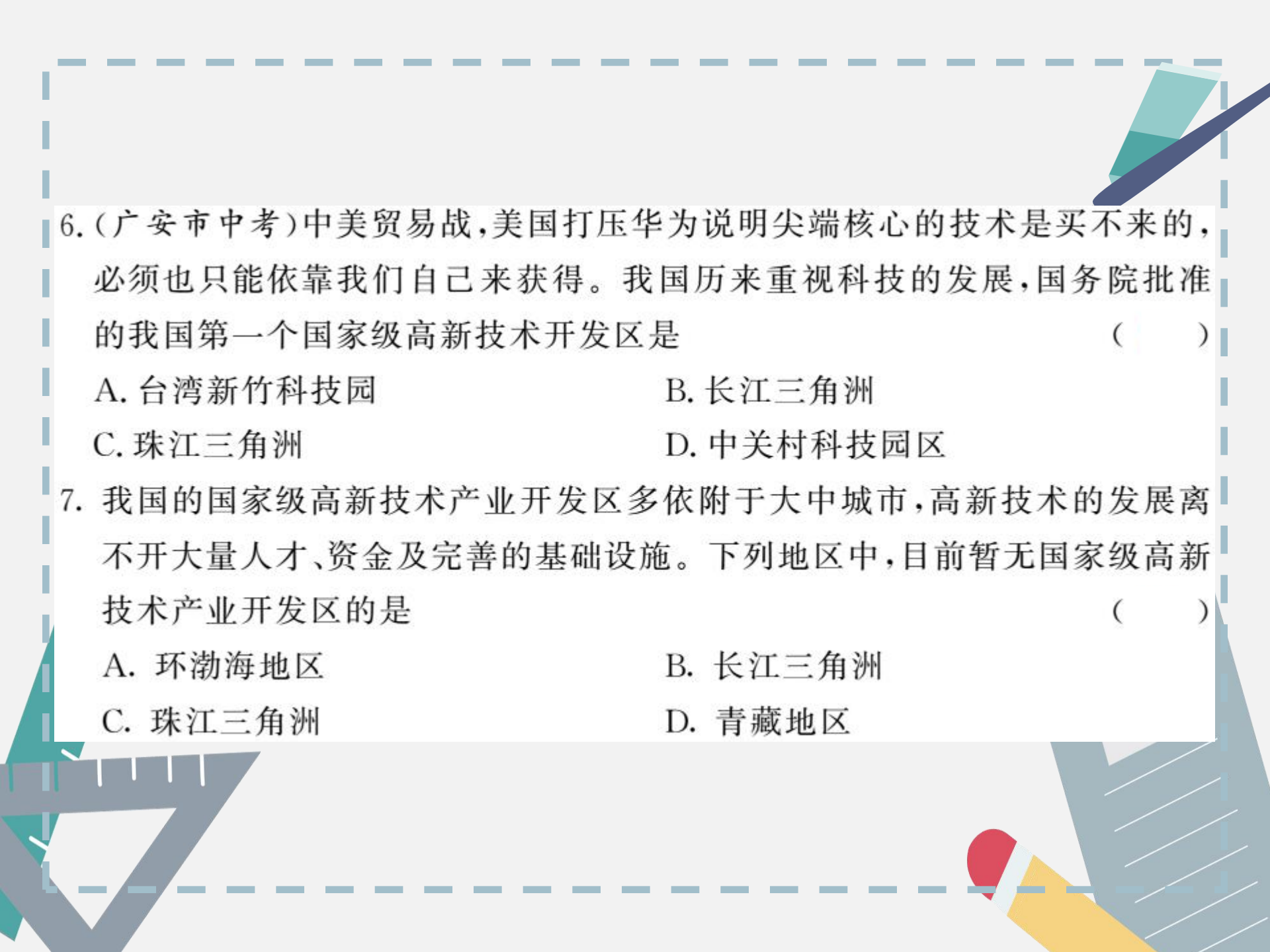
7. 我国的国家级高新技术产业开发区多依附于大中城市,高新技术的发展离不开大量人才、资金及完善的基础设施。下列地区中,目前暂无国家级高新技术产业开发区的是 ( )

A. 环渤海地区

B. 长江三角洲

C. 珠江三角洲

D. 青藏地区



读下图,完成 8—9 题。



8. 有关高新技术产业分布的叙述,正确的是 ( )
- A. 多依附于大中城市      B. 多依附于中小城市
- C. 东部发展慢              D. 中西部发展快

9. 下列地区中,不是高新技术产业聚集区的是( )

A. 西北内陆区

B. 环渤海地区

C. 长江三角洲

D. 珠江三角洲

10. 某外商欲在长江三角洲地区建立计算机软件基地,选择地址时应优先考虑( )

①邻近原料产地 ②靠近市场 ③有高素质的科技人员 ④交通便利,环境优美

A. ①②

B. ③④

C. ①③

D. ②④

# B 阅兵

11. (衡阳市中考) 改革开放 40 多年来, 中国取得了巨大的成就。有“嫦娥”奔月、“神舟”飞天、“蛟龙”入海, 还有高速铁路、移动支付、5G 网络等。无人超市的出现, 大大方便了我们的生活。无人超市是顾客通过手机扫码并通过人脸识别后进出超市购物。无人超市的出现, 主要是因为 ( )
- A. 劳动力不足                      B. 人们生活水平的提高  
C. 消费群体的尝鲜意识          D. 高新技术产业的发展



12. (河南省中考)我国高新技术企业主要分布在 ( )

A. 东北地区

B. 西部内陆地

C. 中部地区

D. 东部沿海地区

13. (兰州市中考)近年来,我国信息产业发展迅速,影响该产业布局的主导因素是 ( )

A. 矿产资源

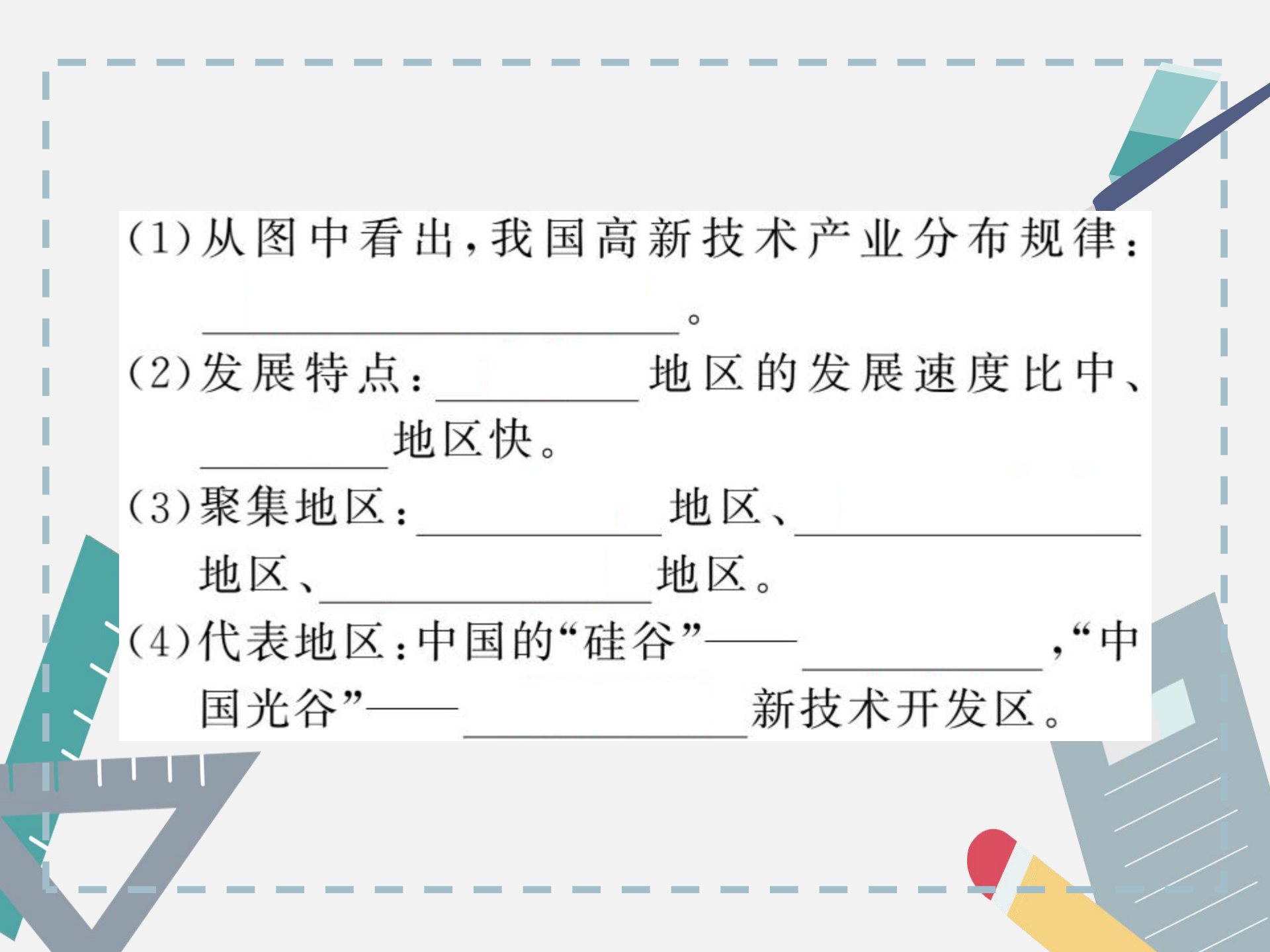
B. 能源

C. 劳动力

D. 科学技术

14. 读“我国高新技术产业分布图”，完成下列问题。





(1)从图中看出,我国高新技术产业分布规律:

\_\_\_\_\_。

(2)发展特点:\_\_\_\_\_地区的发展速度比中、  
\_\_\_\_\_地区快。

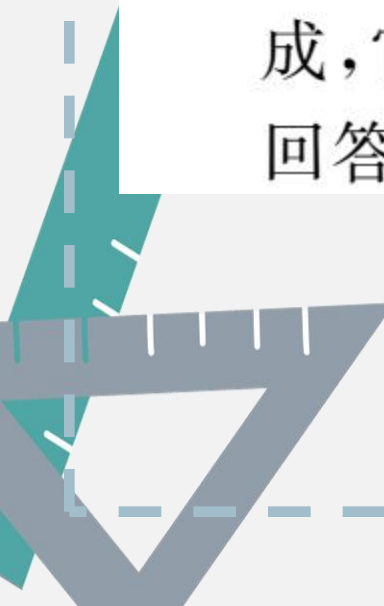
(3)聚集地区:\_\_\_\_\_地区、\_\_\_\_\_  
地区、\_\_\_\_\_地区。

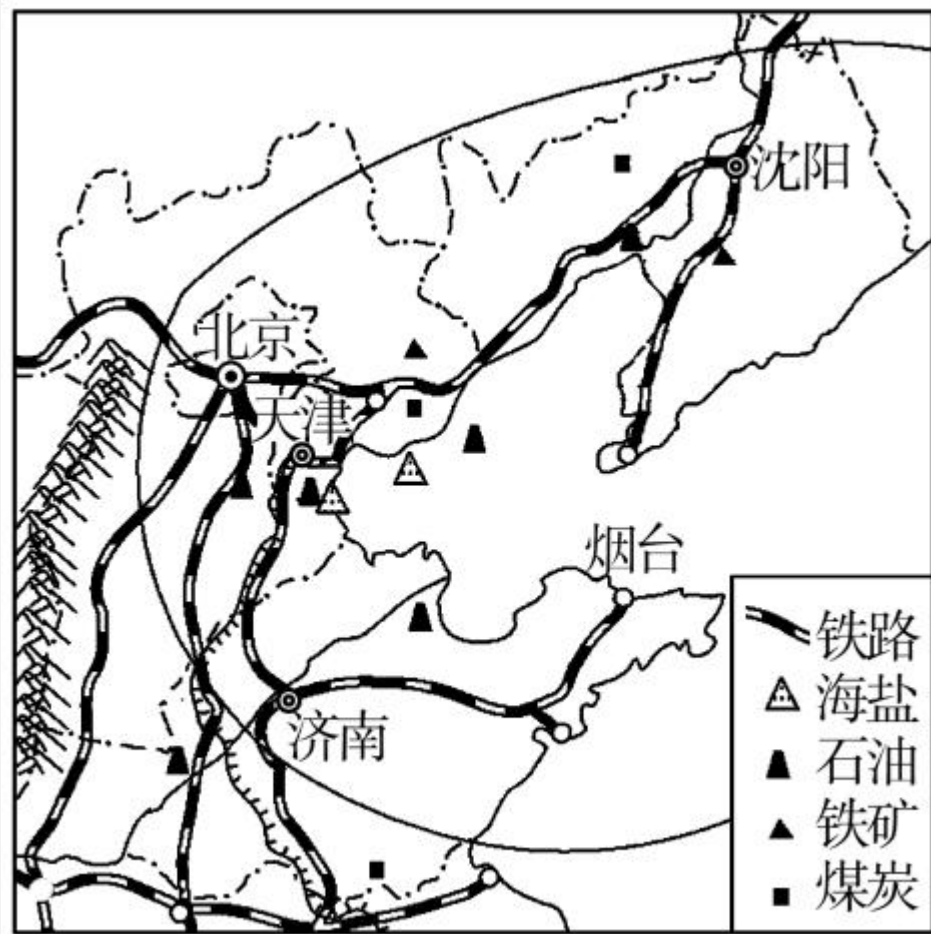
(4)代表地区:中国的“硅谷”——\_\_\_\_\_,“中  
国光谷”——\_\_\_\_\_新技术开发区。



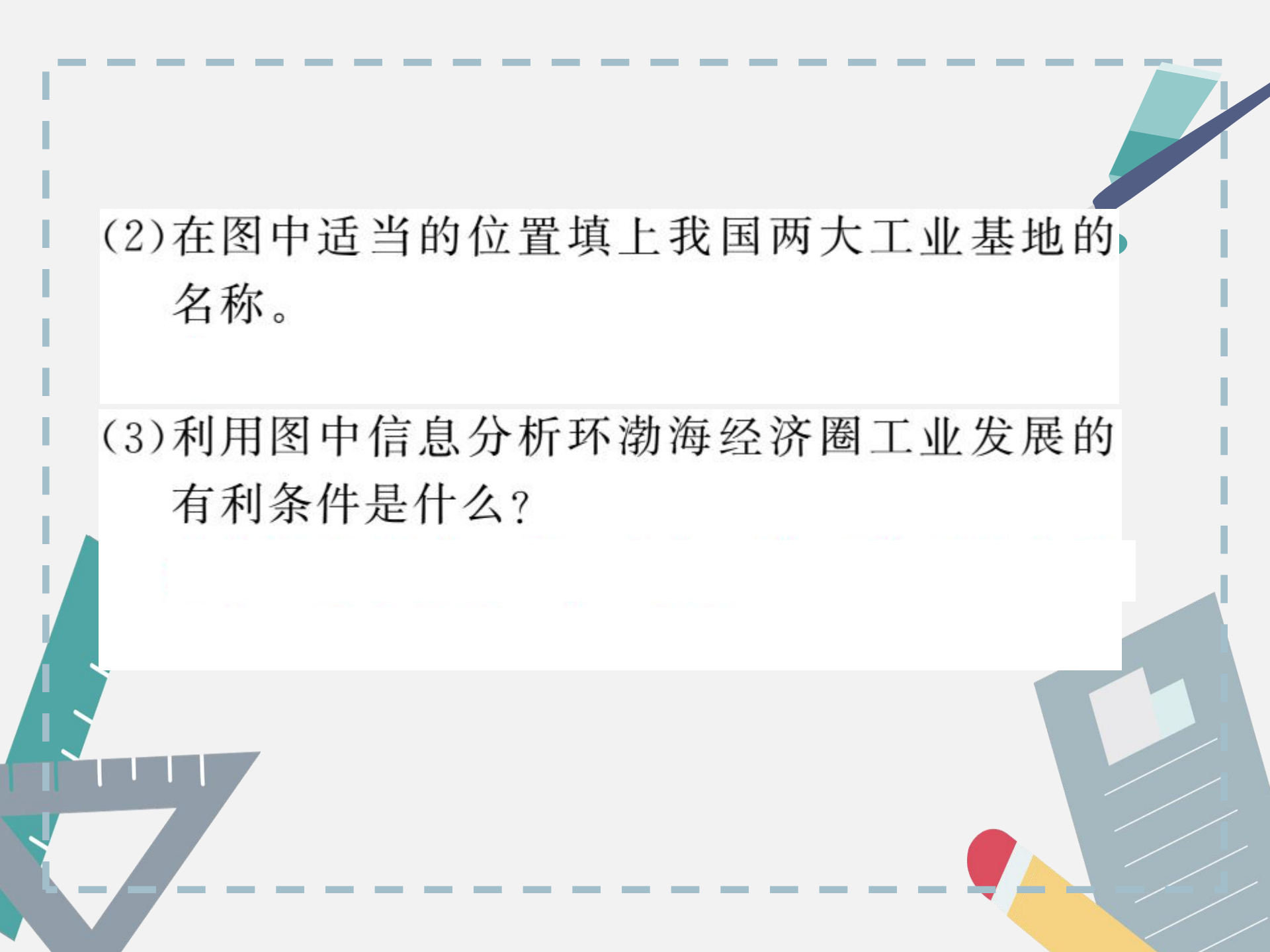
## **开放探究**

15. 继长江三角洲、珠江三角洲两大经济地带之后,我国又一工业密集区——环渤海经济圈已初步形成,它将带动我国北方地区经济迅速发展。读图回答下列问题。





(1) 写出环渤海经济圈所包含的两个直辖市和三个省区。



(2)在图中适当的位置填上我国两大工业基地的名称。

(3)利用图中信息分析环渤海经济圈工业发展的有利条件是什么？

(4) 图中最适宜发展高新技术产业的城市是\_\_\_\_\_。  
除本区外,我国高新技术产业区还集中分布在\_\_\_\_\_地区和\_\_\_\_\_地区。

(5) 沈阳和济南两座城市在一次经贸交流洽谈中达成一系列协议,沈阳的一大批重工机械将运往济南,请你设计出两条恰当的交通路线。











