




第二课时

我国铁路干线的分布





知识梳理

我国铁路干线的分布

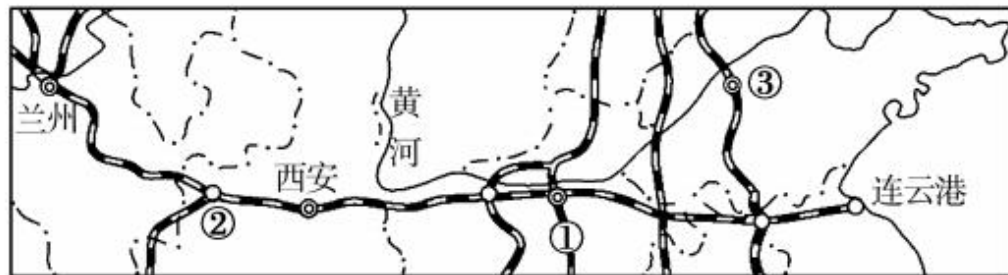
1. 在各种交通运输方式中，_____运输是我国最重要的交通运输方式之一。
2. 从全国来看，受_____和_____的影响，东部铁路建设比较_____, 发展速度比较_____, 铁路网_____；西部铁路建设比较_____, 发展速度比较_____, 铁路网_____。
3. 从铁路的基本延伸方向来看，我国主要铁路干线可以分为_____干线和_____干线两大组。南北铁路干线自东向西主要有京沪线、_____线、京哈—京广线、_____线、宝成—成昆线，东西铁路干线自北向南主要有京包—包兰线、_____线、沪杭—_____—湘黔—_____线，青藏地区有_____线。
4. 我国的高铁主要有_____高铁、京沪高铁、_____高铁和京广高铁。
5. 在铁路干线交会处，多形成重要的铁路枢纽，如_____、上海、_____等。



基础方阵

知识点 我国铁路干线的分布

1. 下列对我国交通运输网分布的基本格局,叙述正确的是 ()
A. 东部稠密,西部稀疏
B. 北方稠密,南方稀疏
C. 东部稀疏,西部稠密
D. 全国分布均匀
2. 属于我国东西铁路干线的是 ()
A. 京九线
B. 陇海—兰新线
C. 宝成一成昆线
D. 京沪线
3. 读“我国局部铁路线示意图”,下列说法正确的是 ()



- A. 沿陇海线可以直达乌鲁木齐市
- B. ①铁路与陇海线相会于徐州
- C. ②城市是宝成铁路线的起点
- D. ③城市位于京九铁路线上

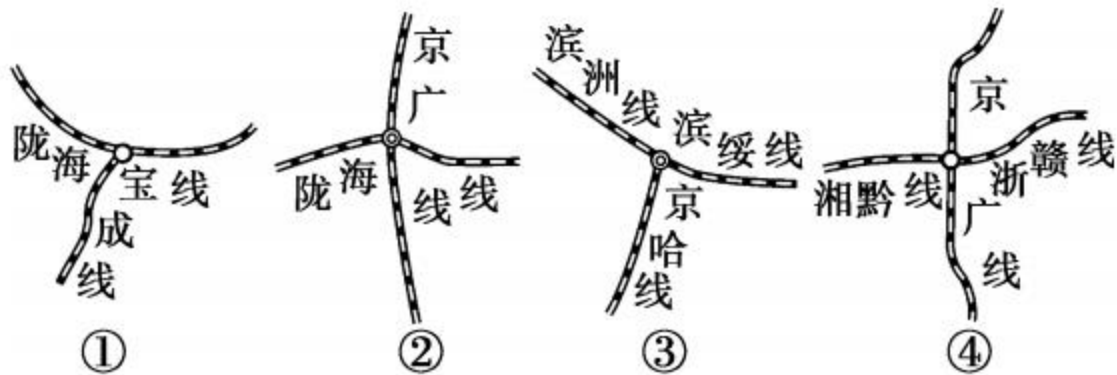
4. 暑假期间,南昌的小东想坐火车至西安参观秦陵兵马俑,依次经过的最便捷铁路干线是 ()

A. 京九线、京哈线 B. 京广线、京沪线 C. 京广线、湘黔线 D. 京九线、陇海线

5. 陇海铁路与京沪线、京广线相交的铁路枢纽分别是 ()

A. 兰州、郑州 B. 徐州、郑州 C. 郑州、株洲 D. 徐州、株洲

6. 读“我国铁路枢纽图”,四个枢纽城市对应正确的是 ()



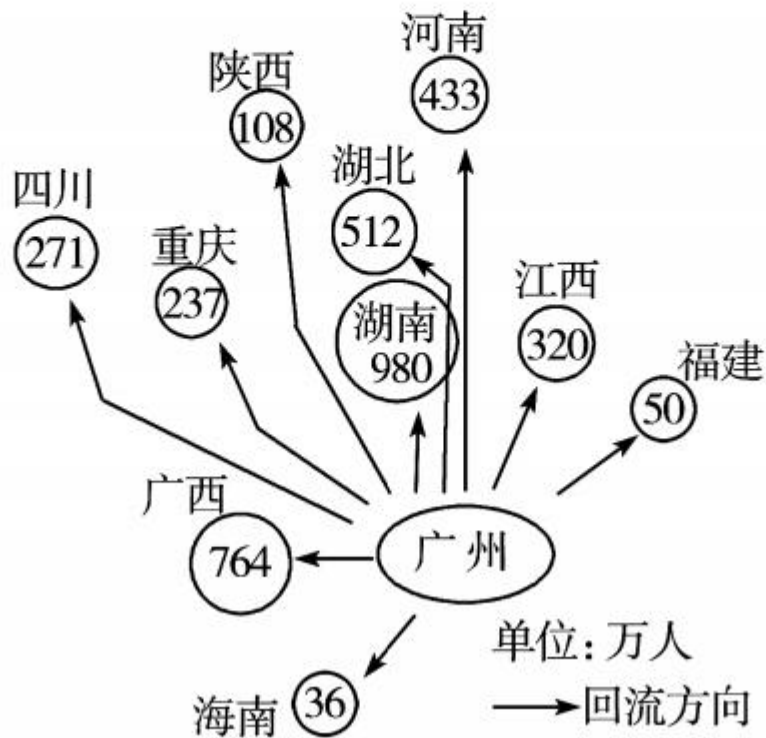
A. ①—兰州

B. ②—郑州

C. ③—长春

D. ④—长沙

(滨州市中考)如图示意的是 2015 年我国局部区域的春运规模(数字代表由广州乘火车的春节回流总人数)。读图并结合所学知识,回答 7—8 题。



7. 依图可推测,该区域春运期间压力最大的铁路干线应是 ()

A. 京广线 B. 焦柳线 C. 浙赣线 D. 陇海线

8. 春运压力的存在说明每年有大量青壮年劳动力外出务工,造成这种现象的主要原因是 ()

A. 交通运输能力有待提高

B. 区域经济发展不均衡

C. 城市化进程过快

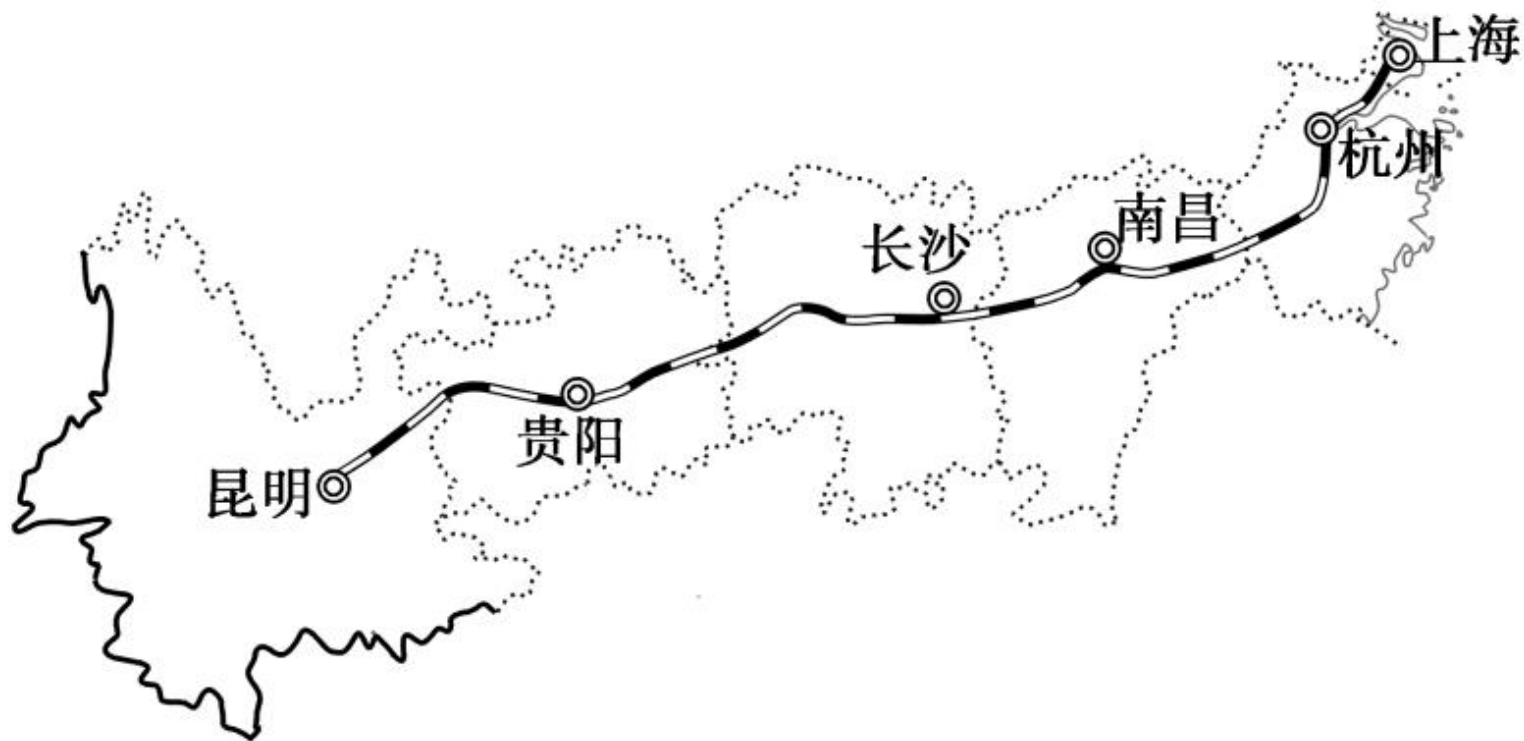
D. 地域环境质量差别大

B



整合阅兵

(安徽省中考)上海某中学八年级学生暑假计划乘沪昆高铁去云南研学旅行。读“沪昆高铁线路示意图”,完成下面9—10题。



9. 沪昆高铁 ()

- A. 沿途经过长江中下游平原、东南丘陵和云贵高原
- B. 连接了五个省级行政区, 利于我国东西部的联系
- C. 与京广线、京九线、陇海线等南北铁路干线交会
- D. 跨越长江干流, 改变了我国铁路干线的分布格局

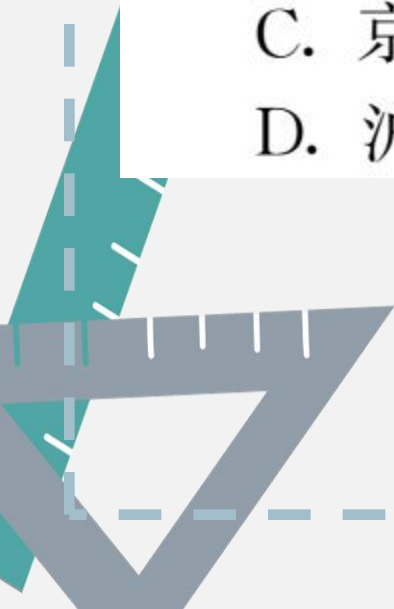
10. 针对此次研学目的地, 同学们制定的研学目标不可行的是 ()

- A. 调查高铁对当地人们出行方式的影响
- B. 考察丽江古城旅游业发展的有利条件
- C. 比较昆明和上海居民日常饮食的异同
- D. 探究泥石流和台风等自然灾害的成因

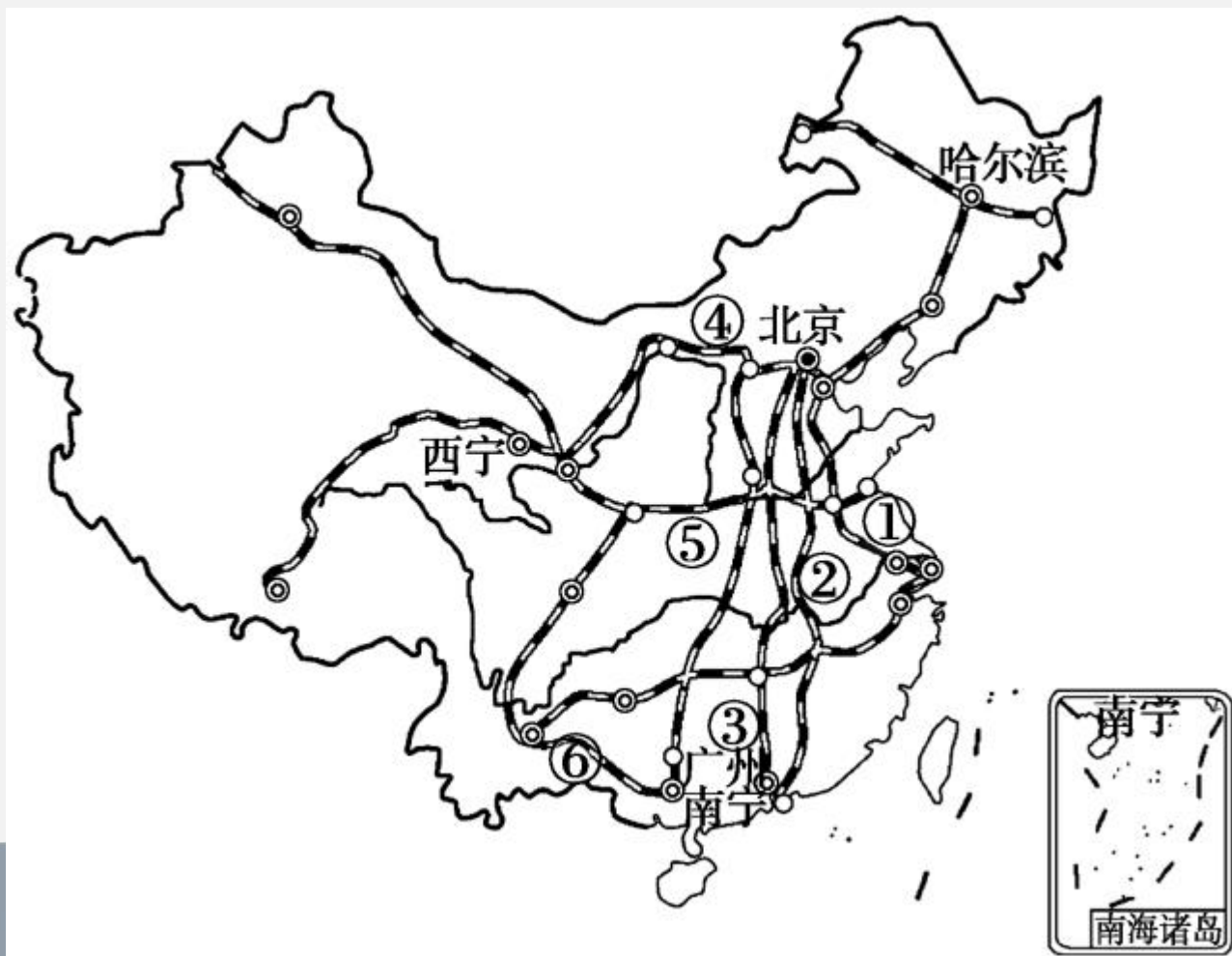


11. 我国横跨黄河、长江干流的铁路干线，自东向西依次是 ()

- A. 京九线、京沪线、京广线、宝成线
- B. 京沪线、京九线、京广线、焦柳线
- C. 京沪线、京广线、京九线、成昆线
- D. 沪杭线、浙赣线、湘黔线、陇海线



12. 读“我国主要铁路干线示意图”，回答问题。





(1) 写出图中数字表示的铁路干线名称。

南北向：② _____，⑥ _____。

东西向：⑤ _____。

(2) 请在图中适当的位置用符号“▲”标出徐州。

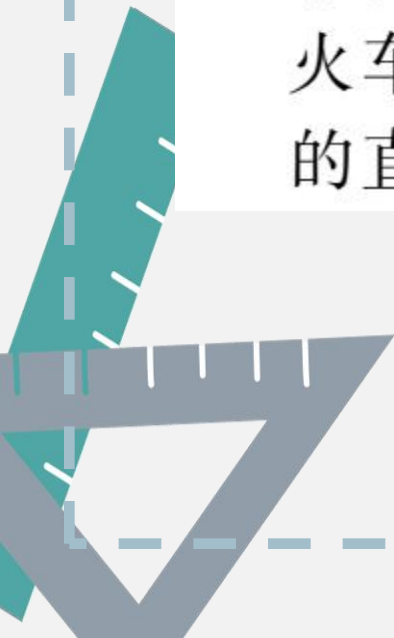
(3) 世界海拔最高、线路最长的高原铁路是 _____
_____ 铁路，请在图中相应的位置标注其名称。



(4)将新疆的长绒棉从乌鲁木齐运到上海,经过最近的铁路线依次是: _____、_____

_____、_____。

(5)家住济南的小明要去参观哈尔滨冰雕展,应乘火车走_____线和_____线,二者交会处的直辖市是_____市。







开放探究

13. 读“北京—苏州、上海、杭州”的部分列车时刻表，回答下列问题。

T85	T31	T21	1461	车次	
北京 ↓ 苏州	北京 ↓ 杭州	北京 ↓ 上海	北京 ↓ 上海	自北京起 (千米)	站名
17:01	15:50	18:00	15:18	0	北京
20:34	↓	↓	19:55	376	德州
21:46	20:21	22:31	21:36	479	济南
2:40	1:16	3:26	5:06	979	蚌埠
4:35	↓	↓	7:48	1160	南京
6:27	↓	↓	10:53	1337	无锡
6:54	↓	↓	11:24	1379	苏州
	5:45	↓	↓	1458	上海西
	↓	8:00	12:27	1463	上海



(1) T21 次列车的始发站是 _____, 终点站是 _____, 它与 _____ 次列车的始发站和终点站相同; 两次列车相比, _____ 次列车快。

(2) 从蚌埠到上海, 需运行 _____ 千米, 最少需花费时间 _____。

(3) 一位采购员从北京出发, 第二天需到上海, 途中还要在无锡买一批丝织品, 他应该如何选择车次?











