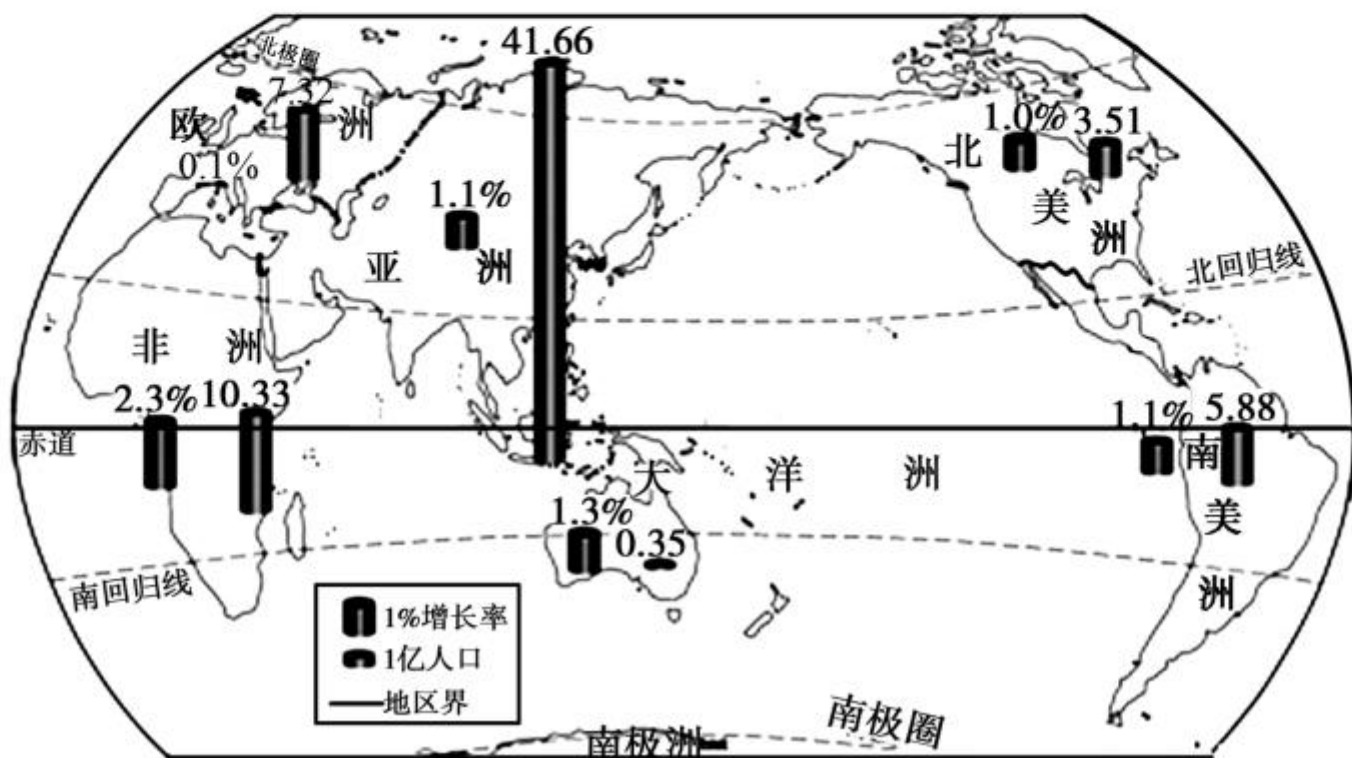




第四、五章 章末过关自测

## 一、单项选择题(每小题 2 分,共 30 分)

下图为“世界各大洲或地区人口数(2010 年)和平均人口增长率(2005~2010 年)图”,读图完成 1~2 题。



1. 下列大洲中,人口自然增长率最高的是 ( )

A. 欧洲    B. 大洋洲    C. 亚洲    D. 非洲

2. 人口数量过多,增长过快,有可能带来的问题是

( )

A. 社会抚养老年人的负担加重

B. 国防兵源不足

C. 饥饿贫困

D. 劳动力短缺

(2017 年济宁市)读漫画“苦难的母亲”，完成 3~4 题。



3. 漫画反映的问题是 ( )

- A. 世界人口分布不均衡
- B. 世界人口增长过快
- C. 环境污染严重
- D. 社会抚养老年人负担重

4. 漫画反映的问题主要出现在下列哪些大洲 ( )

- ①亚洲    ②欧洲    ③非洲    ④北美洲    ⑤南美洲
- ⑥大洋洲

- A. ①②③    B. ④⑤⑥    C. ①③⑤    D. ②④⑥

5. 下列地区中属于人口稠密地区的有 ( )

- ①亚洲的东部和南部    ②亚洲的南部和西部    ③

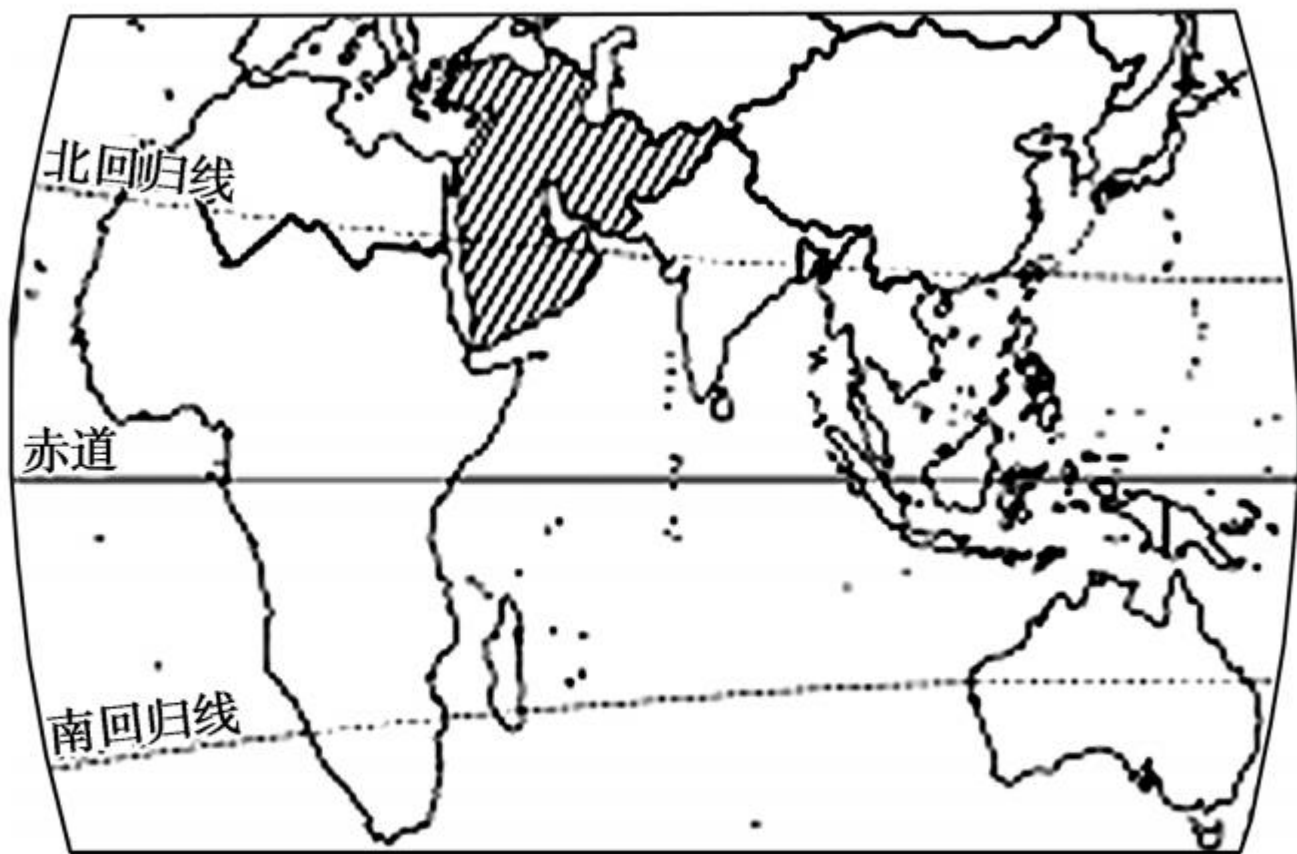
欧洲 ④北美洲的东部 ⑤非洲的北部 ⑥南美洲的亚马孙河流域 ⑦大洋洲

A. ①③④ B. ②⑤⑥ C. ②③⑦ D. ③④⑥

6. 世界上信徒最多和流传最广的宗教主要集中分布在 ( )

A. 欧洲、非洲和大洋洲 B. 北美洲、南美洲、亚洲  
C. 欧洲、美洲、大洋洲 D. 亚洲、欧洲和北美洲

7. 关于图中画斜线部分的正确说法是 ( )



- ① 主要为白色人种      ② 主要为黄色人种      ③ 居民大多信仰伊斯兰教      ④ 居民大多信仰基督教      ⑤

居民主要讲阿拉伯语 ⑥居民主要讲英语

A. ①③⑥ B. ②③⑤ C. ②④⑥ D. ①③⑤

8. 有关世界三大宗教的叙述,正确的是 ( )

A. 基督教的经典为《圣经》

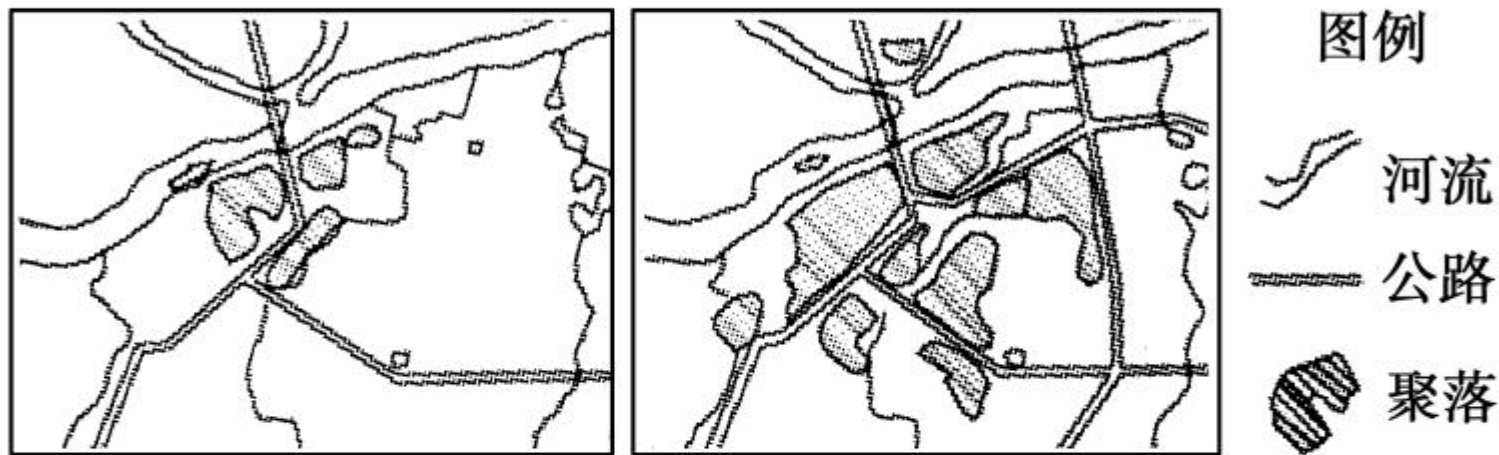
B. 伊斯兰教是世界上流传最广的宗教

C. 佛教教徒被称为穆斯林

D. 世界三大宗教都发源于南亚



读“某聚落形成与发展的演变过程图”，完成 9～10 题。



9. 该聚落最早形成的主要影响因素是 ( )
- A. 资源    B. 人口    C. 气候    D. 河流
10. 有关聚落形成与发展的叙述,错误的是 ( )
- A. 用地规模不断变大    B. 人口数量越来越多
- C. 聚落仅沿河流扩展    D. 公路运输越来越发达

11. (2017年贵港市)下列民居建筑与其地点搭配不当的是 ( )

A. 窑洞—贵阳

B. 竹楼—西双版纳

C. 吊脚楼—湘西

D. 土楼—福建

12. 埃及卢克索神庙是世界文化遗产,每年都有几十万游客从世界各地慕名而来。下列行为不利于保护神庙的是 ( )

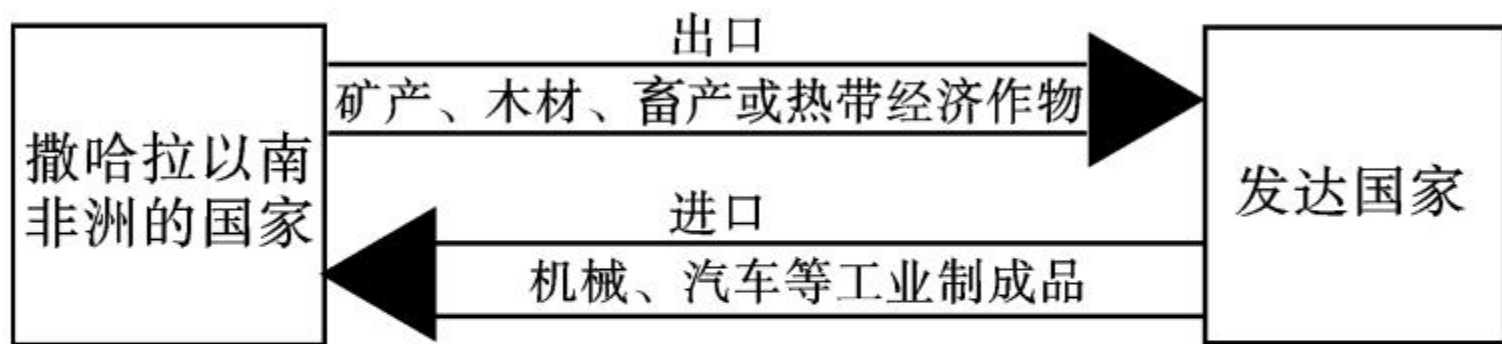
A. 控制周围的工业污染

B. 限制参观人数

C. 禁止在周围修建高大的现代建筑物

D. 在神庙雕像上刻写“xx到此一游”

13. 在国际经济秩序中,发达国家与发展中国家的经济合作并不是平等的,根据图中所示判断下列说法正确的是 ( )



- A. 撒哈拉以南非洲的国家在国际贸易中处于有利地位
- B. 发达国家主要以出口工业制成品为主,价格高,赚的钱多,使富国更富
- C. 撒哈拉以南非洲的国家大量出口矿产、农畜产

品,经济发展水平高

D. 发展中国家与发达国家之间的政治、经济商谈称为“南南合作”

14. 下列大洲中,发达国家最多的是 ( )



A. ①

B. ②

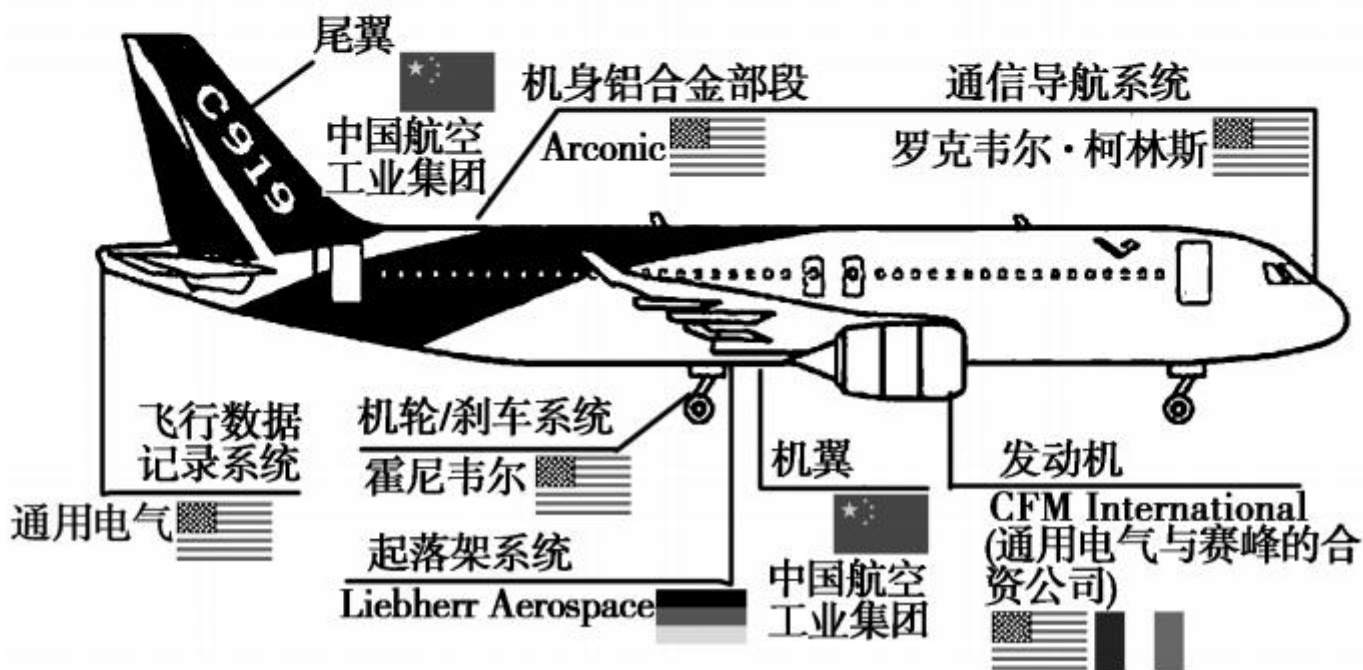
C. ③


D. ④

15. (2017年苏州市)2017年5月5日14时,我国自主研发的新一代喷气式大型客机C919在上海浦

东机场起飞。经过一个多小时的飞行后安全落地，首飞成功！下图为“C919 客机部分供应商示意图”，这说明 ( )

**中国制造，欧美协助**  
中国商飞C919客机供应商

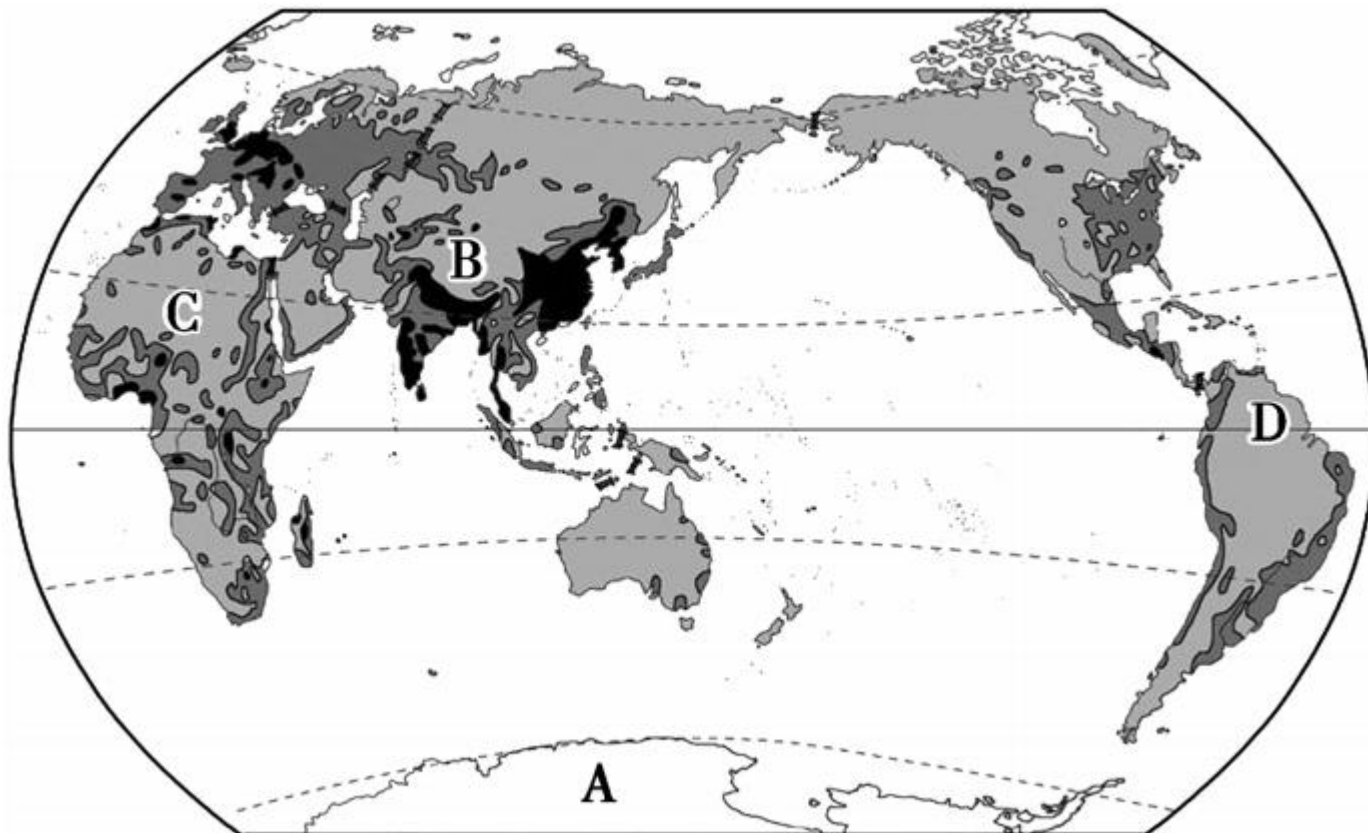


- 
- A. 国际竞争日趋激烈
  - B. 国际合作与经济全球化日益密切
  - C. 国际矛盾和冲突不断
  - D. 国与国之间经济各成一体

## 二、综合题(20分)

16. 世界人口分布很不均衡,人口增长的地区差异很大。读“世界人口分布图”,回答下列问题。(10

分)




人口密度(人/千米<sup>2</sup>) ■ >100 ■ 10~100 ■ <10 □ 无人定居区

(1)世界人口最稠密的地区是：亚洲的\_\_\_\_\_部和南部、欧洲的\_\_\_\_\_部、北美洲和南美洲的\_\_\_\_\_部等。(3分)

(2)将图中 A、B、C、D 四地填入表格。(4分)



字母	人口稀少的原因
	湿热的热带雨林
	寒冷的极地
	干旱的荒漠
	空气稀薄的高原



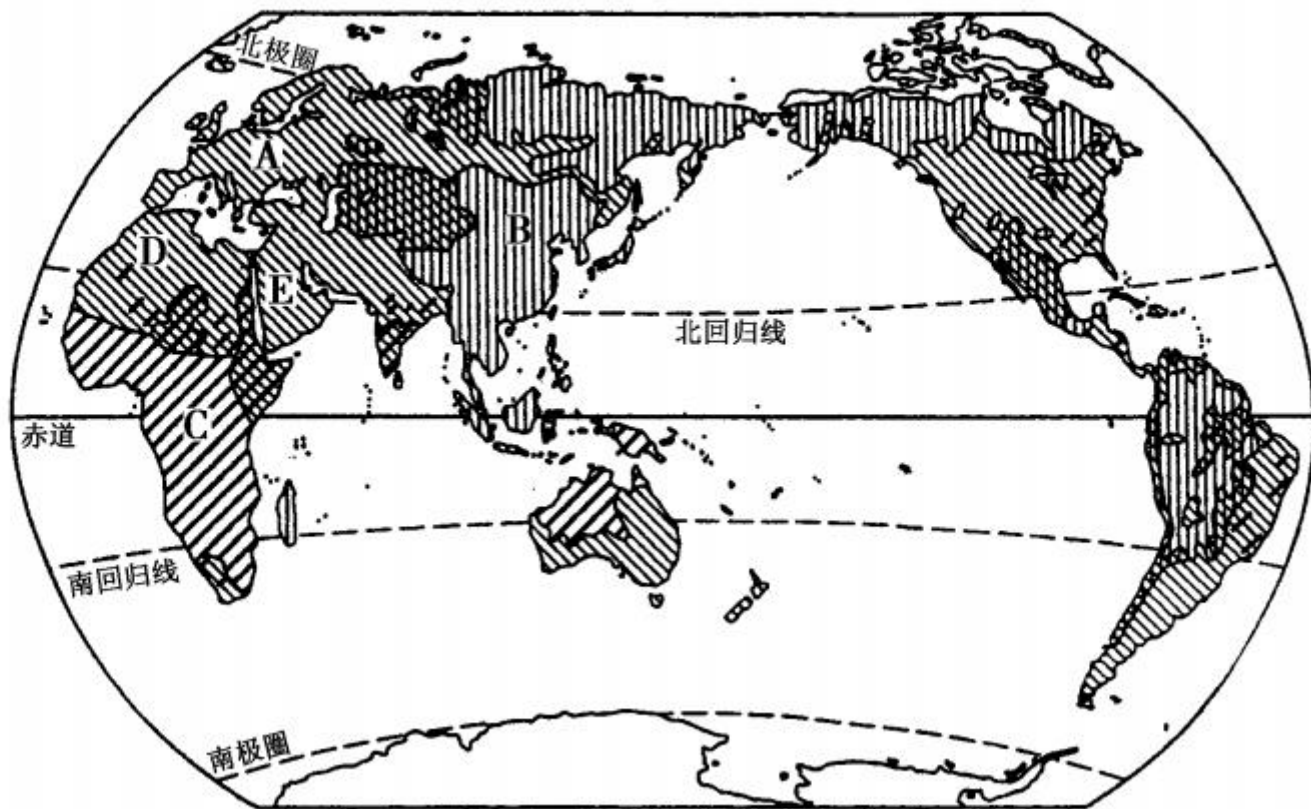


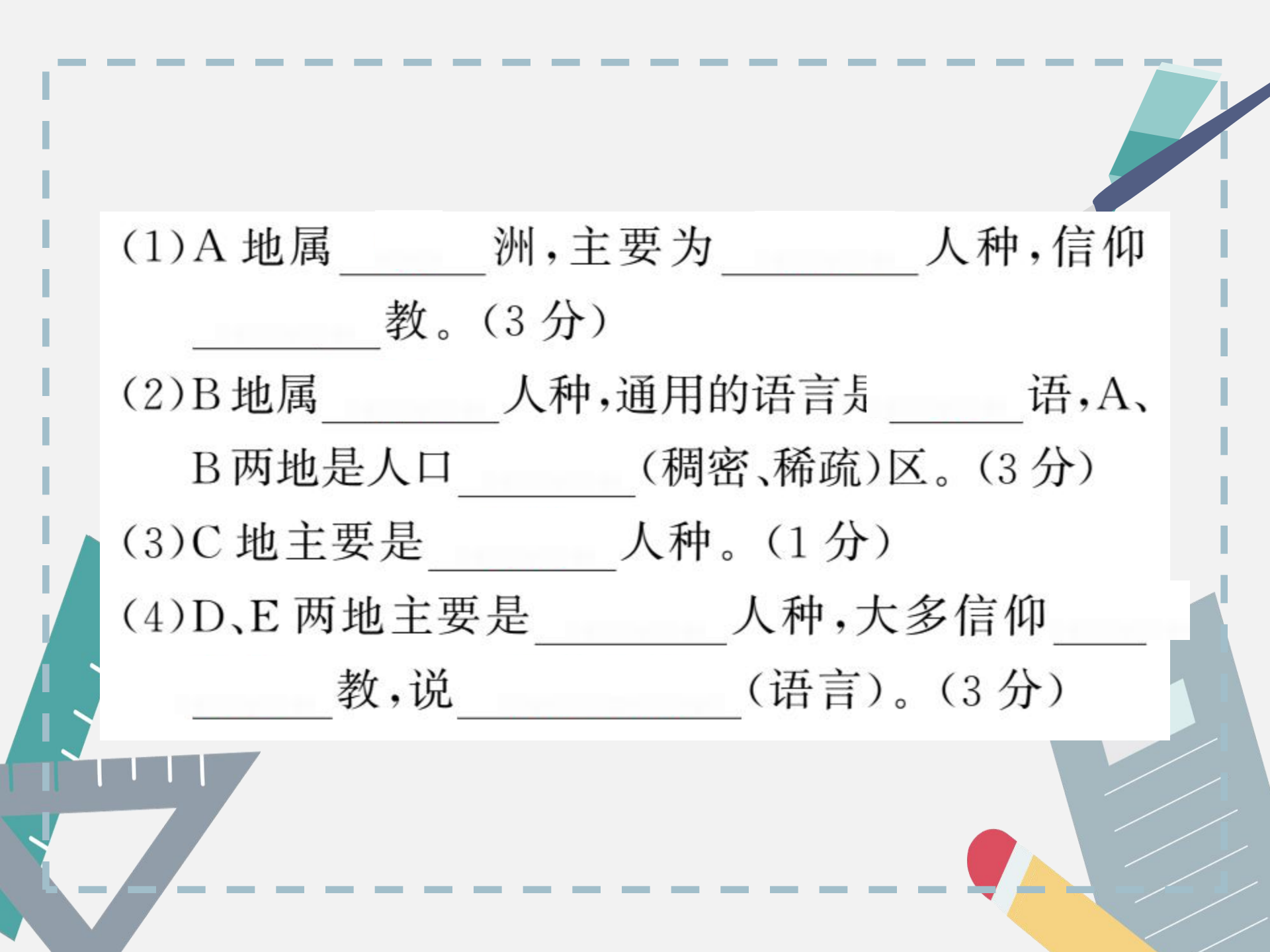
(3) 欧洲人口增长缓慢, 很多国家甚至出现负增长, 产生的人口问题有哪些? (1 分)

(4) 亚洲、非洲和拉丁美洲国家人口增长较快, 产生的问题是什么? 有何解决措施? (2 分)



17. 读“世界人种分布图”，完成下列问题。（10分）





(1) A地属\_\_\_\_\_洲,主要为\_\_\_\_\_人种,信仰\_\_\_\_\_教。(3分)

(2) B地属\_\_\_\_\_人种,通用的语言是\_\_\_\_\_语,A、B两地是人口\_\_\_\_\_ (稠密、稀疏)区。(3分)

(3) C地主要是\_\_\_\_\_人种。(1分)

(4) D、E两地主要是\_\_\_\_\_人种,大多信仰\_\_\_\_\_教,说\_\_\_\_\_ (语言)。(3分)