



第五章 发展与合作



知识梳理

一、地域发展差异

1. 发达国家与发展中国家的划分:根据_____的差异,大体可以把这些国家分为发达国家和发展中国家。

二、发达国家和发展中国家的分布

2. 发达国家的分布特点:主要分布在北半球的_____,以_____最为集中,北美洲的_____,加拿大,亚洲的_____,大洋洲的_____,新西兰。

3. 发展中国家的分布特点:主要分布在_____半球和北半球的_____。_____,南美洲、亚洲的绝大多数国家都是发展中国家。_____是最大的发展中国家。

三、国际经济合作

4. 国际经济合作的重要性:一方面,全球资源和能源的分布是_____的,各国的资金、技术、市场条件也_____。另一方面,很多国家的经济发展与其他国家_____。



基础方阵

知识点 1 地域发展差异

1. 下列大洲中经济发展水平最低的是 ()



A



B



C



D

2. 划分发达国家和发展中国家的依据是 ()

A. 国家土地面积大小

B. 国家人口多少

C. 国家历史长短

D. 国家经济发展水平的差异

3. 不管是发展中国家还是发达国家,经济发展水平都存在地域差异,下列哪一因素不是导致这一差异的原因 ()

A. 人种差异

B. 沿海与内陆位置差异

C. 自然环境条件差异

D. 受教育水平差异

知识点 2 发达国家和发展中国家的分布

4. 下列关于发达国家和发展中国家分布的叙述,正确的是 ()
- A. 北美洲都为发达国家
 - B. 发展中国家主要分布在亚洲、欧洲、非洲
 - C. 发达国家大多数分布在北美洲、欧洲、大洋洲
 - D. 目前,亚洲还没有发达国家
5. (2017 年龙东地区)世界上最大的发展中国家是 ()
- A. 巴西 B. 印度 C. 中国 D. 南非

知识点 3 国际经济合作

6. 和平和发展是当今世界两大主题,加强国际合作显得尤其重要,这是因为 ()
- A. 发达国家要从发展中国家购买全部原料,并售出全部产品
 - B. 发展中国家要引进全部资金、设备、技术和管理经验

C. 如果离开了某一大国,其他国家无法生存

D. 任何国家都不是孤立存在的,总与其他国家发生不同程度的联系

7. 关于“国际合作”的叙述,正确的是 ()

A. 发展中国家需要从发达国家购买原料、出售产品

B. 发达国家需要从发展中国家大量引进资金、设备等

C. 发达国家无需与其他国家进行交往与合作

D. 发达国家与发展中国家都需要进行积极的交往与合作

B 整合阅兵

8. 下列关于发达国家和发展中国家之间的差异的叙述,错误的是 ()
- A. 发达国家的工业以高新技术产业为主,发展中国家以初级加工制造为主
 - B. 发达国家农业采用大规模的机械化生产,发展中国家多采用半机械化或者手工生产
 - C. 发达国家服务设施完善,服务质量高,发展中国家服务设施落后
 - D. 发展中国家在任何方面都和发达国家差距甚远

9. 下列组织最不能体现“南南合作”的是 ()

A. 东盟(东南亚国家联盟的简称)

B. 上海合作组织(中国、俄罗斯以及中亚四国)

C. 欧盟(欧洲主要国家联盟的简称)

D. 金砖国家(俄罗斯、中国、巴西、印度和南非之间的合作)

10. (2017年泰安市)经济全球化成为世界经济发展的重要特征。下列描述符合国际经济合作的是

()

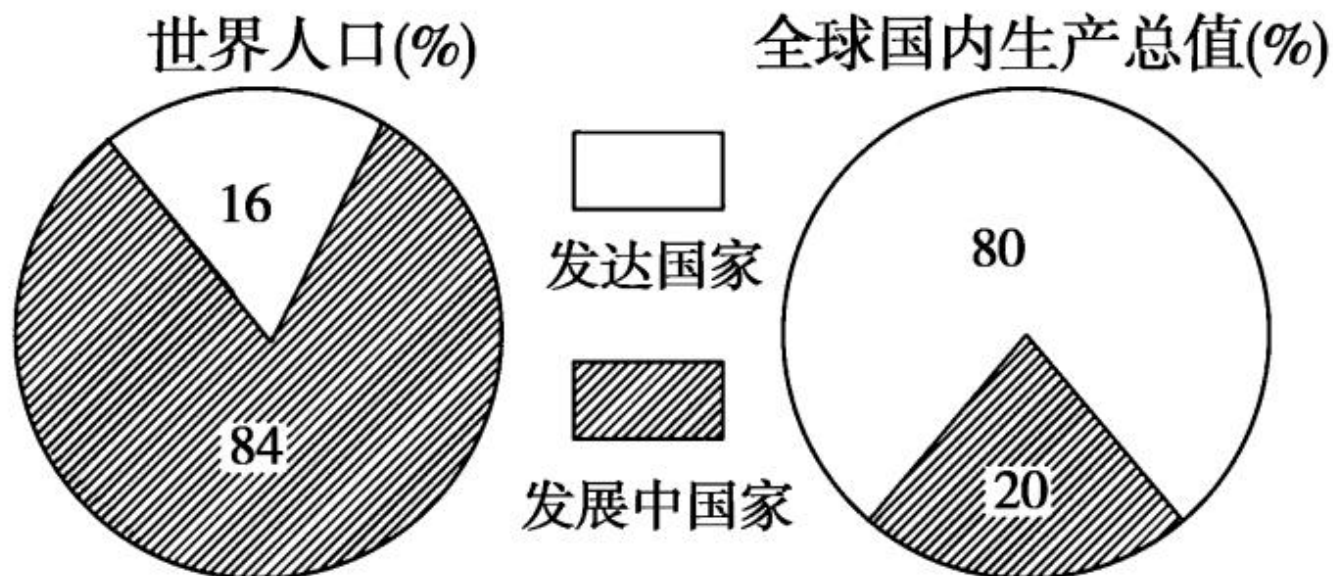
A. 许多发展中国家依靠自身的资源优势,大力发展了资源密集型产业

B. 发达国家凭借自身的科技优势,提升了经济发

展水平

- C. “一带一路”连接亚太经济圈和欧洲经济圈, 推进了沿线各国的经贸合作和文化交流
- D. 某品牌飞机的零配件全部来自本国, 实现了产
权自主化

11. 读“某年世界人口与全球国内生产总值比较图”, 完成下列问题。



(1)由图可知,发达国家人口约占世界总人口的_____%,而其国内生产总值却占到全球国内

生产总值的_____%。发展中国家人口约占世界总人口的_____%,而其国内生产总值仅占全球国内生产总值的_____%。

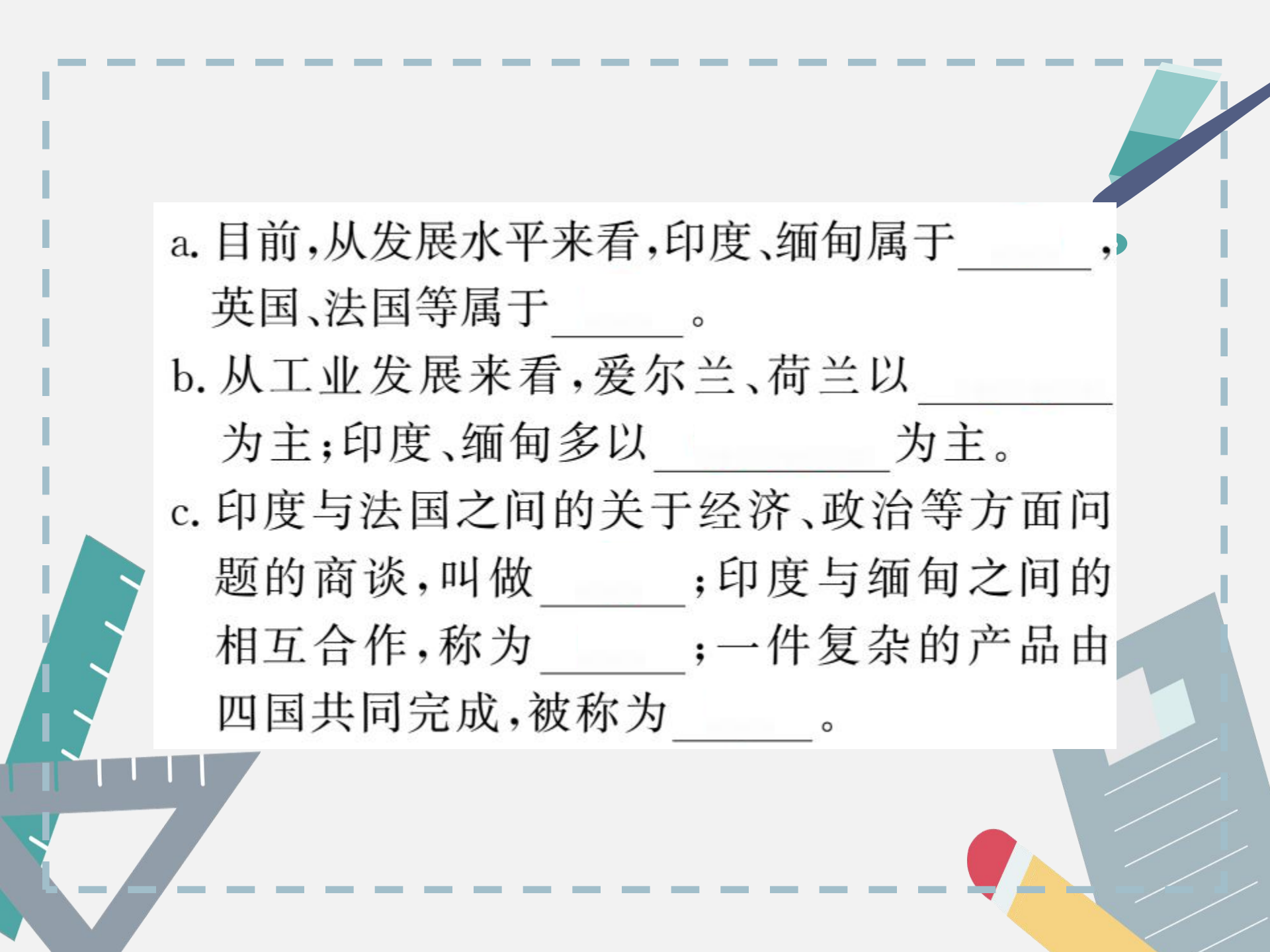
(2)下面是一些媒体用语,请将正确的代号填写在横线上。

①发达国家 ②发展中国家 ③资源型工业

④高新技术制造业 ⑤资源加工型工业 ⑥

劳动密集型产业 ⑦知识密集型产业 ⑧南

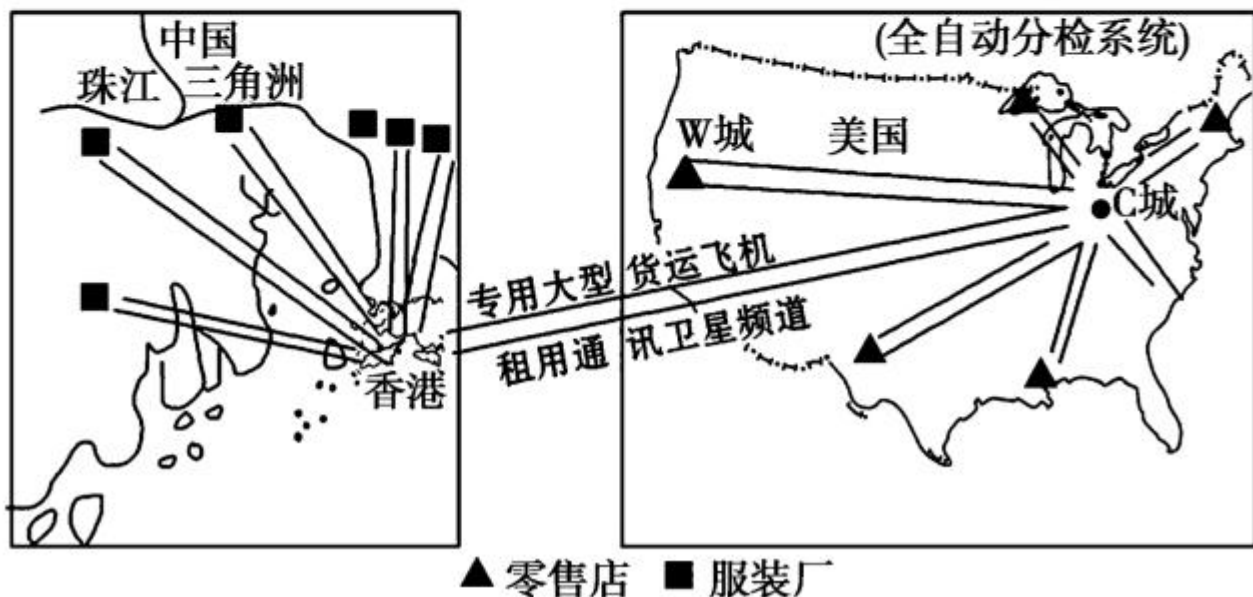
南合作 ⑨南北对话 ⑩国际合作

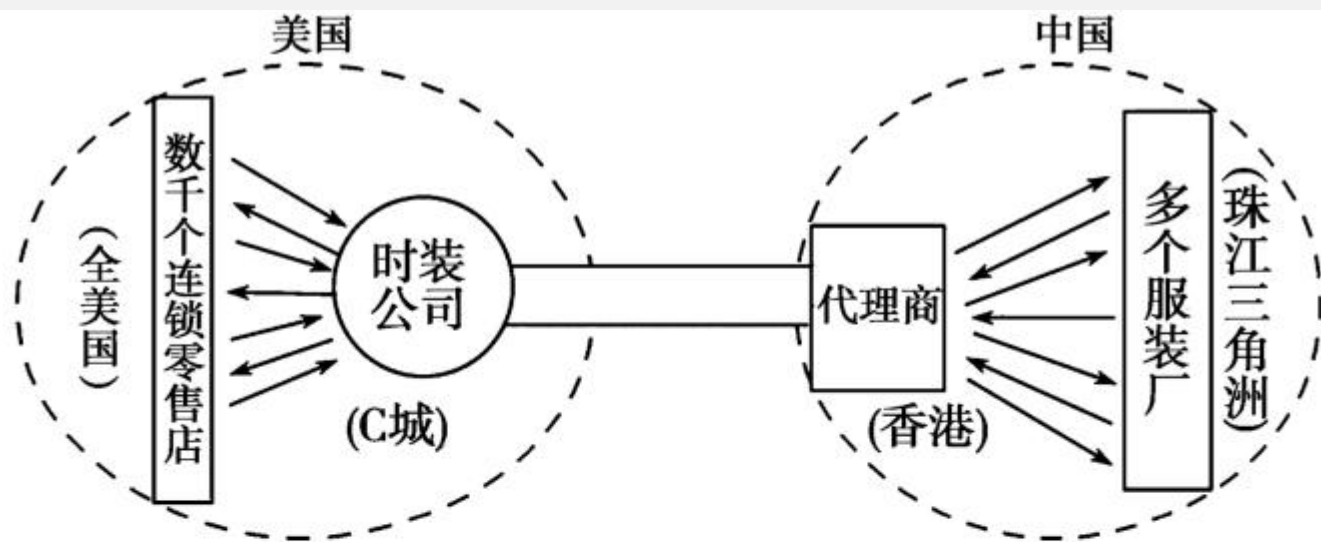
- 
- a. 目前,从发展水平来看,印度、缅甸属于_____,英国、法国等属于_____。
- b. 从工业发展来看,爱尔兰、荷兰以_____为主;印度、缅甸多以_____为主。
- c. 印度与法国之间的关于经济、政治等方面问题的商谈,叫做_____;印度与缅甸之间的相互合作,称为_____;一件复杂的产品由四国共同完成,被称为_____。

开放探究

12. 阅读下列材料，回答问题。

材料一 美国某服装企业生产、销售网络图





材料二 “2014 中国投资年会”于 2014 年 4 月 18 日在上海召开。与会经济专家表示，中国低成本参与国际分工的优势逐渐丧失。

(1)材料一表达的南北关系是_____。这也表明了现在经济的_____化。

(2) 材料一反映了各个国家、各个地区之间的经济联系越来越密切,使 _____、_____、_____、_____ 等成为全球共享的财富。

(3) 由材料二判断,该美国服装企业的生产加工应转向哪类国家?

(4) 针对中国当前的经济形势,你认为中国应怎样参与国际分工,才能使国民经济更快地发展?