



# 第四、五章 章末综述



## 考点突破

### 高频考点 1 世界人口

**【考情剖析】**主要考查的知识点有：①计算某地人口自然增长率和人口密度，并根据结果分析其产生的原因；②分析世界人口的分布及其影响因素；③联系热点问题或漫画，考查人口问题。题型有选择题和综合题。

## 【对应训练】

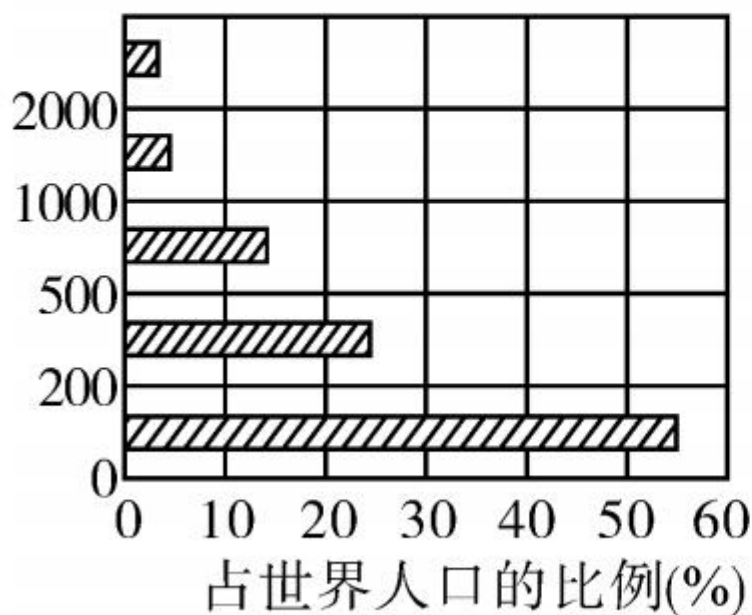
1. (2017 年甘肃省)有关世界人口的叙述正确的是

( )

- A. 发达国家因为富裕,人口增长快
- B. 发展中国家由于贫穷,人口增长慢
- C. 人口增长越慢越有利于经济发展
- D. 人口增长过快不利于经济发展

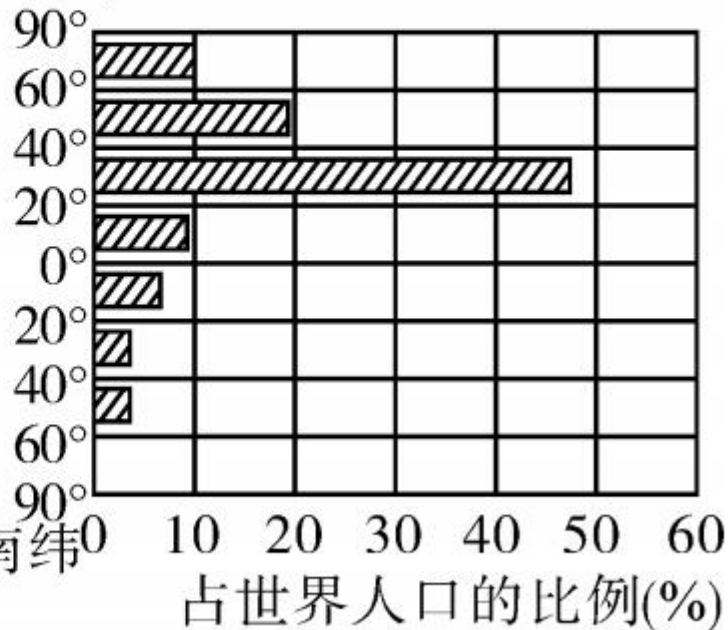
(2018年无锡市)世界人口分布不均匀,但又有一定的规律。读图甲和图乙,完成2~3题。

海拔(米)



甲

北纬



南纬

乙

2. 根据人口分布在不同海拔地区的情况推断,世界人口分布最多的地形类型是 ( )

A. 山地      B. 丘陵      C. 平原      D. 高原

3. 根据人口分布在不同纬度地区的情况推断,世界人口稠密区主要是 ( )

- A. 北半球高纬度地区
- B. 北半球中低纬度地区
- C. 南半球高纬度地区
- D. 南半球中低纬度地区

## 高频考点 2 世界的人种、语言和宗教

**【考情剖析】**常常结合社会热点问题、图片资料等考查世界人种、语言和宗教的分布,语言和宗教的特点等,主要以选择题和综合题的形式出现。

### **【对应训练】**

4. (2017 年聊城市)关于世界人种、语言、宗教的说法,正确的是 ( )
- A. 亚洲西部的居民以黄色人种为主
  - B. 世界三大宗教都发源于西亚
  - C. 非洲北部的居民以白色人种为主
  - D. 英语是世界上使用人数最多的语言

5. (2016 年包头市) 如图所示建筑是哪一宗教的活动场所 ( )



- A. 伊斯兰教
- C. 基督教

- B. 佛教
- D. 犹太教



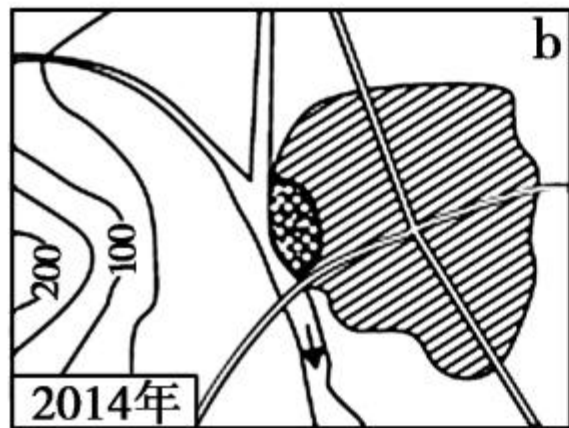
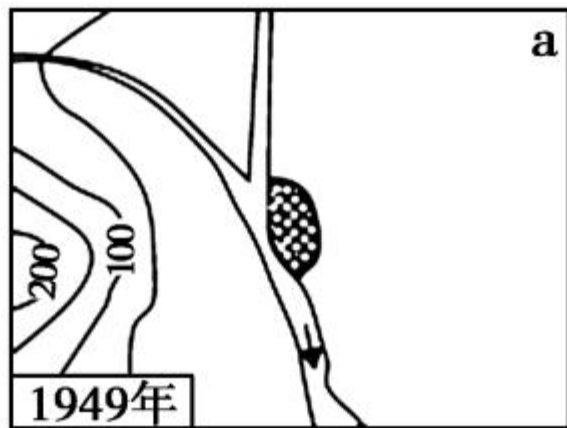
### 高频考点 3 人类的聚居地——聚落

**【考情剖析】**结合图片或材料,考查聚落形成的条件、聚落的分布及形态和怎样处理好聚落发展和保护的关系,另外运用图片考查学生对西亚的碉屋、东南亚的高脚屋、黄土高原的窑洞、北极地区的冰屋等特色民居及其与自然环境的认识。题型多为选择题。



## 【对应训练】

6. (2017年湘潭市)下图为“某区域变化示意图”。城区由图 a 向图 b 变化的主要影响因素是 ( )



- A. 交通      B. 河流      C. 气候      D. 地形

7. (2017年连云港市)下列民居景观图中,反映当地湿热环境的是 ( )



A



B



C



D

### 高频考点 4 发展与合作


**【考情剖析】**结合热点和时政材料,考查发达国家和发展中国家的差异、划分、分布,以及加强国际经济合作的重要性。题型多为选择题。

### 【对应训练】

8. (2017年宿迁市)小李新买了辆美国某品牌汽车,

下图为该品牌汽车说明书,该说明书表明了( )

零部件: 巴西、意大利      组装: 中国  
外观设计: 德国设计师      销售地: 世界各地



美国某品牌汽车说明书

- A. 国际竞争日益激烈
- B. 经济联系促进国际合作
- C. 国际矛盾和冲突剧烈
- D. 国家间经济独成一体